



Moalem.klasaval.persianblog
 از کلاس ما چه خبر!
 www. .ir

پیک نشانه ها ۶



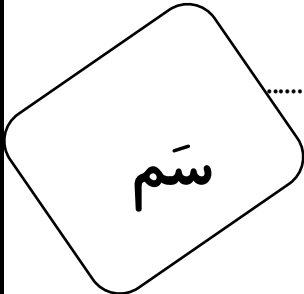
.....

نام :

نام خانوادگی :


کلاس اول

دبستان :



نام تصاویر زیر را بنویس .

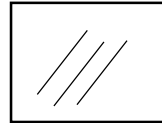
Moalem.klasaval.persianblog
 از کلاس ما چه خبر!
 www. .ir



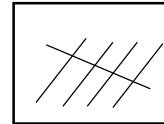
.....

به تعداد چوب خط ها نام شکل ها را بنویس .

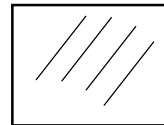
www. .ir



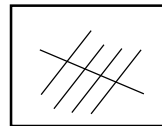

.....



.....



.....



.....



مرتب کن



داد - آدامس - سوباسا -

آسب - داماد - آمد - با -

بادام - داد - آسما - با - آب -

کلمه های سمت راست را از بین کلمه های سمت چپ پیدا کن و دور آنها خط بکش



سَمَا - سام = سیبا

سام

آسَد - آسَبَد - آسَد

آسَد

سَمَا - سَبَد - سَم

سَبَد

سَبَا - سیبا - سَنَا

سَبَا

آسَمَا - سَمَا -- سام

سَمَا



آسَب - آسَب - آسَب

آسَب

سَم - سَمَا - آسَمَا

سَم




ترکیب کن.



با توجه به تصاویر، کلمات را بخوان و به جای نشانه ی "س" در

کلمات دقت کن. و نشانه ی "س" را قرمز کن.

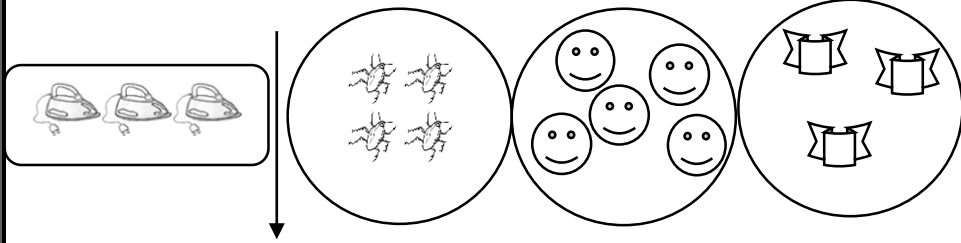


		
داس	سگ	اتوبوس

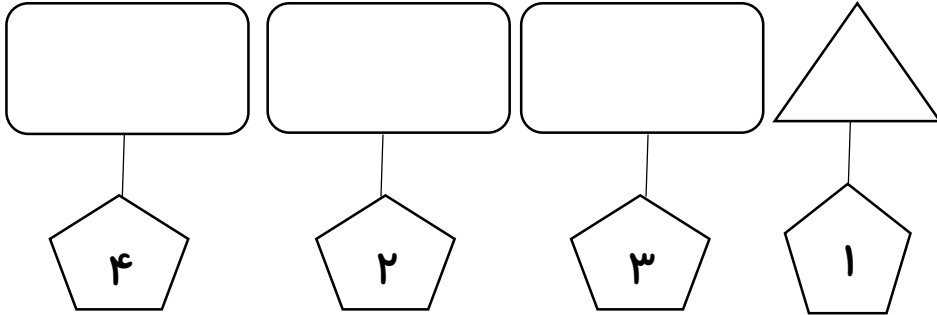
تصاویری که صدای سس دارند رنگ بزن




در هر قسمت به اندازه اتوها از شکل ها رنگ بزن .



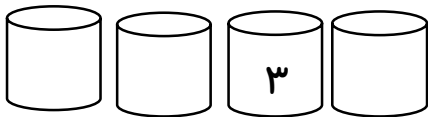
به تعداد عدد نوشته شده در خانه ها شکل بکش .



دور عدد مناسب خط بکش .



قبل و بعد از عدد ۳ چند است بنویس .



۳

جدول
سیب

جواب ها را بصورت صداهای جدا از هم بنویس .

۱- جانوری است که برای سواری استفاده می شود.


۲- کشاورزان در زمان قدیم با این وسیله گندم درو می کردند .

۳- برای جلوگیری از به هدر رفتن آب کنار رودخانه می ساختند .



۶- به معنی کافی است .

۷- به معنی زهر است و مارها با آن طعمه ی خود را می کشند.



۶

بخوان و بنویس .



۱-۱.....




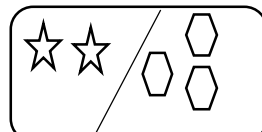
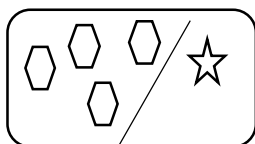
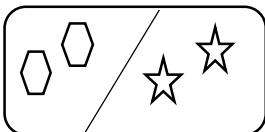
۲-۲.....

۳-۳.....


۴-۴.....

۵-۵.....

شکل های سمت چپ و راست روی هم چند تا می شود ؟ با عدد نشان بده



جدول های شگفت انگیز را کامل کن .



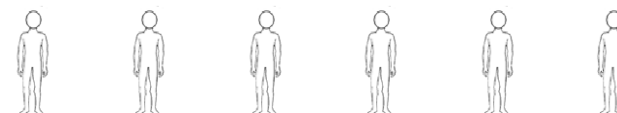
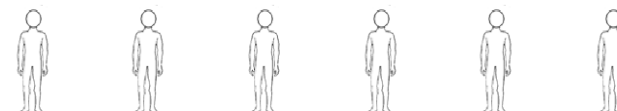

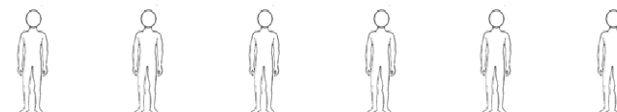

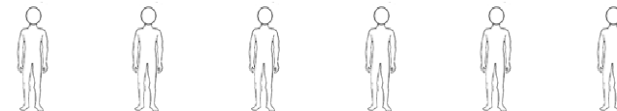

۱	۲	۳	
			۲
۴			۳
۲		۴	

۵

تعداد ستاره ها و سرها با هم چند تا می شود؟ به همان اندازه از آدمک های

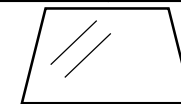
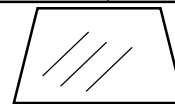
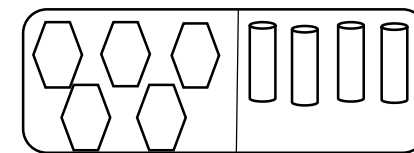



سمت راست بزن



به تعداد چوب خط ها از شکل های سمت چپ خط بزن ، به تعداد باقی مانده از شکل

های سمت راست رنگ بزن



۴