

با کلمات زیر جمله بساز .

دلپذیر :

اذان :

لذیذ :

لذت :

با اضافه کردن نقطه به اندازه ی دلخواه به نشانه های زیر، نشانه های

جدید بساز:

ج - س - ب -

ف - ر - ن -

ز - د - ی -



نام :


نام خانوادگی :

کلاس اول

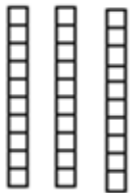
دبستان :



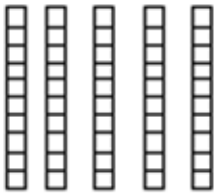
ذرت



یکی	ده تایی



یکی	ده تایی



یکی	ده تایی



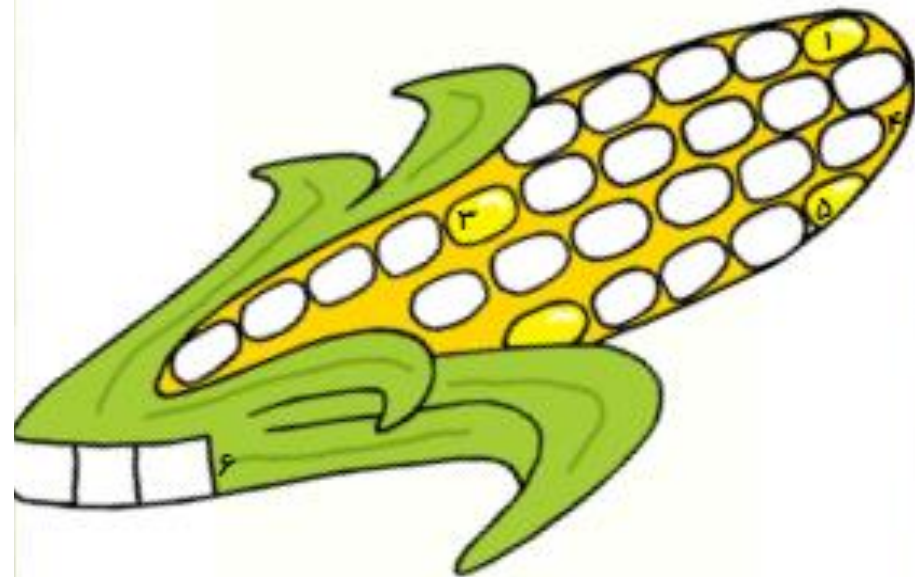
۱- به معنی خوش مزه و خوش طعم است.

۲- به وقت و زمانی که سپری شده است می گویند.

۳- وقت نماز که فرا می رسد صدای آن را از مسجد می شنویم.

۵- نام دختری که در درس ، سفر دل پذیر ، آمده است.

۶- نام تصویر این جدول.



جدول زیر را کامل کن .



۳۷		۴۹		عدد
	هشتاد و سه		شصت و چهار	حروف

از ۶۰ شروع کن و ۵ تا ۵ تا به عقب برگرد. آخرین عدد کدام عدد است؟.....

از ۴۰ شروع کن و ۳ تا ۳ تا به عقب برگرد. آخرین عدد کدام عدد است ؟.....

جمع و تفریق های زیر را انجام بده .



$10 + 5 = \dots\dots\dots$

$20 - 5 = \dots\dots\dots$

$5 + 10 + 5 + 3 = \dots\dots\dots$

$10 + 10 - 5 = \dots\dots\dots$

$5 + 5 + 5 + 5 + 5 = \dots\dots\dots$

$10 + 20 + 10 + 20 = \dots\dots\dots$

جواب جمع های زیر را بنویس ، مقایسه کن و دور علامت مناسب خط بکش



$30 + 20 = \dots\dots\dots$

< = >

$40 + 5 = \dots\dots\dots$

$10 + 20 = \dots\dots\dots$

< = >

$10 + 10 + 10 = \dots\dots\dots$

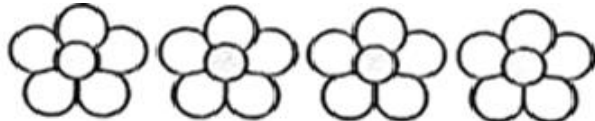
$20 + 20 = \dots\dots\dots$


< = >


$20 + 5 + 20 = \dots\dots\dots$

با استفاده از دو رنگ مختلف ، حاصل جمع ها را بنویس .





$8 + 9 = \bigcirc$


$5 + 9 = \bigcirc$


$9 + 7 = \bigcirc$


با استفاده از خط زدن ، حاصل تفریق ها را بنویس .

$18 - 7 = \bigcirc$


$20 - 12 = \bigcirc$


$15 - 8 = \bigcirc$


$13 - 9 = \bigcirc$
