




تصویر زیر را به دلخواه رنگ بزن .

نام :

نام خانوادگی :

کلاس اول

دبستان :



حلزون

برای هر نشانه چهار کلمه بنویس .



ه ه

.....

.....

.....

.....

.....

ح ح

.....

.....

.....

.....

.....

ه ه

.....

.....

.....

.....

.....

ترکیب کن.



Handwriting practice cards for the letter 'ح' (Ha) with various diacritics:

- حَ (with fatha) and حِ (with kasra) - blank box for writing
- حُ (with damma) and ح (without diacritics) - blank box for writing
- ح (without diacritics) and ح (without diacritics) - blank box for writing
- ح (without diacritics) and ح (without diacritics) - blank box for writing
- ح (without diacritics) and ح (without diacritics) - blank box for writing
- ح (without diacritics) and ح (without diacritics) - blank box for writing

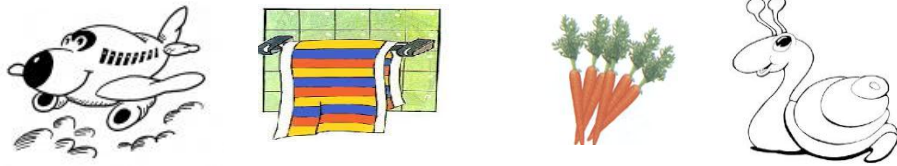
به تصاویر، کلمات را بخوان و به جای نشانه "ح ح" در

کلمات دقت کن .



صبح	صبحانه	حلزون

نام تصاویر را بنویس .



Four empty rectangular boxes for writing the names of the objects above.

با کلمات داده شده جاهای خالی را کامل کن .



Word cards in star shapes: صبحانه (Breakfast), حوله (Towel), گوش (Ear), خندان (Happy).

محمد به صحبت معلم داد.

حنانه با دست و صورتش را

ریحانه قبل از رفتن به مدرسه می خورد .

احمد همیشه خوش حال و است .

اول کلمات را بخوان و بعد با خط کش به تصویر آن وصل کن

www.papoohe.com



تسبیح

حنا بندان

حلقه

دوش حمام

در درست کردن کدام یک از وسایل زیر از خاک استفاده شده است؟ علامت (x) بزن

www.papoohe.com



۶

جواب ها را بصورت صداهای جدا از هم بنویس.

جدول از کلاس ما چه خبر! www.papoohe.com

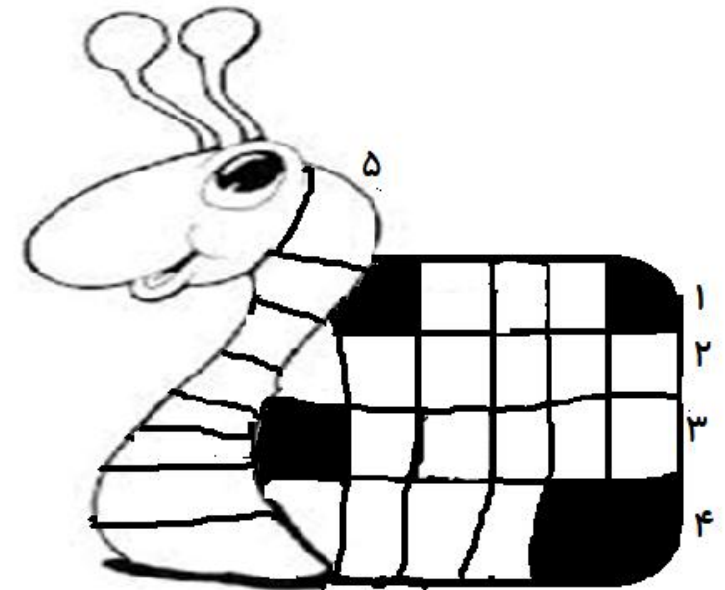
۱- در این موقع از زمان خورشید طلوع می کند.

۲- وعده غذایی صبح

۳- تصویر این جدول

۴- غذای نذری عاشورا

۵- نام امام سوم شیعیان





۳

در این دو تصویر ده تفاوت است آنها را پیدا کن و علامت بزن .



ایا می توانی ده تفاوت بین دو تصویر زیر پیدا کنی؟



۵

ریاضی | هر کدام از ساعت های زیر چه زمانی را نشان می دهند



یک ساعت رسم کن که ۱۱ صبح را نشان دهد .

جواب هر عدد را با چوب خط بدست بیاور



$$۸+۹+۱۳ =$$

$$۹+۸+۵ =$$

۴