

۱- هر عدد را در جای مناسب خود بنویسید.

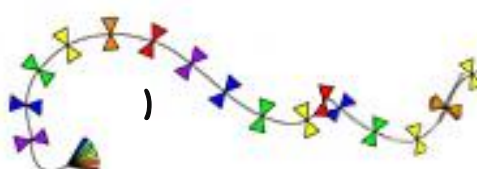
Numbers scattered around the page:

- ۸, ۷۶, ۶۷, ۷, ۵۷۲, ۷۲
- ۱۸, ۱۹, ۵, ۲۴, ۶, ۱۵۳, ۱
- ۹۰۴, ۳, ۸۱, ۳۰, ۰
- ۶۲۹, ۲۴۷, ۲
- ۳۰۱, ۲۳, ۳۹۰
- ۷۸۲, ۶۸۱
- ۴۵, ۴, ۹
- ۴۷۶

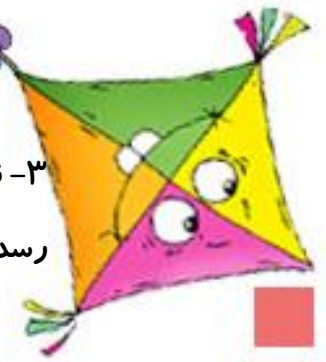
					عددهای یک رقمی زوج
					عددهای یک رقمی فرد
					عددهای دو رقمی زوج
					عددهای دو رقمی فرد
					عددهای سه رقمی زوج
					عددهای سه رقمی فرد

۲- جدول را کامل کنید.

۹۹	-۱	□	-۷	□	-۶	□
↓		↓		↓		↓
-۱۵		-۱۵		-۱۵		-۱۵
↓		↓		↓		↓
□	-۱	□	-۷	□	-۶	۷۰
↓		↓		↓		↓
-۱۵		-۱۵		-۱۵		-۱۵
↓		↓		↓		↓
□	-۱	□	-۷	۶۱	-۶	□



۳- نانوای سحرخیز، ساعت ۵:۳۵ از خانه بیرون آمده و ۲۰ دقیقه بعد به محل کارش می
رسد. او چه ساعتی به محل کارش می رسد؟



۴- وقتی ساعت ۸:۲۰ باشد. عقربه ی کوچک کمی بعد از و عقربه ی بزرگ روی عدد است

۵- جاهای خالی را با کلمه های مناسب پر کنید.

یک ساعت، نیم ساعت است.

یک ساعت، دقیقه است.

نیم ساعت، دقیقه است.

عقربه ی کوچک ساعت، عقربه ی شمار است.

عقربه ی بزرگ ساعت، عقربه ی شمار است.

۶- وقتی خانم معلّم می گوید: «نیم ساعت فرصت بازی داری» یعنی چند دقیقه وقت داری؟

علوم

۱- ماده جا می گیرد یعنی چه ؟

۱) شکل آن

۲) مقدار جایی که اشغال می کند.

۲) زندگی موجودات زنده به کدام یک بستگی دارد؟

۱) درخت

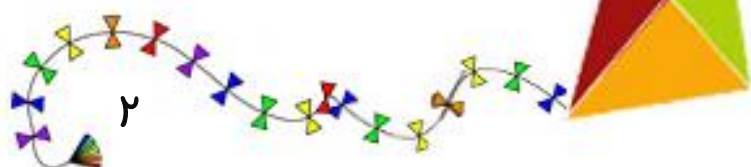
۲) خاک

۳) سنگ

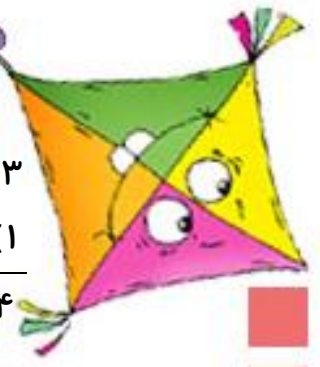
۴) هوا

۴) رنگ آن

۳) تعداد آن



پایه دوم



۳) آب روی کدام یک از مواد اثر نمی گذارد؟

- ۱) نمک ۲) شیشه ۳) گچ ۴) آرد

۴) غذا در کجا باید نگه داشته شود تا سالم بماند؟

- ۱) کابینت ۲) کمد ۳) یخچال ۴) هیچ کدام

۵) کدام یک از مواد چربی را بهتر پاک می کند؟

- ۱) آب سرد ۲) آب گرم و شوینده ۳) شوینده ۴) آب ولرم

۶) کدام یک از مواد دور ریختنی بازیافت می شود؟

- ۱) پوست میوه ۲) سبزی ۳) غذا ۴) آب ولرم

۷) چرا باید زباله ها را جدا کرد؟

- ۱) برای راحتی ۲) برای بازیافت ۳) برای حمل ۴) برای پخش

۸) کدام عامل در تولید بوی بد زباله ها موثر است؟

- ۱) گرما ۲) شب های طولانی ۳) سرما ۴) روزهای برفی

۹) اگر زباله ها را به موقع بیرون نگذاریم ، چه می شود؟

- ۱) بیمار نمی شویم ۲) بیمار می شویم ۳) اتفاقی نمی افتد ۴) خوشحال می شویم



با هر دسته از کلمه های زیر یک جمله بنویس.

فروردین - میوه:

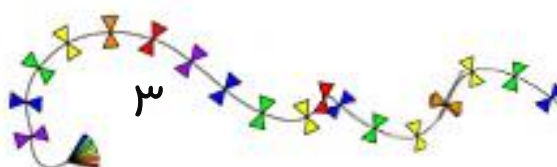
.....

ایران - میهن:

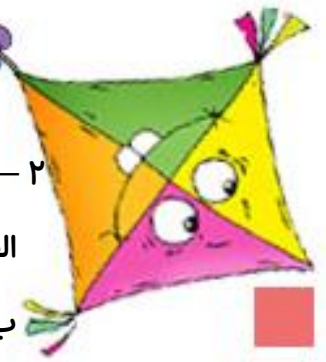
.....

باران - زمین:

.....



پایه دوم



۲ - جمله ها را با یکی از کلمات داخل کمانک کامل کن.

الف) دانش آموزان (هر هفته - هر ماه) پنج روز به مدرسه می روند.

ب) ایرانیان (هر ماه - هر سال) جشن نوروز را اول فروردین برگزار می کنند.

ج) دانش آموزان کلاس دوم (امسال - پارسال) در کلاس اول درس می خواندند.

۳ - معنی کلمه های زیر را بنویس.

الف) فداکاری یعنی :

ب) برق کار یعنی :

ج) نا امید یعنی :

د) نا آرام یعنی :

۴ - ادامه ی داستان را بنویس.

در یکی از روزهای فصل بهار که

.....

.....

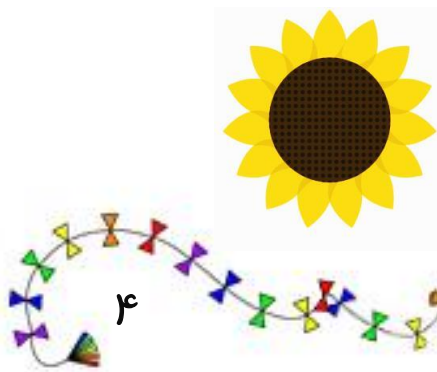
۵ - به جای (ک) در کلمه ی کاه حرف دیگری قرار بده . چند کلمه ی با معنا می توانی بسازی؟ آن ها را

برایم بنویس.

.....

.....

.....



پایه دوم

پیش دبستان و دبستان غیر دولتی کوهن