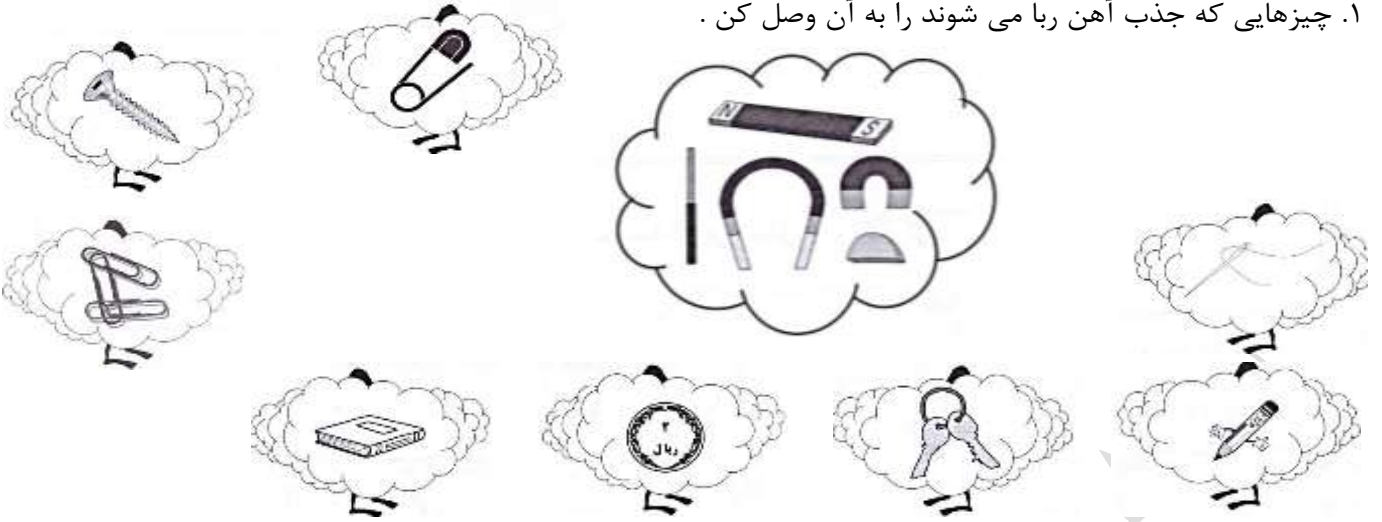
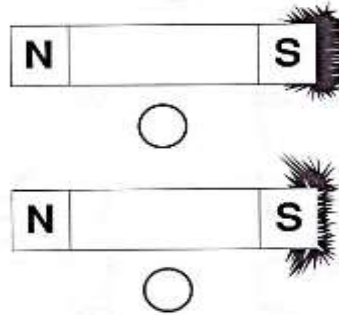





۱. چیزهایی که جذب آهن ربا می شوند را به آن وصل کن .



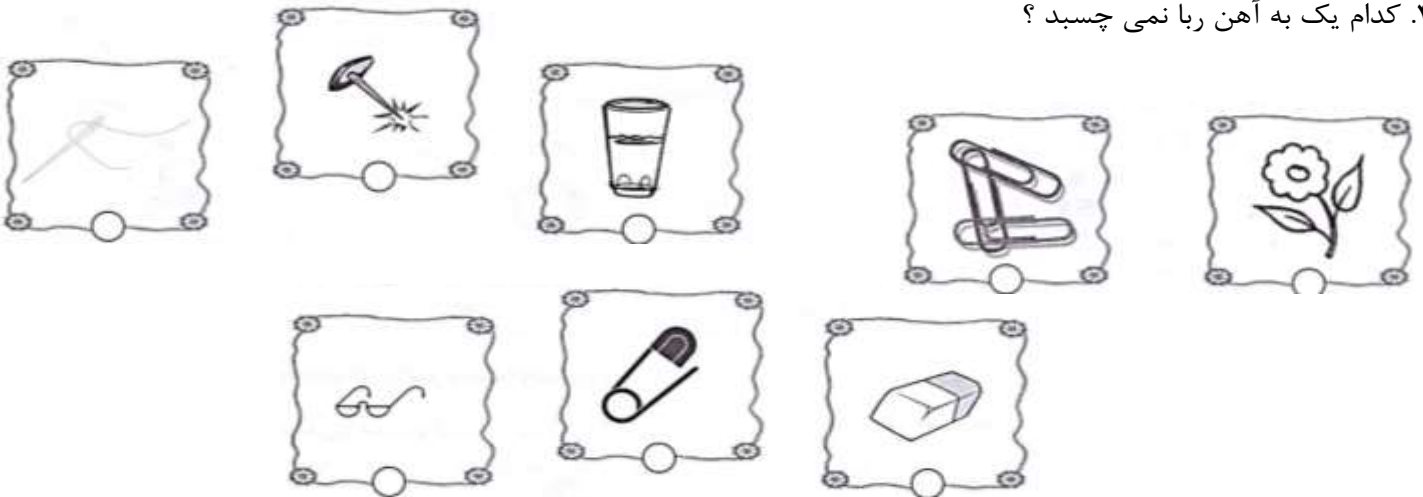
۲. کدام آهن ربا ضعیف تر است ؟ رنگ بزن .






۳. شکل های مختلف آهن ربا را بکش .




۴. کدام یک به آهن ربا نمی چسبد ؟



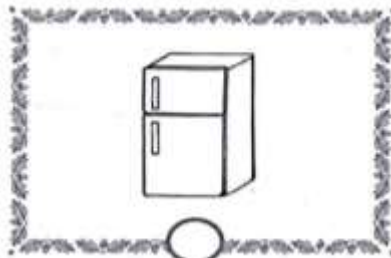

۵. دو چیز به وسایل جدول اضافه کن و جدول را کامل کن .

| نام وسایل | آهن ربا آن را می ربايد | آهن ربا آن را نمی ربايد |
|---|------------------------|-------------------------|
|  | | |
|  | | |
|  | | |
| | | |
| | | |


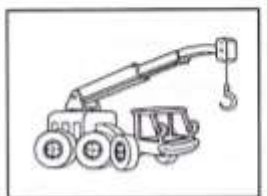
۶. دو آهن ربا را به هم نزدیک کن . کدام آهن ربا ها به هم می چسبند .



۷. در کدام یک از وسایل زیر آهن ربا به کار رفته است ؟ رنگ بزن .



۸. کدام یک از وسایل زیر برای بلند کردن تیر آهن مناسب است ؟ به آن وصل کن .



۹. به وسایل مدرسه ات نگاه کن، کدام یک جذب آهن ربا نمی شوند؟ نام آن ها را بنویس و شکل آن ها را بکش .

| نام وسایل | |
|-----------|--|
| | |

۱۰. چگونه می توان گیره را از داخل بطری خارج کرد ؟ در یک جمله بنویس .

.....

ارزشیابی معلّم:

| | | | |
|--------------------------|---------------|--------------------------|---------------------|
| <input type="checkbox"/> | در حدّ انتظار | <input type="checkbox"/> | نزدیک به حدّ انتظار |
| <input type="checkbox"/> | نیازمند تلاش | | |

نظر ولی:

مدت زمان انجام کار:.....
تاریخ: