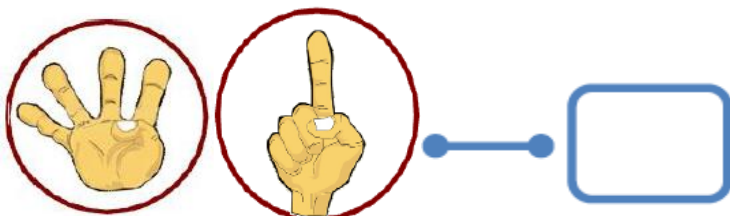
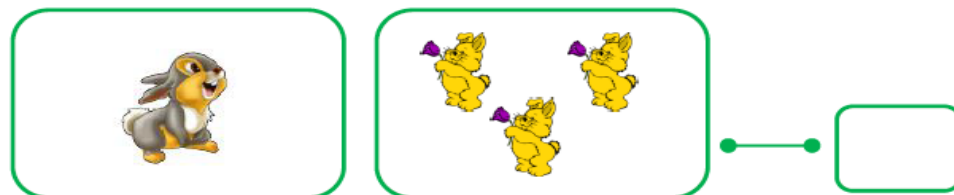
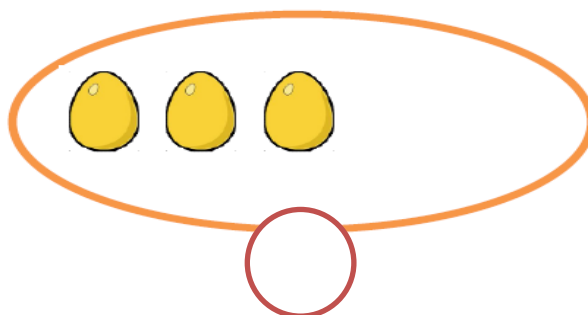
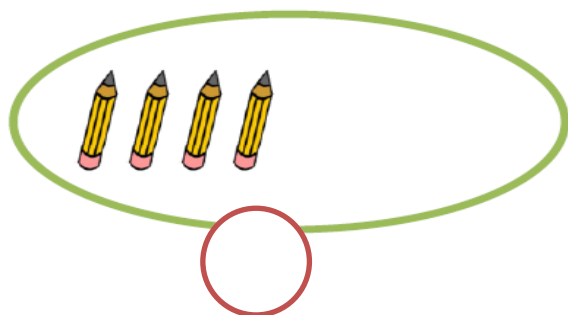



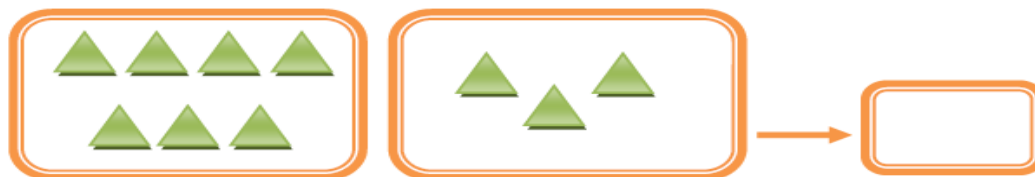

شکل های سمت چپ و راست روی هم چندتا می شود چوب خط آن را بکش.



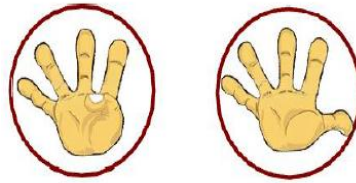

به هر دسته دو تا اضافه کن و تعداد آن را در دایره ی زیرش بنویس.



جمع دسته های سمت چپ و راست روی هم چندتا می شود در مقابل آن بنویس.



جمع های زیر را انجام بده.



$$\square + \square = \square$$

$$\square + \square = \square$$

به تعداد عددهای سمت چپ قرمز و به تعداد عددهای سمت راست آبی رنگ کن و آن را حساب کن.

$$\square \square \square \square \square \quad \square \square \square \square \square \quad 3 + 4 = \square$$

$$\square \square \square \square \square \quad \square \square \square \square \square \quad 6 + 3 = \square$$

$$\square \square \square \square \square \quad \square \square \square \square \square \quad 5 + 3 = \square$$

زیر هر عدد دو عدد بنویس که جمع آن ها عدد بالای جدول باشد.

5	

8	

10	

مربع ها را به تعداد خواسته شده رنگ کن و جواب جمع ها را بنویس.

$$\square \square \square \square \square \quad \square \square \square \square \square \quad \square \square \square \square \square$$

$$4 + 3 + 4 = \square$$

$$\square \square \square \square \square \quad \square \square \square \square \square \quad \square \square \square \square \square$$

$$6 + 2 + 7 = \square$$

با چوب خط جواب جمع ها را پیدا کن و بنویس.



$$\text{---} + \text{---} + \text{---} = \text{---}$$



$$\text{---} + \text{---} + \text{---} = \text{---}$$

جمع های زیر را به کمک محور انجام بده.



$$1 + 8 = \text{---}$$



$$5 + 3 = \text{---}$$

جمع مربوط به چوب خط های زیر را انجام بده.

+=

+


=

+=

+

=

با استفاده از دورنگ جواب جمع ها را پیدا کن.

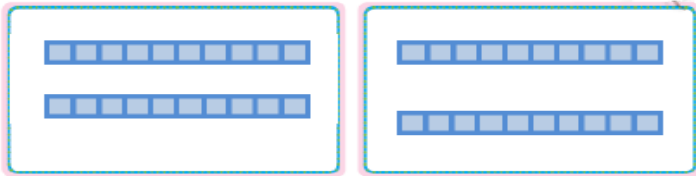


$12 + 7 = \dots$



$11 + 6 = \dots$

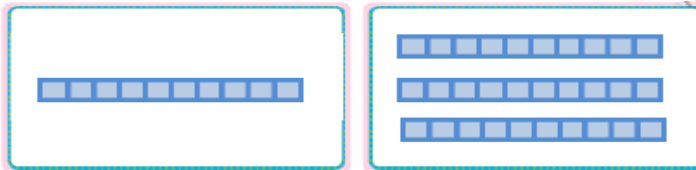
جواب جمع های زیر را بنویس.



$40 + 10 = \dots$



$50 + 30 = \dots$



$40 + 30 = \dots$



$20 + 50 = \dots$

حاصل جمع ها را حساب کن.

$25 + 10 = \text{[]}$

$10 + 5 = \text{[]}$

$20 + 5 + 5 = \text{[]}$

$5 + 5 = \text{[]}$

با چوب خط جمع بزن.

$6 + 5 + 8 = \text{[]}$

$3 + 9 + 4 = \text{[]}$

رد یف	انتظارات	کامل یاد گرفته	در حد قابل قبول یادگرفته	نیاز به آموزش مجدد دارد
۱	مفهوم جمع را می شناسد.			
۲	قادر به انجام جمع های تا حاصل ۵ می باشد.			
۳	قادر به انجام جمع با شکل می باشد.			
۴	قادر به انجام جمع دو عدد یک رقمی با چوب خط می باشد.			
۵	قادر به جمع سه عدد یک رقمی می باشد.			
۶	قادر به جمع دو عدد با حاصل بیشتر از ۱۰ تا می باشد.			
۷	قادر به انجام جمع با محور می باشد.			
۸	قادر به انجام جمع های نظام دار می باشد.			
۹	قادر به انجام جمع مضرب های ۱۰ و پنج با شکل می باشد.			
۱۰	قادر به انجام جمع مضرب های ۱۰ و پنج بدون استفاده از شکل می باشد.			

بازخورد معلم:

خود سنجی:

همسال سنجی: