

گل قشنگم ، جدول ها را با نوشتن عدد مناسب کامل کن.

عزیزم ، شکل را طوری کامل کن که دو

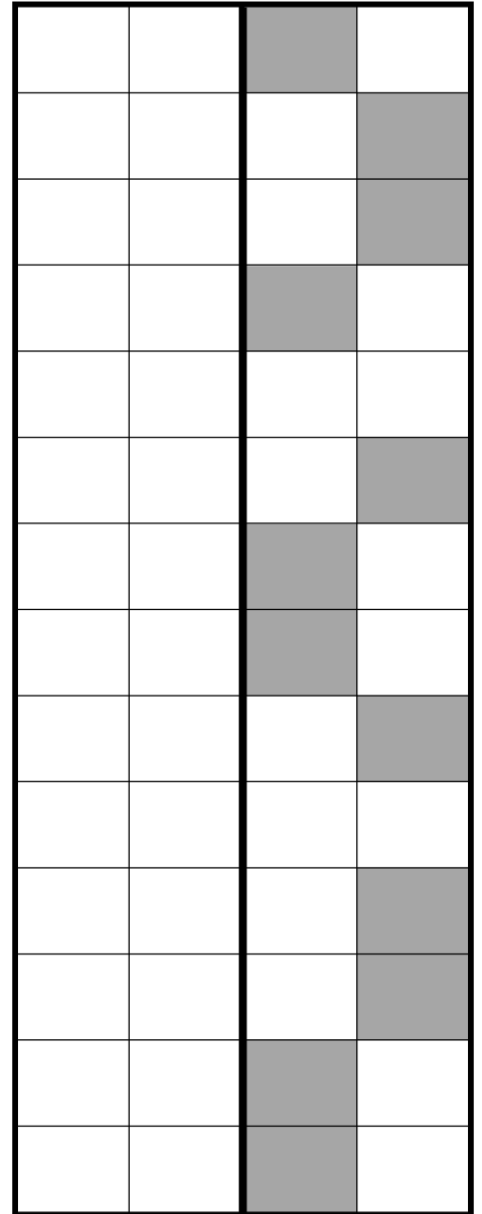
نیمه ی آن مثل هم باشد .

(می توانی از چوب خط یا نی برای به دست آوردن پاسخ استفاده کنی)

۶	



۷	



عزیزم ، از ۱ تا ۱۰ دوبار به ترتیب بنویس .

فرزند باهوشم ، علامت $< = >$ را در جاهای مناسب قرار بده .

$۶ \square ۸$

\square

$۹ \square ۶$

$۳ \square ۵$

$۵ \square ۴$

$۲ \square ۸$

$۶ \square ۶$

$۴ \square ۷$

$۹ \square ۹$

$۶ \square ۳$

$۸ \square ۸$


$۷ \square ۶$

$۷ \square ۶$

$۷ \square ۹$

$۱ \square ۲$

$۹ \square ۸$



نام :

درس : ریاضی

طراح : زهرا جعفری

نام خانوادگی :

کلاس : یاس

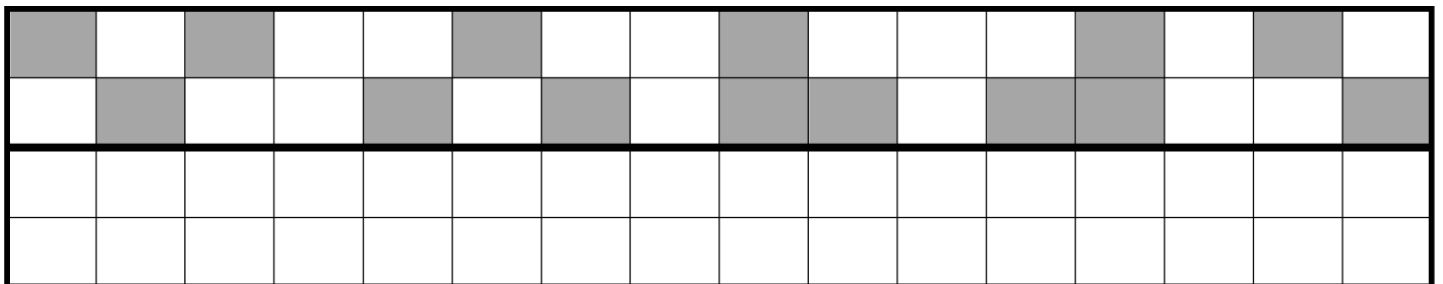
تاریخ :

گل قشنگم ، جدول های شگفت انگیز را کامل کن .


۳	۱	۶	۷	۴	۲	۹	۸	
۸	۴	۵	۳	۶	۹	۲		۱
۹	۷	۲	۵	۱	۸		۴	۳
۷	۳	۴	۶	۹		۱	۲	۸
	۸	۹	۴		۱	۳	۵	۷
۲	۵			۷	۳	۴	۹	۶
۵	۶		۹	۳	۴		۱	۲
۱		۳	۲	۸	۷	۵		۴
	۲	۷	۱	۵	۶	۸	۳	

۶	۷	۴	۵	۹		۲	۱	۳
۲	۸	۳	۷		۱	۹	۶	۵
۹	۱	۵		۶	۲	۷	۸	۴
۸	۴		۶	۳	۷	۱	۵	۹
۳		۶	۴	۱	۵	۸	۲	۷
	۵	۱	۲	۸	۹	۴	۳	۶
۱	۳	۸	۹	۷	۶	۵	۴	
۴	۲	۹	۸	۵	۳	۶		۱
۵	۶	۷	۱	۲	۴		۹	۸

عزیزم ، شکل را طوری کامل کن که دو نیمه ی آن مثل هم باشد .




گلم ، حاصل جمع را به کمک چوب خط پیدا کن و جواب را بنویس .



..... + =

۲ + ۴ =

۳ + ۵ =



..... + =

۶ + ۲ =

۴ + ۴ =