
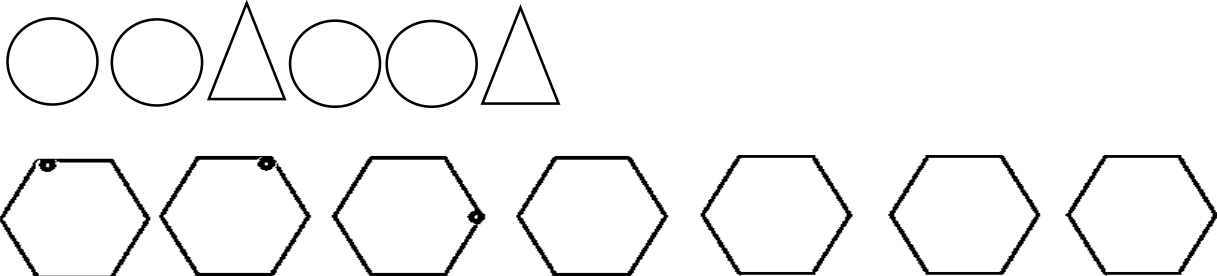



نمره	شرح سوالات	ردیف
۴	<p>دور عدد درست خط بکش.</p>  <p>۵ ۴ ۳ ۳ ۲ ۱ ۳ ۲ ۱</p>	۱
۴	<p>آلگو را ادامه بده.</p> 	۲
۴	<p>شکل های ست چپ و راست روی هم چند تا است ؟ با یک عدد نشان بده.</p> 	۳

۵


عدد هر دسته را بنویس .



۳

۶

اگر به تعداد شکل های سمت راست از شکل های سمت چپ برداریم چند تا می ماند عدد آن را بنویس .



۲

۷

جدول شگفت انگیز را کامل کن.

۱	۲		
۴			۱
۲	۱		۳
۳	۴	۱	۲

۲	۱	۴	۳
۳			۲
۱			۴
۴	۳	۲	۱

۴

۸

دور دسته ی بیش تر را خط بکش .



۲

۲۰

جمع نمرات

تعداد پاسخ صحیح : تعداد پاسخ اشتباه : نمره کسب شده :