

آزمون ریاضی (تم ۲۰)


نام و نام خانوادگی : .....

سال تحصیلی ۹۱ - ۹۲

دبستان : میثاق ۲

۱ برای اعداد داده شده بسته های ده تایی و یکی بکش و آن را در جدول بگذار.


یکی	ده تایی
.....	.....



یکی	ده تایی
.....	.....




۲ دسته های ده تایی درست کن. جدول را کامل کن و عدد مربوط را بنویس.



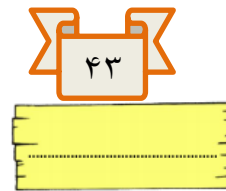


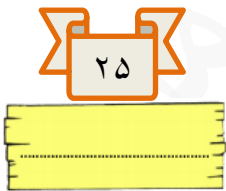
یکی	ده تایی
.....	.....




۳ با توجه به عدد داده شده ، ادامه آن را بنویس.



۴ به حروف بنویس.



۵ سمت راست شکل را مانند سمت چپ رنگ کن.



هر عدد را با خط کش به حروف مربوط به خودش وصل کن.

۶

۹۵

هفتاد و چهار

۱۸

هشتاد

۸۰


نود پنج

۷۴

هجده

۳ دسته ده تایی از پرستوها در حال پرواز بودند.  
۲ دسته ده تایی دیگر از پرستوها به آنها پیوستند.  
حالا چند پرستو در حال پرواز هستند؟  
(برای مسئله شکل بکش و حل کن.)

۷



مرغ علی ۷ جوجه داشت.  
۳ تا از جوجه ها زرد بودند.  
چندتا از جوجه ها زرد نبودند؟

۸

پاسخ جمع و تفریق های زیر را به صورت ذهنی حل کن و بنویس.

۹

$$۱۰ + ۲۰ + ۱۰ + ۱۰ = \dots\dots\dots$$

$$۱۰ + ۱۰ + ۲۰ + ۳۰ = \dots\dots\dots$$

$$۵۰ - ۲۰ - ۱۰ = \dots\dots\dots$$

$$۶۰ + ۵ + ۵ = \dots\dots\dots$$

$$۵۰ - ۱۰ - ۱۰ - ۱۰ = \dots\dots\dots$$

$$۲۰ + ۱۰ + ۱۰ + ۳۰ = \dots\dots\dots$$

$$۵۰ - ۲۰ + ۳۰ = \dots\dots\dots$$

$$۱۰ + ۱۰ + ۱۰ + ۱۰ + ۵ = \dots\dots\dots$$

نظر آموزگار :

.....