

به نام خدا

نام و نام خانوادگی:



















دبستان ۲۲ بهمن یزد آباد

تاریخ:









موضوع: آزمون ریاضی (هدف شناخت و تشخیص چوب خط و استفاده از آن)

پایه: اول




کدام چوب خط تعداد دسته را نشان می دهد؟ دورش خط بکش.



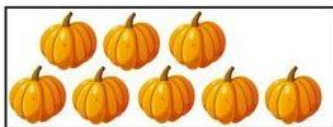

به تعداد هر دسته چوب خط بکش.

چوب خط مربوط به هر دسته را بکش.



چوب خط مربوط به هر شکل را به آن وصل کن.



با چوب خط های زیر چند دسته ده تایی می توان درست کرد؟ انجام بده.



سنجه ها

ردیف	انتظارات	کامل یادگرفته	در حد قابل قبول یادگرفته	نیاز به آموزش مجدد دارد
۱	قادر به سرشماری با چوب خط می باشد.			
۲	چوب خط مربوط به مجموعه های کمتر از ۶ تا را می شناسد.			
۳	چوب خط مربوط به مجموعه های بیشتر از ۵ تا را می شناسد.			

باز خورد معلم:

خودسنجی:

همسال سنجی: