

به نام خدا

دبستان شاهد شهید فهمیده - برازجان

آزمون ریاضی پایه ی اول - تم 24 و 25

نام و نام خانوادگی

1 - عبارت ها را ذهنی حساب کرده ، نوشته ؛ سپس به جواب حروفی آن وصل کن .

$$10 + 10 + 5 + 4 =$$

سی و یک

$$20 + 20 + 10 + 3 =$$

پانزده

$$10 + 10 + 5 + 5 + 1 =$$

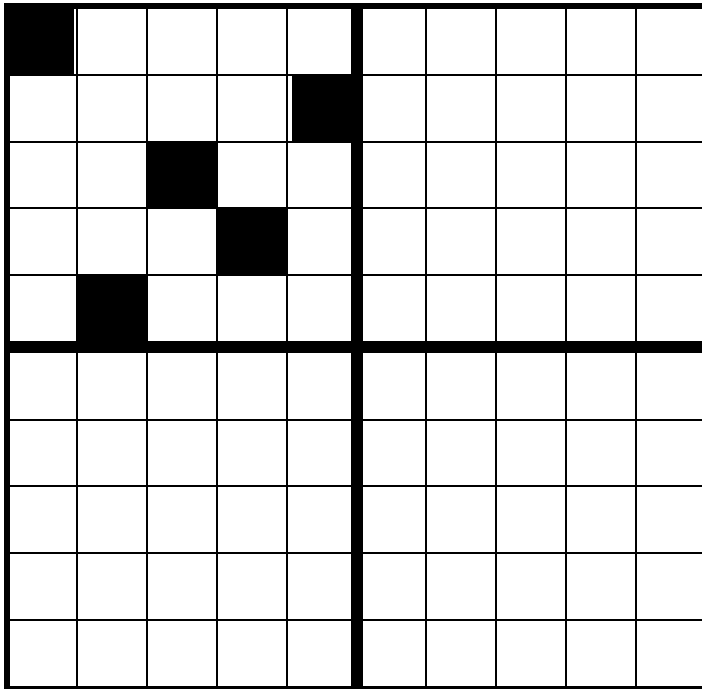
پنجاه و سه

$$20 - 5 =$$

بیست و نه

2 - سه قسمت دیگر را مانند قسمت رنگ شده

رنگ کن .



3 - امین 7 مداد زرد و 5 مداد سبز و 6 کتاب داستان دارد . امین چند مداد دارد ؟ ( با رسم شکل و عبارت آن )

4 - رضا 8 مهره داشت . پدرش هم 8 مهره ی دیگر به او داد. او 5 مهره را به برادرش داد .

حالا رضا چند مهره دارد ؟ ( با رسم شکل دلخواه و عبارت های آن )

|  |
|--|
|  |
|--|

$$\underline{\quad\quad} + \underline{\quad\quad} = \underline{\quad\quad}$$

$$\underline{\quad\quad} - \underline{\quad\quad} = \underline{\quad\quad}$$

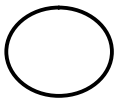
5 - دنباله ی عدد را بنویس .

|    |    |  |  |  |  |  |  |  |  |
|----|----|--|--|--|--|--|--|--|--|
| 91 | 92 |  |  |  |  |  |  |  |  |
|----|----|--|--|--|--|--|--|--|--|

6 - 5 تا 5 ادامه بده .

|    |    |  |  |  |  |  |  |  |  |
|----|----|--|--|--|--|--|--|--|--|
| 55 | 60 |  |  |  |  |  |  |  |  |
|----|----|--|--|--|--|--|--|--|--|

7 - نام هر شکل را بنویس .



\_\_\_\_\_


\_\_\_\_\_

\_\_\_\_\_


\_\_\_\_\_

8 - زمان ساعت ها


را بنویس .



ساعت 9 است .



ساعت ..... است .



ساعت از ..... گذشته است .



ضعیف



متوسط



خوب



عالی