

طراح : جانی پور

تربین های دوره ای ، ریاضی

نام تشنگت:

با عدد یا حروف بنویس.

	سی و شش		چهل و نه		پنجاه و سه		هشتاد و هفت
۹۷		۱۷		۶۴		۷۹	

در جاهای خالی علامت مناسب بگذار.

$60 - 5$	<input type="radio"/>	$40 + 10 + 5$		$8 - 3 + 5$	<input type="radio"/>	$10 - 6$
$30 - 15$	<input type="radio"/>	$90 - 40$		$28 - 8$	<input type="radio"/>	$18 - 8$

این جمع و تفریق ها را با کشیدن چوب خط انجام بده . برای هر عدد از یک رنگ استفاده کن.

$30 - 13 =$

$12 + 6 + 9 =$

$25 - 7 =$

با کشیدن شکل



زهرا ۱۴ بادکنک باد کرد.  
 ۵ تا از بادکنک ها قرمز بود و بقیه سبز بودند .  
 ۴ تا از بادکنک های سبز ترکید .  
 حالا چند بادکنک سبز برایش باقی مانده است؟



روی نیکت علی تعداد کمی چینه ریخته شده بود.  
 دوستش رضا ۶ چینه به او داد.  
 اما محمد از علی ۲ چینه گرفت.  
 حالا روی نیکت علی چند چینه است؟


روی نیکت علی تعداد کمی چینه ریخته شده بود.

دوستش رضا ۶ چینه به او داد.

اما محمد از علی ۲ چینه گرفت.

حالا روی نیکت علی چند چینه است؟

ترتیب الگوها را پیدا کن و ادامه بده.



جدول های شگفت انگیز را کامل کن. با رنگ قرمز بنویس.

۲	۴	۸	۷		۶	۹		۱
۶	۹	۳		۱	۴	۷	۲	۸
۱		۷	۹	۸	۲		۳	۴
۴	۷	۶	۸	۹	۵	۳	۱	۲
۳	۸		۱	۴		۵	۶	
۵	۱	۹	۲		۳	۴	۸	۷
	۳	۱	۶	۷	۹		۴	۵
۹	۲	۴	۳		۸	۱	۷	۶
۷	۶		۴	۲	۱	۸	۹	

۱		۳	۶	۸	۹	۷	۵	۴
۴	۹	۷	۵	۱	۲	۳	۸	
۶	۸		۳	۴			۲	۱
۸	۴		۹	۳	۱	۵	۶	۷
۵		۱				۴		۳
	۳	۶	۴	۷	۵	۸	۱	
۷	۶		۱	۵	۴		۳	۸
۳	۵	۸	۷	۲	۶	۱	۴	۹
۲	۱	۴		۹		۶		

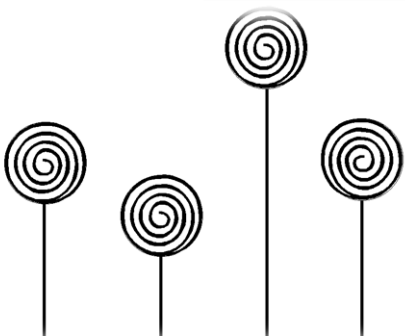
آب نبات ها را شماره گذاری کن.

آب نبات شماره ی ۳ و آب نبات شماره ی ۲ هم اندازه هستند.


آب نبات شماره ی ۴ بلندترین آب نبات است.

آب نبات شماره ی ۱ از آب نبات شماره ۳ کوتاه تر است.


آب نبات شماره ۱ کوتاه ترین آب نبات است.



شکل را کامل کن.





آبی	زرد	زرد	زرد				
زرد	قرمز	زرد	زرد				
قرمز	سبز	آبی	زرد				
سبز	آبی	زرد	قرمز				
سبز	سبز	قرمز	سبز				



عدد ها را از کم تر به بیش تر مرتب کن.

۸۲ ۳۶ ۶۲ ۷۱ ۱۷ ۲۸ ۱۹ ۲۳ ۸۹ ۳۰ ۹۴ ۶۸ ۴۷

نام شکل های هندسی را بنویس.



\_\_\_\_\_

\_\_\_\_\_

\_\_\_\_\_

\_\_\_\_\_

جمع و تفریق های زیر را انجام بده. ابتدا سعی کن در هر عبارت دو عدد پیدا کنی که جمع آن ها ۱۰ یا ۵ بشود.

$$۵+۱۰-۵+۲۰+۱۰+۳=$$

$$۵+۴+۶+۵+۴=$$

$$۱۰-۱۰+۵+۲+۸=$$

$$۲+۳+۵+۱۰+۵+۱۰=$$

$$۶+۴+۵-۵+۳=$$

$$۲۰+۷+۱۰+۳=$$

طراح سوالات : زهره جانی پور

موفق باشید.