

نام و نام خانوادگی:

۱- توپ سمت چپ را رنگ کن.



۲- دور عدد مناسب خط بکش.

0
 0 0 0
 0 0 0
 $7 - 8 - 9$

$15 - 20 - 30$

۳- در جای خالی علامت مناسب $<$ $=$ $>$ بگذار.

$10 \square 9$

$32 \square 23$

$16 \square 15$

$50 \square 40$

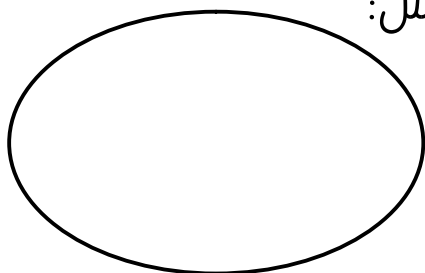
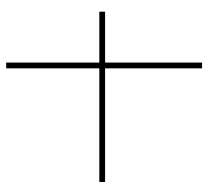
۴- جدول را کامل کن.

			سیزده	نوزده	چهارده
۱۱	۱۷	۲۰			

۶- سه ده تایی و شش یکی می شود:


با عدد:

با حروف:



شکل:


۵- برای شکل دو جمع بنویس.



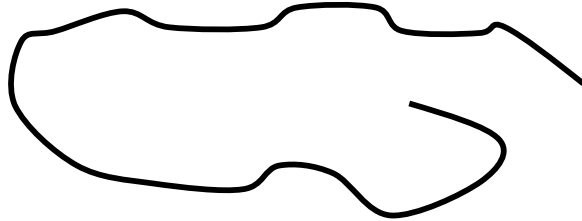
..... + =

..... + =

۷- عدد های قبل و بعد از ۱۹ را بنویس .



۸- خط باز را به بسته تبدیل کن . داخل آن یک اردک و روی آن ۲ گل بکش .



۹- جواب جمع و تفریق ها را با چوب خط نشان بده و هر کدام که جواب آن بالای جدول

است را رنگ کن .

۱۰		۸	
$۸+۲=$		$۴+۲=$	
$۱۰-۱=$		$۵+۳=$	
$۱۰-۰=$		$۱+۸=$	
$۵+۵=$		$۹-۱=$	

۱۰- جواب بده .

$$۵ + ۱۰ + ۱۰ = \dots\dots\dots$$

$$۴۰ + ۳۰ = \dots\dots\dots$$

$$۱۰ + ۲۰ = \dots\dots\dots$$

۱۱- مریم ۱۲ کیک داشت . ۵ تا از کیک ها را به دوستش داد . مریم چند کیک دارد؟

(عبارت آن را بنویس و روی محور هم نشان بده .)

