

تم هفت

رهگذر ریاضی













نام دانش آموز













.....

وبلاگ
مهربه یادماندنی
www.aftabemehrban.blogfa.com

وبلاگ مهربه به یادماندنی - بزرگی ابراهیمی

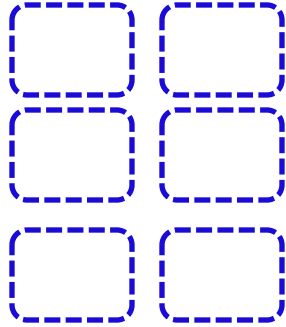

جدول های شگفت انگیز را کامل کن .

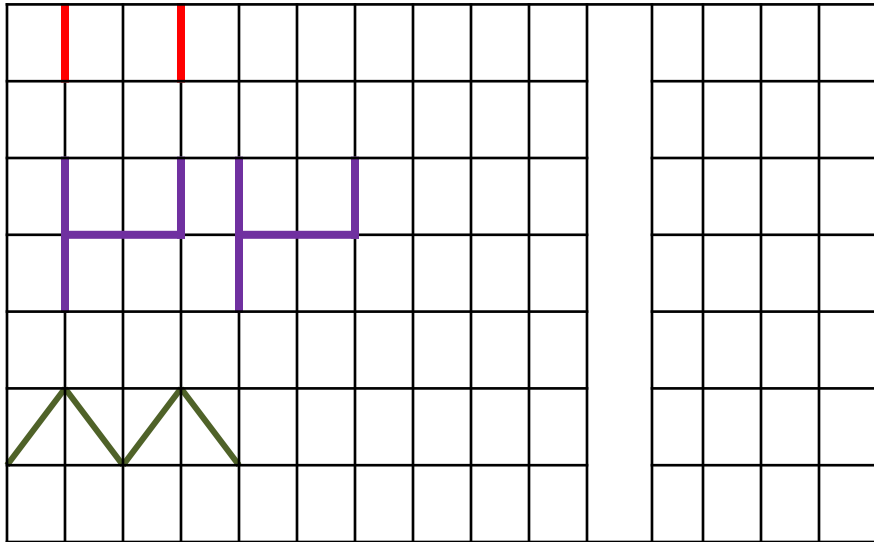
			
			
			
			



در هر ردیف ابتدا گردی های سبز را بشمار و چوب خط های آن را در خانه ی سمت چپ و سپس گردی های زرد را بشمار و چوب خط های آن را در خانه ی سمت راست بکش .



در هر ردیف الگو را ادامه بده و شکلی را که در هر الگو تکرار می شود ، بکش .



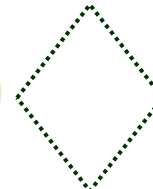
از هر کیک چند تکه برداشته شده است ، با چوب خط نشان بده .



از هر کیک چند تکه باقی مانده است ، با چوب خط نشان بده .

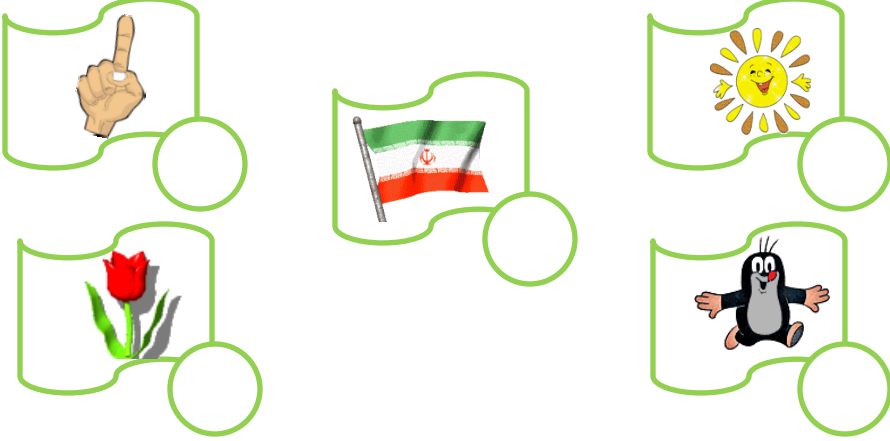


از هر دو کیک روی هم چند تکه باقی مانده است ، با چوب خط نشان بده .



وبلاگ مهر به یادماندنی - بزرگی ابراهیمی

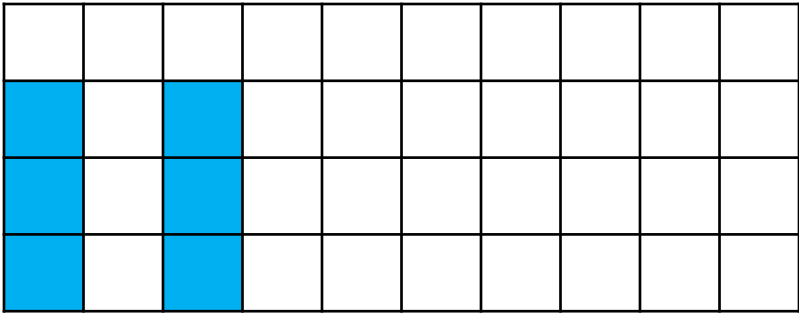
عدد هر دسته را بنویس .




نوشتن عدد ۱ را ادامه بده .




الگو را ادامه بده .



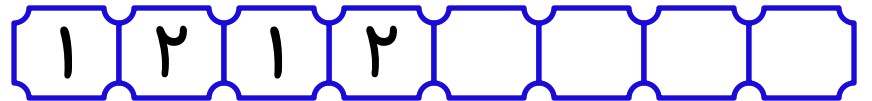
به تعداد عدد نوشته شده شکل بکش .



هر دسته را به عدد مناسب وصل کن .




مانند نمونه ادامه بده .




وبلاگ مهر به یادماندنی - بزرگی ابراهیمی


در هر ردیف دو شکل دیگر رنگ کن ، حالا به تعداد شکل های رنگی چوب خط بکش .



در هر ردیف آن قدر از شکل ها خط بزن تا فقط ۱ شکل باقی بماند، حالا به تعداد شکل هایی که خط زده ای چوب خط بکش .




دور عدد مناسب خط بکش .



وبلاگ مهر به یادماندنی - بزرگی ابراهیمی

عدد هر دسته را بنویس .



نوشتن عدد ۲ را ادامه بده .



الگو را ادامه بده .

