

به نام خدا

اداره آموزش پرورش استان فارس ناحیه ۲


نام و نام خانوادگی: ارزشیابی ریاضی کلاس اول دبستان صا



۱- برای شکل دو جمع بنویس.

$12 - 9 = \dots\dots\dots$

۲- برای تفریق شکل بکش .

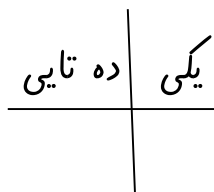



۳- پریسا ۹ گل در گلدان گذاشت . ۳ گل قرمز است . چند گل صورتی است؟

..... گل صورتی است.

$12 + 4 = \dots\dots\dots$

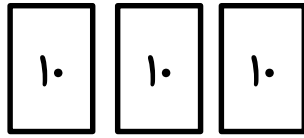
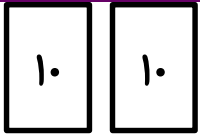
۵- برای جمع شکل بکش .



..... با رقم با حروف

۶- در جای خالی عدد مناسب بنویس .

۷- جمع مخصوص شکل را بنویس .



..... + =

۸- عدد قبل و بعد را بنویس .


..... - - ۲۱ - - - - - -
 - - - ۷۷ - - - -

۹- پروانه ۴ کتاب داستان و ۵ کتاب علمی خرید. اگر ۳ کتاب هم پدرش برایش بخرد چند کتاب دارد؟




..... کتاب دارد.

۱۰- الگو را به همان ترتیبی که هست ادامه بده.



۱۱- برای = ۸-۱۴ یک مساله بنویس .

۱۲- پسری را که به سمت راست می رود رنگ کن.



۱۳- در جای خالی عدد مناسب یا علامت مناسب < = > بگذار.

$$۱۲ - ۹ = \dots\dots$$

$$۶ + ۶ = \dots\dots$$

$$۱۵ + ۴ = \dots\dots$$

$$۸ + ۱۰ = \dots\dots$$

$$۵۴ \dots\dots ۷۶$$

$$۴۰ \dots\dots ۵۰$$

$$۹۵ \dots\dots ۵۹$$

$$۷۸ \dots\dots ۶۸$$

۱۴- در جای خالی عدد مناسب بنویس.

۷۵ می شود یکی و ده تایی

۵۲ می شود یکی و ده تایی

۶ ده تایی برابر است با یکی

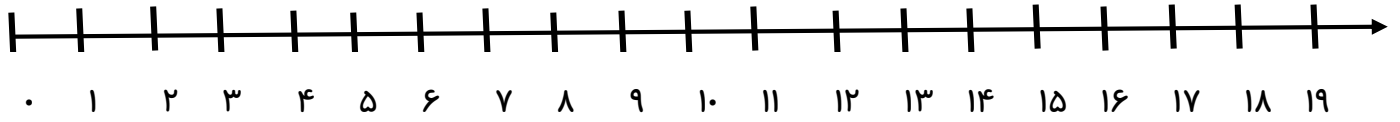
۴۰ یعنی دسته ی ده تایی

۳ یکی و ۶ ده تایی می شود

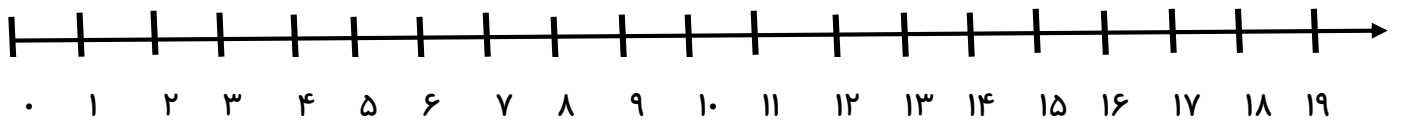
۱۵- جمع و تفریق را روی محور نشان دهید.



$$۱۲ + ۷ = \dots\dots\dots$$



$$۱۶ - ۹ = \dots\dots\dots$$



۱۶- درجای خالی عدد مناسب بنویس.

	سیزده		ینجاه و هفت
۶۳		۴۸	