









۱- برای شکل مقابل یک تفریق بنویس




..... - =


۲- هر شکل و هر تفریق را با خط کش به پاسخ خود وصل کن.



۳- در جای خالی عدد مناسب بنویس.

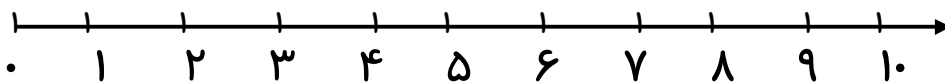


۳۰ - ۱۰ =

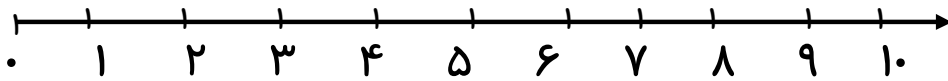


..... - =

۵- با کیک محور تفریق کن.



۱۰ - ۲ =



$$8 - 3 = \dots\dots$$

$$25 - 5 = \dots\dots$$

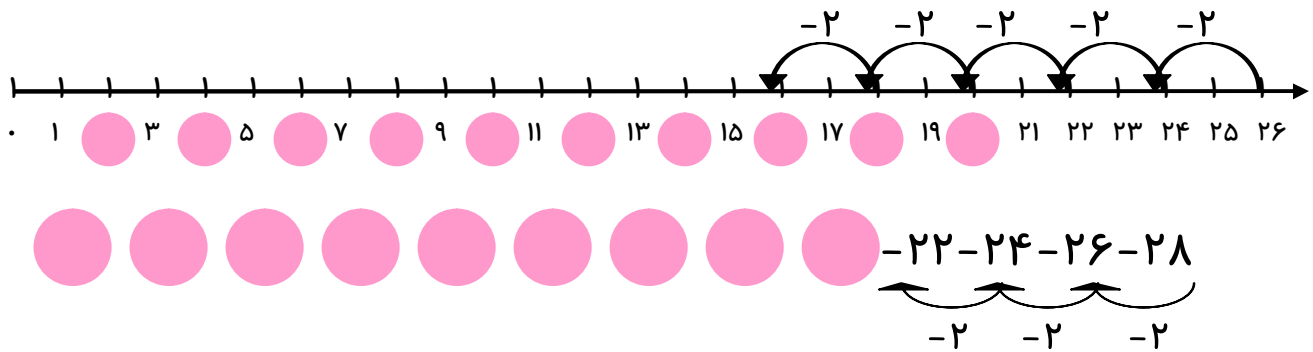
$$70 - 40 = \dots\dots$$

۶- پاسخ تفریق های زیر را بدست آورید.

$$20 - 10 = \dots\dots$$

$$15 - 5 = \dots\dots$$

۷- جا های خالی را کامل کنید.



۸- مسئله را با رسم چوب خط حل کن و بنویس.

۱۵ جوجه در لانه بود. ۸ جوجه ی از لانه رفتند. چند جوجه در لانه است؟

ارزیابی معلم: