

امتحان درس ریاضی پایه اول

بسمه تعالی

نام و نام خانوادگی: ..... کلاس: .....

۱ عدد هایی را که به حروف نوشته شده اند را به عدد بنویس؟

پنجاه و هفت: ( )      چهل و سه: ( )      هفتاد و نه: ( )      نود و هشت: ( )

۲ جا های خالی را با عدد مناسب کامل کن؟

$5 + 5 + 5 + 5 =$

$20 + 20 + 10 + 5 =$

$10 + 5 + 3 =$

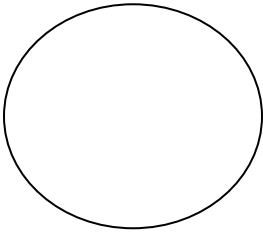
$20 - 10 + 5 - 3 =$

۳ جواب جمع و تفریق را بنویس، مقایسه کن و علامت های مناسب را انتخاب کن؟

$20 + 30 = \square$        $60 - 10 = \square$   
 $10 + 8 = \square$        $10 + 7 = \square$

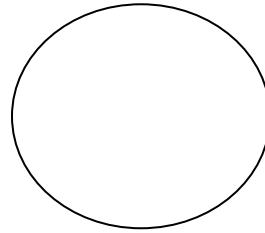
$< = >$        $< = >$

۴ زمانی که ساعت نشان می دهد را بنویس؟



زمان بین

ساعت ..... و ..... است



زمان بین

ساعت ..... و ..... است

۵ از ۹۰ تا ۱۰۰ یکی یکی بنویس؟

۶ عدد دسته را بشمار و عدد مربوط به آن را بنویس پس از آن جدول را کامل کن؟

<input type="checkbox"/>	<input type="checkbox"/>	<input type="checkbox"/>	<input type="checkbox"/>
<input type="checkbox"/>	<input type="checkbox"/>	<input type="checkbox"/>	<input type="checkbox"/>
<input type="checkbox"/>	<input type="checkbox"/>	<input type="checkbox"/>	<input type="checkbox"/>
<input type="checkbox"/>	<input type="checkbox"/>	<input type="checkbox"/>	<input type="checkbox"/>
<input type="checkbox"/>	<input type="checkbox"/>	<input type="checkbox"/>	<input type="checkbox"/>
<input type="checkbox"/>	<input type="checkbox"/>	<input type="checkbox"/>	<input type="checkbox"/>

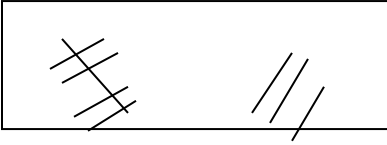
	ده تایی
	یکی

۷ برای مسئله یک شکل ساده بکش و جواب را پیدا کن و روی محور نشان بده.  
 علی ۹ بادکنک داشت، ۵ تا از بادکنک ها به هوا رفت. چند بادکنک مانده است.

\_\_\_\_\_

حاصل جمع ها را با چوب خط پیدا کن و عبارات جمع را بنویس؟

۸



$$\dots\dots\dots + \dots\dots\dots = \dots\dots\dots$$