



کار برگ ریاضی تم ۲۱

به نام خدا

پایه اول ابتدایی

نام و نام خانوادگی:

sch2012.blogfa.com

Amali



جاهای خالی را کامل کن.



یکی	ده تایی
.....


۵۷

یکی	ده تایی
۹	۸

یکی	ده تایی
.....

۶۳

نوشتن عدد ها را به ترتیب ادامه بده.



با دقت جواب جمع ها را بنویس.



$$20 + 10 + 5 + 5 = \dots\dots\dots$$

$$10 + 20 + 20 = \dots\dots\dots$$

عدد ها را به حروف بنویس.



جواب جمع را به کمک چوب خط نشان بده و بنویس.



$$3 + 11 + 5 = \dots\dots\dots$$

مسئله را با رسم چوب خط حل کن.



۸ کتاب روی میز بود.


علی ۳ کتاب روی میز گذاشت.

آموزگار هم ۶ کتاب دیگر روی میز گذاشت.

حالا چند کتاب روی میز داریم؟


..... کتاب روی میز است.

کامل کن.



اندازه ی موز بین تا است.


جاهای خالی را کامل کن.



زمان بین

ساعت و

است.



خسته نباشی.



باز خورد معلم: