



کار برگ ریاضی تم ۲۳

به نام خدا

پایه اول ابتدایی

نام و نام خانوادگی:

sch2012.blogfa.com


Amali




در جاهای خالی عدد مناسب بنویس.



.....



.....



.....

جاهای خالی را با عدد مناسب کامل کن.



$$۲۰ + ۵ + ۱۰ + ۵ = \dots\dots\dots$$

$$۵ + ۱۰ + ۲۰ + ۲۰ = \dots\dots\dots$$

$$۲۰ + ۱۰ - ۵ = \dots\dots\dots$$

به صورت عددی بنویس.



..... چهل و پنج

..... پانزده

..... پنجاه و هفت

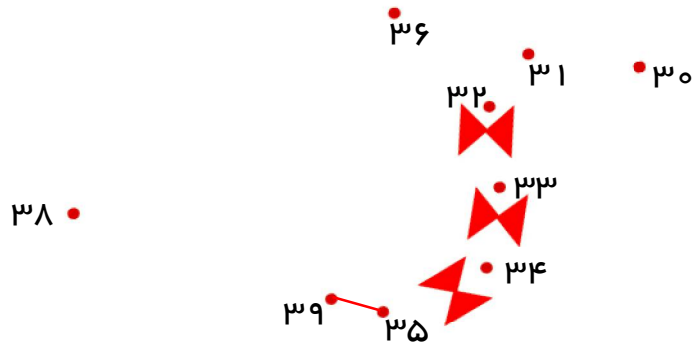
..... هجده

..... شصت و سه

عدد ها را به ترتیب وصل کن.



۳۷ •



جواب ها را بنویس و با هم مقایسه کن.

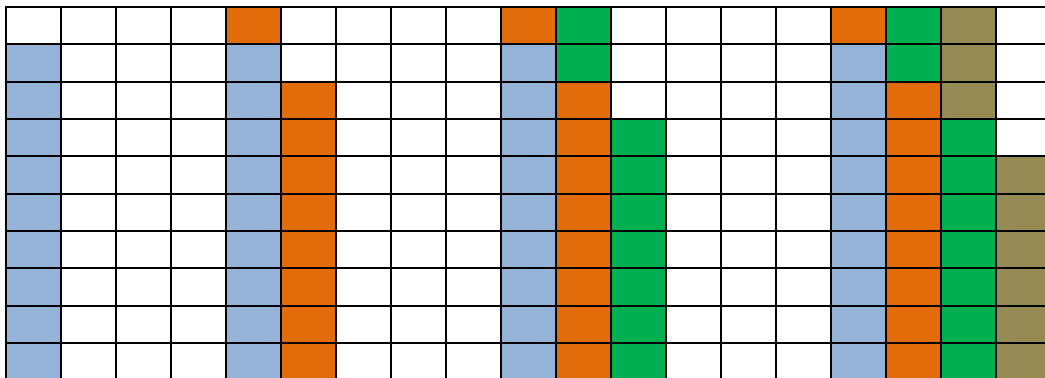


$$۴۰ + ۲۰ = \dots\dots\dots$$

< = >

$$۳۰ + ۱۵ = \dots\dots\dots$$

جاهای خالی را کامل کن.



.....

.....

.....

.....

مسئله را با هر روشی که می خواهی، حل کن.



رضا ۱۵ شکلات و محمد ۷ شکلات دارد. آن ها روی هم چند شکلات دارند؟

..... شکلات دارند.

خسته نباشی.



باز خورد معلم: