

وئبای ریاضی





به نام خدای
مهربان

طراح : مهید مهدی خانی


نام زیبای من :

تاریخ :



۱ ابتدا تعداد شکل های هر دسته را بدون شمردن به بزرگترها بگو. سپس در هر دسته دو شکل دیگر اضافه کن و بگو چند می شود؟




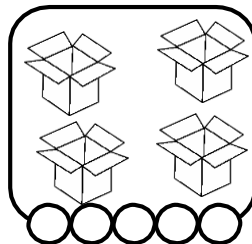


۲ الگو را ادامه بده.



۳ مربع های شگفت انگیز را با شکل های مناسب کامل کن.







۴ به تعداد شکل ها از دایره های زیر آن رنگ بزن.




دسته ی ست چپ و ست راست روی هم چند می شود؟ به دست مربوطه وصل کن.

۵



با اولی ها
Baavaliha.blog.ir
@BaaAvaliha
مهیچد مهدی فانی

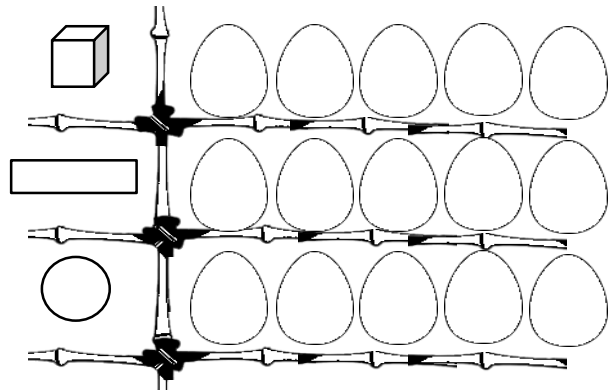
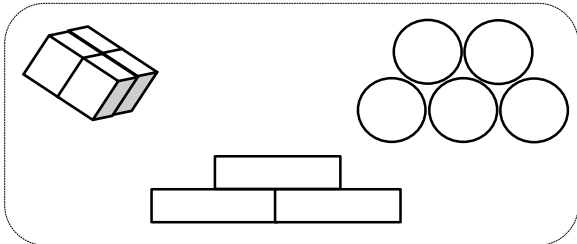


جدول ها را کامل کن.

۶

به تعداد هر شکل ، در خانه های جلوی آن × بزن.

۷



نظر آموزگار:

