



به نام خدا

دبستان دخترانه غیر دولتی بهار مدرسی

نام و نام خانوادگی:

تاریخ: 97 / 2 / 12

اول

ریاضی

1- هر جمع را به جواب خودش با خط کش وصل کنید.

+ 40

80

+ 30

+ 30

60

6 + 30

+ 40

40

+ 70

+ 10

60

+ 30

36

90

70

2- مسئله های زیر را حل کنید.

* در یک کلاس 27 نفر نشسته بودند. 19 نفر از کلاس خارج شدند. 6 نفر وارد شدند. حالا چند نفر در کلاس است؟

* باغبانی 48 درخت گردو کاشت. 8 تا از درخت ها خشک شدند. سپس 12 درخت گردوی دیگر کاشت حالا چند درخت گردو دارد؟

3- 4 تا 4 بشمارید و بنویسید.

0 - 4 - 8 - - - -



به نام خدا

دبستان دخترانه غیر دولتی بهار مدرسی

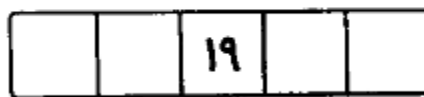
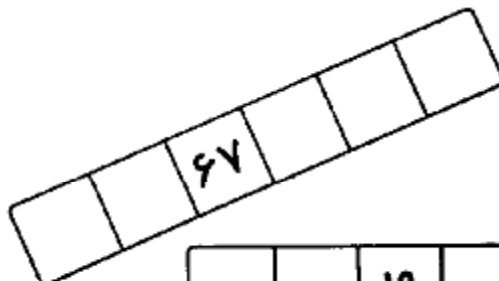
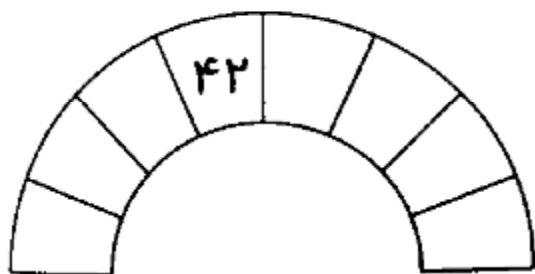
نام و نام خانوادگی :

تاریخ : 97 / 2 / 12


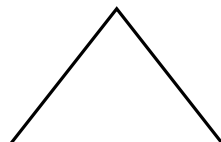


اول

ریاضی

4- قبل و بعد عددهای زیر را بنویسید.



5- نام هر شکل را زیر آن بنویسید.



.....

.....

.....

.....