

برای هر ردیف یک جمع بنویس و با چوب خط حاصل جمع را پیدا کن.



..... + + =



..... + + =



..... + + + =

تعداد شکل های هر دسته را با چوب خط بشمار ، دسته های ده تایی درست کن . جدول را کامل کن و عدد

مربوط به هر دسته را بنویس .

	یکی	ده تایی

	یکی	ده تایی

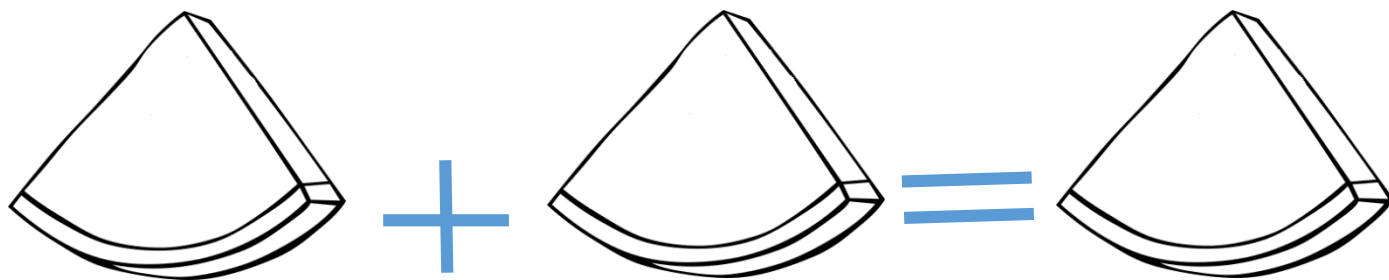
	یکی	ده تایی

	یکی	ده تایی

	یکی	ده تایی

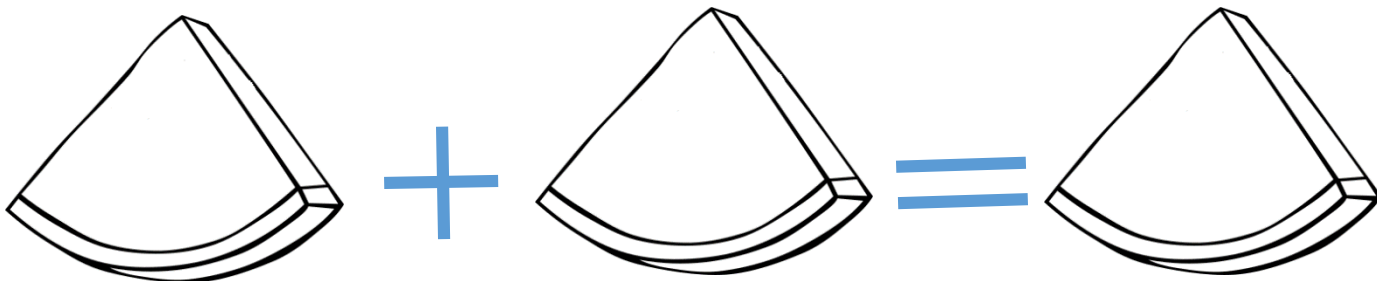
	یکی	ده تایی

عزیزم ، به تعداد گفته شده برای هندوانه های زیر هسته بکش .



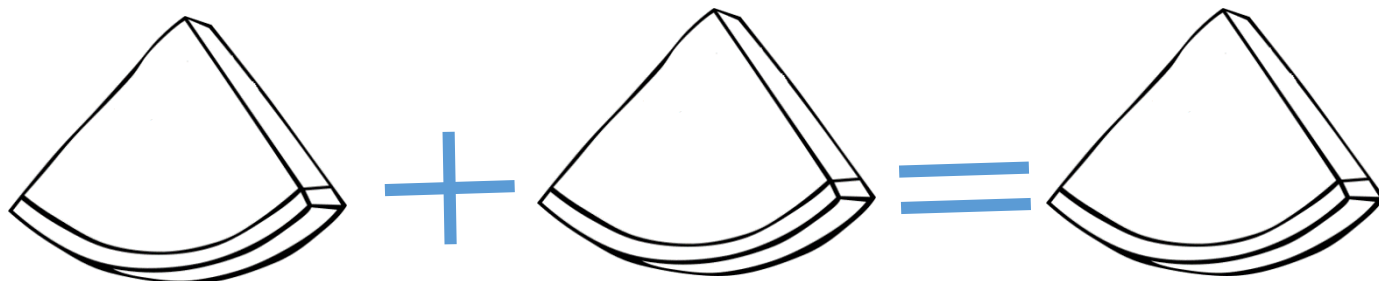
۲

۳



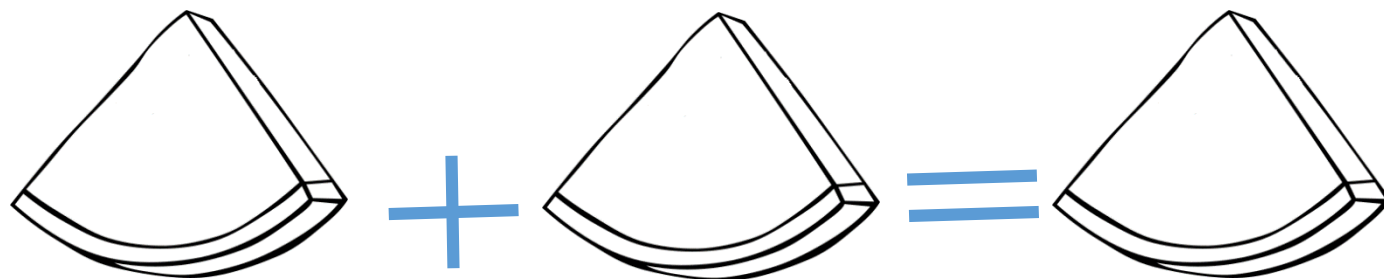
۴

۱



۶

۲



۸

۳