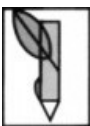


به نام خدا

دبستان دخترانه غیر دولتی بهار مدرسی

نام و نام خانوادگی:


اول





ریاضی

تاریخ: ۹۶ / ۱۲ / ۹


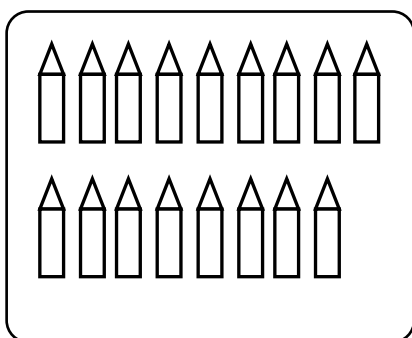
۱- برای شکل های زیر چوب خط بکشید، و با آن ها دسته های ده تایی درست کنید و داخل جدول عدد مناسب را بنویسید.



ده تایی	یکی



ده تایی	یکی



ده تایی	یکی

۲- عددهای نوشته نشده در ساعت را بنویسید و آن را به دلخواه تزدین کنید.

