

۱- فرزندم، الگورا انتخاب کن و ادامه بده.





۲- عدد هر دسته را بنویس و سپس چوب خط آن را رسم کن.

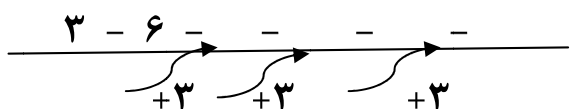
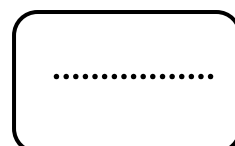
.....

.....

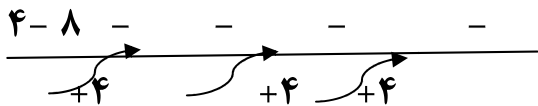
۳- با استفاده از شابلون شکل کوچک را بزرگ کن.



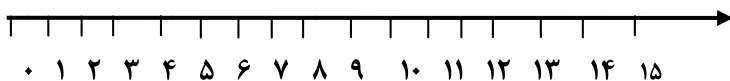
۴- با کشیدن چوب خط حساب کن شکل های سمت چپ و راست باهم چند تا هستند؟



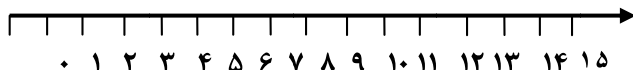
۵- ادامه بده



۶- جمع و تفریق را روی محور نشان بده .

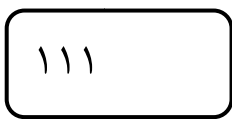
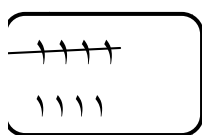


$12 - 5 = \dots$



$8 + 6 = \dots$

۷- حاصل جمع ها را با چوب خط پیدا کن و عبارت جمع را بنویس .



..... + =



۸- علامت کمتر، بیشتر بگذار .

$10 \bigcirc 19$

$9 \bigcirc 11$

$16 \bigcirc 16$

$15 \bigcirc 12$



۹- دسته ده تایی درست کن، چوب خط را رسم کن و جدول را کامل کن

ده تایی	یکی

۱۰- اعداد زیر را جمع کن .

$8 + 6 = \dots$

$8 + 6 + 2 + 3 = \dots$

$3 + 6 + 5 = \dots$

۱۱- اندازه مداد بین تا است .



۱۲- کامل کن .

۳	۱	۲		۹	۵	۴	۷	۶
۵	۶	۹	۱		۷	۳	۸	۲
۴	۸	۷	۲	۶		۵	۱	۹
۹	۵	۱		۳	۶		۴	۸
۷	۲	۸	۵	۱	۴	۶		۳
۶	۳	۴	۹	۸	۲	۱	۵	
	۴	۵	۶	۷	۹	۸	۳	۱
۱		۶	۳	۵	۸	۹	۲	۴
۸	۹		۴	۲	۱	۷	۶	۵