



نام و نام خانوادگی: .....  
 کلاس شماره ۵

به نام خدا  
 دبستان دخترانه غیر دولتی الغریر  
 سال تحصیلی ۹۷-۹۶  
 تم ۳



۱. دخترم اگر به هر دسته دو شکل اضافه کنیم، چه عددی را نشان می دهد؟ به همان اندازه از سیب ها را رنگ


بزن.

	→	
	→	
	→	

۳. مربع های شگفت انگیز را کامل کن.


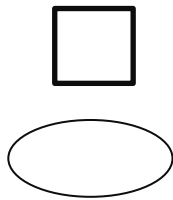
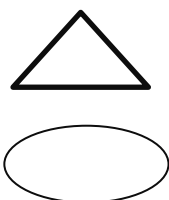

↗		

۳. با شابلون یک شکل رسم کن، با آن شکل یک نقاشی بکش.

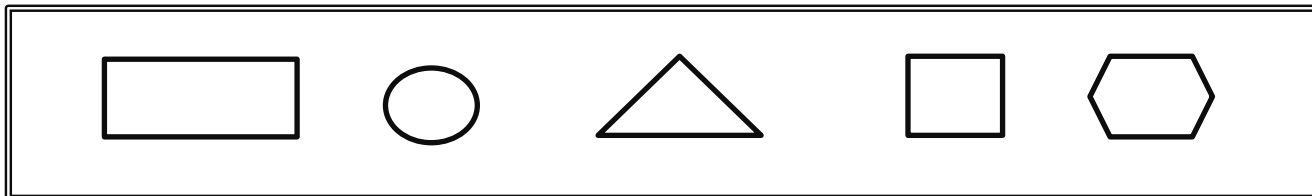


۴. برای خانه های شطرنجی به دلخواه الگو بساز.

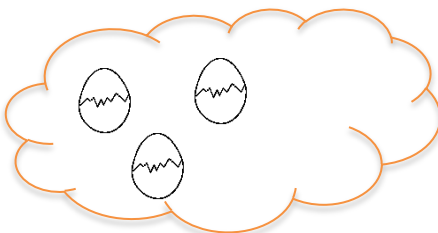


۵. به تعداد گوشه های شکل های زیر چوب خط بکش.



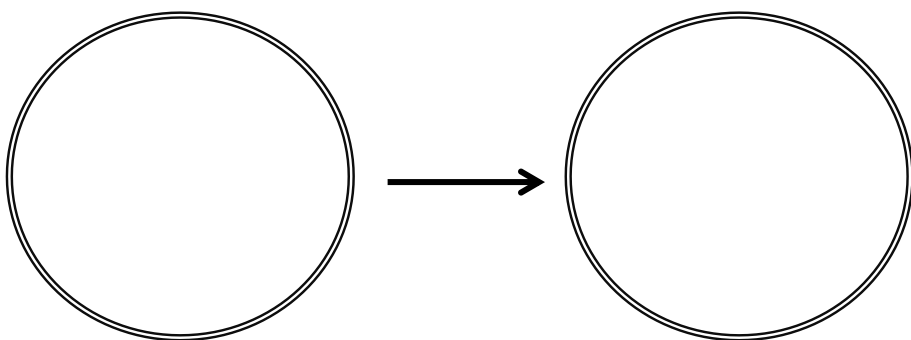
۶. شکل های داده شده را با استفاده از شابلون بکش.



۷. به هر شکل یکی اضافه کن.



۸. به تعداد انگشتان یک دست خود شکل کشیده و در خانه بعد با چوب خط نشان بده.



ارزشیابی معلّم:

در حدّ انتظار     نزدیک به حدّ انتظار  
 نیازمند تلاش

نظر ولی:

مدت زمان انجام کار: .....

تاریخ: .....

