

# به نام خداوند بخشنده مهربان



۱- معنی کلمات زیر را بنویسید.

گریستن

ارمغان

شادکام

خواجه

خطه

۲- معنی واژه های زیر را به طور کامل بنویسید.

❖ کتابنامه یعنی .....

❖ روزنامه یعنی .....

۳- مخالف کلمات را بنویسید.

خام  $\neq$


رهایی  $\neq$

ناشنا  $\neq$

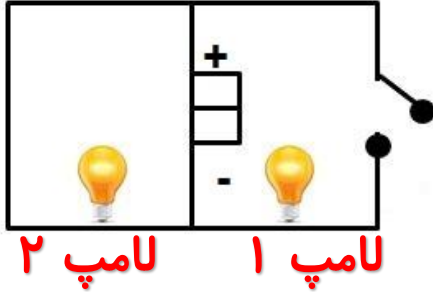
ساکت  $\neq$

۴- بهترین هدیه بازرگان به طوطی چه بود؟





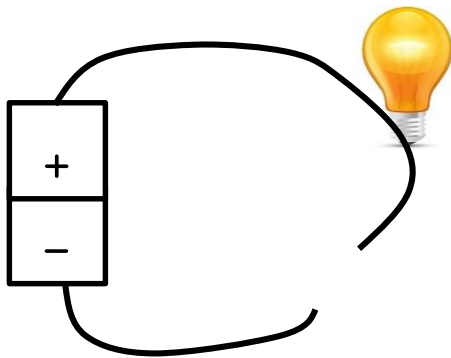
۱- با توجه به شکل روبه رو کدام نتیجه گیری درست است؟



- (الف) وقتی کلید باز است هر دو لامپ خاموش است.
- (ب) وقتی کلید باز است فقط لامپ ۲ روشن می ماند.
- (ج) وقتی کلید بسته است فقط لامپ ۱ روشن می شود.
- (د) وقتی کلید بسته است فقط لامپ ۲ روشن می شود.

۲- با توجه به شکل مقابل کدام یک از موارد و وسایل را در مدار قرار دهید تا لامپ

روشن شود؟



- (الف) پاک کن
- (ب) سوزن
- (ج) کتاب
- (د) قاشق چوبی

۳- جاهای خالی را پر کنید.

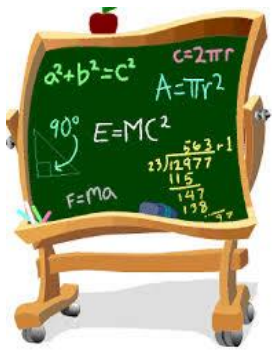
(الف) برای قطع و وصل کردن الکتریسیته جریان الکتریسیته در مدار از ..... استفاده می کنیم.

(ب) بعضی از جسم ها الکتریسیته را از خود عبور می دهند به این جسم ها ..... می گویند.

(ج) بعضی از جسم ها الکتریسیته را از خود عبور نمی دهند به این جسم ها ..... می گویند.

۴- برای سیم کشی خانه ی شما از چه مداری استفاده شده است؟ چرا؟ آن را رسم کنید.





۱- تساوی  $\frac{1}{5} = \frac{2}{10}$  را با رسم شکل نشان دهید. آیا کسر دیگری نیز می توانید پیدا کنید که با آن دو مساوی باشد.

۲- در جاهای خالی علامت  $< = >$  قرار دهید.

$$\frac{7}{9} \quad \square \quad \frac{1}{3}$$

$$\frac{3}{4} \quad \square \quad \frac{2}{4}$$

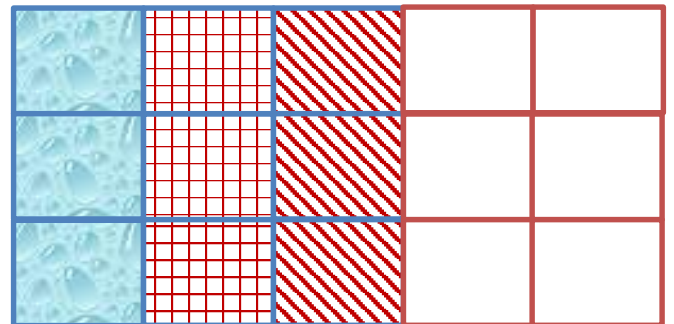

$$\frac{5}{6} \quad \square \quad \frac{1}{3}$$

$$\frac{1}{10} \quad \square \quad \frac{1}{12}$$

$$\frac{1}{5} \quad \square \quad \frac{2}{10}$$

$$\frac{7}{14} \quad \square \quad \frac{1}{2}$$

۳- برای شکل های زیر ضرب مناسب بنویس و حاصل آن را به دست آورید.



۴- برای جمع های زیر یک ضرب کسر بنویسد.

$$\frac{۳}{۷} + \frac{۳}{۷} =$$

$$\frac{۱}{۴} + \frac{۱}{۴} + \frac{۱}{۴} =$$

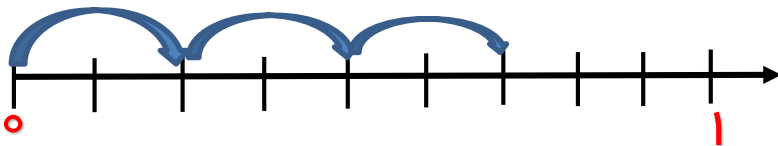
$$\frac{۲}{۱۰} + \frac{۲}{۱۰} + \frac{۲}{۱۰} + \frac{۲}{۱۰} =$$

۵- ضرب های زیر را به کمک شکل نشان بدهید؟ و حاصل را به دست آورید.

$$۳ \times \frac{۱}{۵} =$$

$$۳ \times \frac{۲}{۷} =$$

۶- محور روبه رو کدام یک از گزینه ها را نشان می دهد؟



(ب)  $\frac{۳}{۱۰} + \frac{۳}{۱۰}$

(الف)  $۲ \times \frac{۳}{۱۰}$

(د)  $۳ \times \frac{۳}{۱۰}$

(ج)  $۳ \times \frac{۲}{۱۰}$




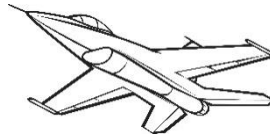



۱- قطب نما چیست و کاربرد آن چیست؟




۲- بالاترین نقطه ای که روی کره زمین می بینم چه نام دارد؟

۳- با توجه به جهت های اصلی و فرعی جهت هر کدام از تصویر های زیر را

بنویسد.



- ( مسجد )
- ( مدرسه )
- ( هواپیما )
- ( درختان )
- ( فیل )
- ( کوه ها )
- ( لیوان )
- ( جاده )





۱- معنی کلمات قرآنی را بنویسید.

قلیل:                      عالم:                      آرض:  
آجر:                        علیم:                      سمیع:

۲- یکی از پیام های قرآنی را به دلخواه انتخاب کرده بنویسید.

۳- نام امام هفتم شیعیان چیست؟ لقب ایشان چیست و معنی لقب ایشان را بنویسید.

۴- حاکم عباسی زمان امام موسی کاظم (ع) چه نام داشت و ایشان را چند سال در زندان نگه داشت؟

۵- مرقد مطهر کدام یک از امامان در کاظمین قرار دارد؟






پسر عزیزم لطفاً بیت زیر را به خط تحریر بنویس.

غلام همت آنم که زیر چرخ کبود ز هر چه رنگ تعلق پذیرد آزاد است





# مهارت های زندگی

## چه احساسی دارید؟



احساسات، حالت هایی هستند که وقتی حوادثی برای ما و یا در اطراف ما اتفاق می افتد، به وجود می آیند. موقعیت های زیر را بخوانید و بنویسید که اگر این اتفاق برای شما بیفتد، چه احساسی پیدا می کنید.

۱. معلم سؤالی از شما می پرسد و جواب آن را نمی دانید. ....

۲. پشت سر یکی از دوستانتان حرف می زنید و او متوجه این کار شما می شود. ....

۳. به هم کلاسی خود که هفته قبل به خاطر مریضی به مدرسه نیامده، کمک می کنید تا از درس ها عقب نیفتد. ....

۴. نمره خوبی در یکی از امتحانات می گیرید. ....

۵. یکی از هم کلاسی هایتان شما را مسخره می کند. ....

۶. دوست صمیمی تان می خواهد از محل شما برود. ....

۷. شما در حال تماشای برنامه مورد علاقه خود از تلویزیون هستید که برادر بزرگ ترتان شبکه تلویزیون را عوض می کند. ....

۸- در اخبار می شنوید که در یکی از روستاها سیل آمده و خانه هایشان خراب شده

است. ....

۹- در یک مهمانی مادرتان از شما تعریف می کند و می گوید که بچه با مسئولیتی هستید. ....

۱۰- شما در حال آمدن به خانه هستید که ناگهان یکی از بچه های محل ترقه ای را جلوی پای شما

می اندازد و منفجر می شود. ....







## سرماخوردگی :

یک عفونت دستگاه تنفسی فوقانی است، بیماری شایع و نسبتاً بی ضرر، اما مطمئناً وقتی به آن مبتلا می شوید چنین احساسی ندارید .

ممکن است آبریزش بینی، گلو درد و سرفه داشته باشید یا اینکه آبریزش از چشم، عطسه کردن و احتقان بینی آزاردهنده شما را کلافه کند. ممکن است همه این علائم با هم شما را آزار دهد. در واقع به علت آنکه بیش از ۲۰۰ ویروس مختلف ممکن است سرماخوردگی ایجاد کنند، علائم سرماخوردگی بسیار متفاوت است. متأسفانه هر فرد بزرگسالی احتمال دارد ۲ تا ۴ بار در سال به سرماخوردگی مبتلا شود. کودکان به خصوص در سنین پیش از مدرسه بین ۵ تا ۹ بار سالانه سرما می خورند. سرماخوردگی به خصوص در کودکانی که به مهدکودک می روند شایع است. اما خبر خوب این است که معمولاً سرماخوردگی در طول یک هفته بهبود پیدا می کند، گرچه بعضی از سرماخوردگی ها تا دو هفته هم به طول می انجامند. اگر سرماخوردگی بیش از این مدت طول بکشد به پزشکتان مراجعه کنید تا مطمئن شوید که عفونت ثانویه باکتریایی در ریه ها، حنجره، نای، سینوس ها یا گوش هایتان وجود ندارد .

## علائم و نشانه ها

شروع علائم سرماخوردگی یک تا سه روز پس از قرار گرفتن در معرض ویروس سرماخوردگی است. اولین علامت عمده آبریزش از بینی است. همچنین ممکن است در ابتدای دوره عفونت دچار خارش یا درد گلو، احتقان و گرفتگی بینی، کمی بدن درد یا سردرد خفیف شوید، در ادامه سیر بیماری ترشحات بینی تان غلیظ تر و زرد رنگ تر می شود .

## سایر علائم سرماخوردگی اینها هستند:

- عطسه کردن .
- آبریزش از چشم .
- سرفه .
- تب ملایم .
- خستگی خفیف .

ادامه دارد...





دانش آموز عزیز و اولیای گرامی:

دبستان صدر در نظر دارد در مسابقات سرود همگانی شرکت نماید، خواهشمند است کلیه دانش آموزان متن ذیل را حفظ نموده و برای اجرا آمادگی لازم را کسب نمایند.

نو گل باغ ایران به پاخیز  
پیرو راه قرآن به پاخیز  
رهسپار ره سرفرازی  
حامی دین یزدان به پاخیز  
ای وطن را نگهبان، به پا شو  
ای تو از نسل توفان به پاخیز  
پاسدار حریم وطن باش  
از پی حفظ ایران به پاخیز  
با شهیدان بیا همنا شو  
یادگار شهیدان به پاخیز  
پای در راه سازندگی نه  
مثل سیل خروشان به پاخیز  
تا شود از تو و همت تو  
خاک میهن گلستان به پاخیز

با تشکر - معاونت اجرایی دبستان

