

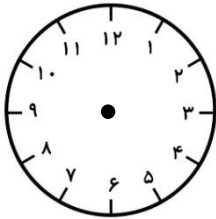
۱- حاصل ضرب دو عدد ۹۰۰۰۰ می باشد. هر یک از آن دو عدد چند است؟

- الف) ۳۰ ب) ۳۰۰۰ ج) ۳۰۰ د) ۳۰۰۰۰

۲- بزرگ‌ترین عدد ۷ رقمی فرد که با رقم‌های ۸ و ۱ و ۰ و ۹ و ۵ و ۱ و ۶ می‌توان نوشت کدام عدد است؟

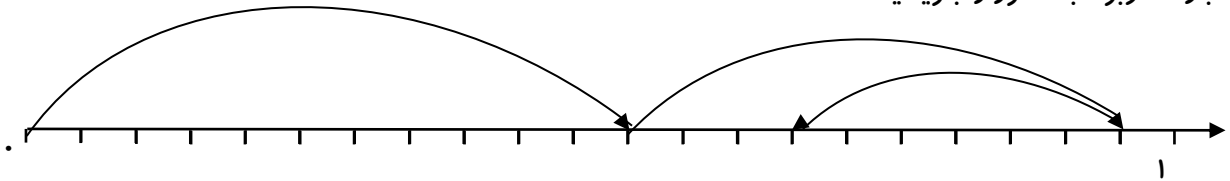
- الف) ۹۸۶۵۰۱۱ ب) ۹۰۸۶۵۱۱ ج) ۹۸۶۱۰۱۵ د) ۹۸۶۵۱۰۱

۳- مریم ساعت ورود خود را به منزل به صورت عدد مخلوط $۵\frac{2}{3}$ بیان کرد.



زمان ورود مریم را روی ساعت نشان دهید.

۴- عبارت مربوط به محور را بنویسید.



۵- $\frac{3}{5}$ عدد ۲۰ چقدر بیشتر از $\frac{2}{8}$ عدد ۱۶ است؟

۶- ثلث پول یاسمین ۷۰۰ تومان است، کل پول او چقدر است؟

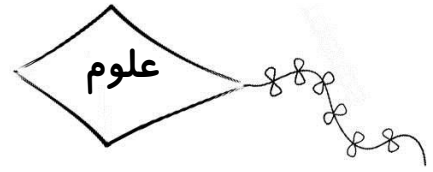
۷- محیط مثلثی ۱ متر است. اگر دو ضلع آن $\frac{2}{8}$ و $\frac{1}{8}$ باشد، ضلع سوم چقدر است؟

۴. باغبانی $\frac{1}{8}$ باغ خود را گل نرگس و $\frac{2}{4}$ آن را گل مریم کاشت.

الف) چه کسری از باغ گل کاری شده است؟

ب) چه کسری از باغ گل کاری نشده است؟

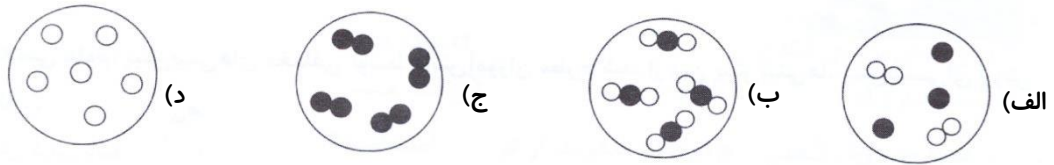




۱- در فعالیت کلاسی علوم، پیش بینی‌های مختلفی توسط دانش آموزان مطرح شد. از بین پیش بینی‌ها، پیش بینی‌ای ارزش علمی دارد که

- (الف) قابل آزمایش کردن باشد.
- (ب) فقط با مشاهده، درستی آن ثابت شود.
- (ج) توسط آموزگار مربوطه درستی آن تایید شود.
- (د) توسط اکثریت دانش آموزان مطرح شده باشد.

۲- کدام شکل نشان دهنده‌ی یک ماده‌ی مخلوط است؟



۳- کدام گزینه زیر را می‌توان یک پیش بینی درست در نظر گرفت؟

- (الف) این باغ حتماً یک سگ نگهبان دارد.
- (ب) احتمالاً مزه‌ی نارنگی‌های این یک مغازه، شیرین است.
- (ج) حلزون از همه‌ی موجودات اطراف خود تغذیه می‌کند.
- (د) لباس‌های سیاه زیر آفتاب، زودتر خشک می‌شوند.

۴- کدام یک از موضوعات زیر برای تحقیق کردن مناسب‌تر است؟

- (الف) اندازه گیری نمک دریاچه‌ی ارومیه
- (ب) خوراکی‌ها
- (ج) لباس‌های مردم جهان
- (د) آب دریاها

۵- برای آن که شکر را سریع‌تر در آب حل کنیم کدام راه را پیشنهاد می‌کنید؟

- (الف) آب را سرد کرده و هم بزنیم
- (ب) آب را گرم کرده و هم بزنیم
- (ج) فقط آب را گرم کنیم
- (د) فقط آب را هم بزنیم

۶- کدام یک از گزینه‌های زیر مخلوطی یکنواخت است؟

- (الف) آب
- (ب) اکسیژن
- (ج) دوغ
- (د) آب قند

۷- کدام یک از گزینه‌های زیر، محلول (مایع در مایع) است؟

- (الف) روغن زیتون و آبلیمو
- (ب) نفت و آب
- (ج) سرکه و آب
- (د) شکر و سرکه

۸- کدام مخلوط زیر، محلول محسوب می‌شود؟

- (الف) نشاسته در آب
- (ب) روغن زیتون در آب
- (ج) الکل در آب
- (د) شکر در نفت



۱- معنی واژه‌های زیر را بنویسید.

حکیم:
برافراشته:
آماده:
آموختن:
نیک نامی:
قصد:

۲- جاهای خالی را با توجه به متن درس، با کلمه‌های مناسب پر کنید.

بیاموزید، آنچه را است و به دست آورید، آنچه را است. با خود داشته باشید که اگر در دریا هم کشتی شما غرق شد و به تخته پاره‌ای یا در شهری دور افتاده آن را از دست ندهید.

۳- حروف جا افتاده‌ی واژه‌های زیر را کامل کنید.

.....وفانقصدت....جبت....لیم

۴- واژه‌های زیر را در یک جمله به کار ببرید.

جوهر:
تعلیم:

۵- هم خانواده کلمه‌های زیر را بنویسید.

قصد:
حاکم:
تعجب:
حاضر:

۱- قسمتی از یک شهر یا روستا که در آن گروهی از مردم در همسایگی یک‌دیگر زندگی می‌کنند چه نام دارد؟

الف) محله ب) ناحیه ج) استان د) منطقه

۲- کدام مورد درباره‌ی مقررات محله نادرست است؟

- الف) در حل مشکلات محله با هم همکاری کنیم
- ب) موقع خداحافظی با مهمان‌ها با صدای بلند صحبت نکنیم
- ج) زباله‌ها را در هر ساعتی از روز در سطل مخصوص زباله بیندازیم
- د) در زمان استراحت همسایه‌ها در حیاط توپ بازی نکنیم





۳- کدام یک از کارهای زیر در مسجد محله انجام نمی‌شود؟

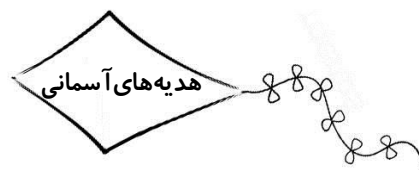
- (الف) عبادت خداوند (ب) مشورت مردم با هم برای حل مشکلات محله
 (ج) برگزاری همهی جشن‌ها (د) برگزاری مراسم دعا و عزاداری

۴- مردم امام جماعت در صف‌های منظم رو به قبله می‌ایستند. امام جماعت در قرار می‌گیرد.

- (الف) در کنار، صف اول (ب) پشت سر، محراب (ج) در کنار، محراب (د) پشت سر، صف اول

۵- در کدام گزینه، افراد مقررات بوستان را رعایت نکرده‌اند؟

- (الف) زهرا و دوستش بعد از خوردن بستنی، چوب آن را در سطل زباله انداختند
 (ب) علی و رضا روی چمن‌ها در پارک فوتبال بازی نکردند
 (ج) مریم و شیوا از گل‌های پارک چیدند و گل‌ها را به مادرشان هدیه دادند
 (د) بابک و دوستش در زمان بازی به وسایل بازی آسیب نرساندند



۱- در کدام یک از موارد زیر نماز آیات واجب می‌شود؟

- (الف) ترس از دشمن (ب) رنگین کمان (ج) زلزله (د) خورشید

۲- نماز آیات چند رکعت است؟

- (الف) ۲ رکعت (ب) ۴ رکعت (ج) ۳ رکعت (د) ۱ رکعت

۳- خورشید گرفتگی نشانه چیست؟

- (الف) بی‌نظمی جهان (ب) نظم جهان (ج) بزرگی خورشید (د) منظومه شمسی

۴- نماز آیات در هنگام از یک حادثه طبیعی، خوانده می‌شود.

۵- با خواندن نماز آیات، بزرگی و توانایی را به یاد می‌آوریم.

۶- برای خواندن کدام نماز باید وضو گرفت؟

- نماز آیات نماز صبح هر دو مورد

۷- نماز آیات چند رکعت است و هر رکعت چند رکوع دارد؟

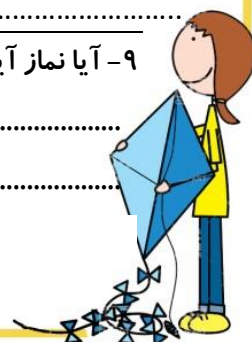
- (الف) چهار رکعت، هشت رکوع (ب) دو رکعت، پنج رکوع
 (ج) دو رکعت، چهار رکوع (د) چهار رکعت، پنج رکوع

۸- تفاوت نماز آیات با نماز صبح را بنویسید.

.....

۹- آیا نماز آیات را فقط هنگام خورشید گرفتگی می‌خوانند؟ چرا؟

.....





قوی ترین مردم کیست؟

روزی جوانان شهر پیامبر سرگرم زورآزمایی و مسابقه وزنه برداری بودند. سنگ بزرگی آنجا بود که هر کس آن را بلند می کرد از همه قوی تر به شمار می رفت. در این هنگام رسول اکرم (ص) از راه رسیدند و پرسیدند: چه می کنید؟

جوانان پاسخ دادند: داریم زورآزمایی می کنیم. می خواهیم ببینیم کدام یک از ما قوی تر و زورمندتر است.

پیامبر به آن ها فرمودند: میل دارید که من بگویم چه کسی از همه قوی تر و نیرومندتر است؟

همه گفتند: البته، چه از این بهتر که رسول خدا داور مسابقه باشد و نشان افتخار را او بدهد.

افراد جمعیت همه منتظر و نگران بودند که رسول اکرم کدام یک را به عنوان قهرمان معرفی خواهد کرد؟ عده ای بودند که هر یک پیش خود فکر می کردند الآن رسول خدا دست او را خواهد گرفت و به عنوان قهرمان مسابقه معرفی خواهد کرد.

رسول اکرم (ص) فرمودند: از همه قوی تر و نیرومندتر آن کسی است که اگر زمانی عصبانی شد خودش را کنترل کند و همیشه حقیقت را بگوید و کلمه ای دروغ یا حرف زشت بر زبان نیاورد.

