

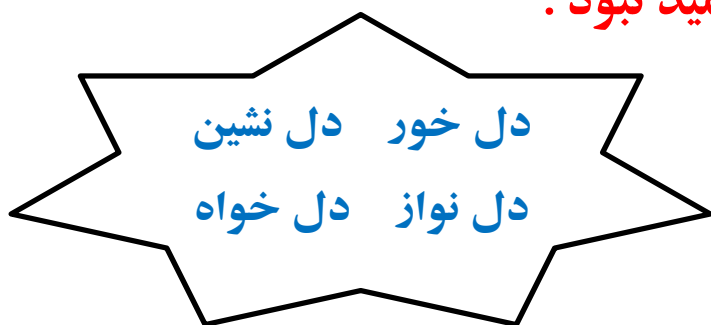


به نام خداوند بخشنده و مهربان



۱- کلمه ی مناسب را از جعبه ی کلمات انتخاب کن و جعبه ها را کامل کن.

- موضوع من کتابخوانی است
- صوت قرآن در مسجد پیچیده بود.
- آواز پرنده به گوش می رسید.
- او از شکست بود ؛ اما ناامید نبود .



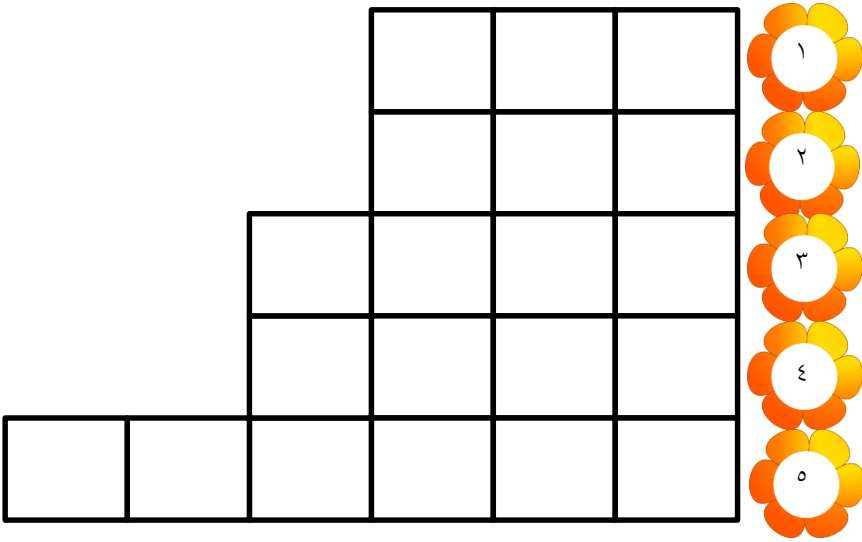
۲- در متن زیر ، حروف بعضی از کلمات جا افتاده است .حروف جا افتاده را با مداد قرمز بنویس.

بهترین سرودها و ن...مه های ...بیعت ، ا...رافم را پر کرده است همه یداها
را می شنوم ؛اما صدای تو را نمی شنوم بوی بهترین ع...رها را ح.... می کنم اما تو
را نمی بینم .

۳- فرزندم اگر بخواهی با امام زمان (عج) صحبت کنی چه می گویی؟



۴- جدول حل کنیم .



۱- نام دیگر گردو.

۲- به نوک کوه می گویند.

۳- هم معنی نغمه.

۴- مخالف کثیف.

۵- هم خانواده منتظر.

۵- در هر ردیف کدام کلمه با بقیه فرق دارد ؟ دور آن خط بکش.

مدرسه - درس - تدریس - معلّم

خاطرات - قطره ها - لحظات - کلمات

۶- به هر کلمه یک جزء اضافه کن تا کلمه ی معنی دار ساخته شود .

ثروت -----

رفتار -----

سر -----




۱- از ۱۰۰۰ تا ۱۵۰۰ را ۵۰ تا ۵۰ بنویسید.

۱۰۰۰-۱۰۵۰- -----



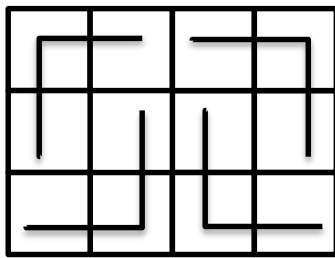
۲- اگر عقربه ی بزرگ ساعت ۱۵ دقیقه حرکت کند همیشه چه نوع زاویه ای درست

می شود؟ با رسم شکل نشان دهید.



۳- عددی را به ۶ اضافه می کنیم . از حاصل ۶ تا کم می کنیم چه عددی به دست می آید؟ چرا؟

۴- برای شکل یک تساوی ضرب و یک تساوی جمع بنویس .



..... تساوی ضرب

..... تساوی جمع

۵- محمد روزی ۶ صفحه قرآن می خواند پس از یک هفته چند صفحه قرآن خوانده است؟

۶- جدول ضرب زیر را روی شکل نشان دهید.

		۸		۹	
۲	۴		۱۲		۱۴
۳	۶				



۷- کسر های زیر را روی شکل نشان دهید .



$\frac{3}{4}$

$\frac{1}{2}$

$\frac{1}{3}$



$\frac{2}{4}$

با توجه به شکل های بالا جاهای خالی را کامل کن



$$\frac{1}{2} > - \quad - < \frac{3}{4}$$

۸- هر دست بشقاب، ۶ بشقاب است . سه دست بشقاب چند بشقاب است ؟

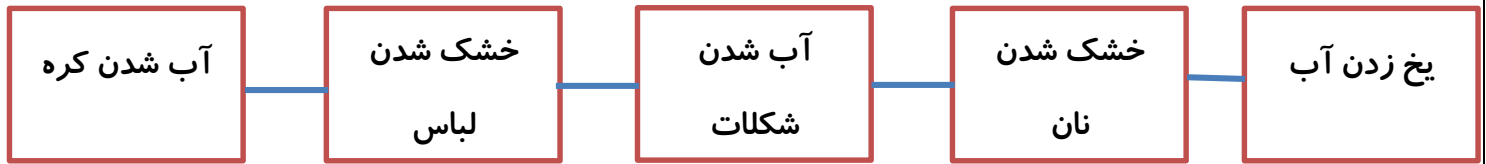


۱- اگر سوالی در مورد « تغذیه ی مناسب » داشته باشیم از چه کسانی می توانیم

پرسیم ؟



۲- با توجه به راهنما هر کدام از تغییرات روی شکل را رنگ آمیزی کنید.



انجماد ← آبی ذوب ← قرمز تبخیر ← سبز

۳- واحد اندازه گیری هر یک از مواد زیر را بنویسید. (کیلو گرم- گرم- لیتر)




۱- محسن می خواهد این کارها را قبل از نماز خواندن انجام دهد به او کمک کنید

و آن ها را به ترتیب شماره گذاری کنید ؟

- پاک کردن دست از خون وضو گرفتن رفتن به مسجد
- قرار گرفتن به سوی قبله شانه کردن موی سر

۲- به چه سنی ، سن تکلیف می گویند؟



۳- کارهای واجب را رنگ سبز و کارهای حرام را رنگ قرمز کنید.

نگاه به
نامحرم

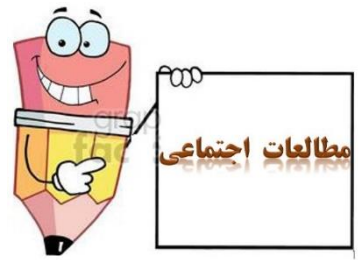
غیبت

احترام به
پدر و مادر

روزه
گرفتن

دروغ

خواندن
نماز



۱- چرا نباید همه ی کارهای خانواده به عهده ی یک نفر باشد؟

الف) چون خسته می شویم ب) باید کارها را بین خودمان تقسیم کنیم


ج) باید با هم همکاری داشته باشیم. د) تمام گزینه های صحیح است.

۲- در خانه ی شما چه مقرراتی وجود دارد؟


۱-
۲-

۲- همکاری در خانواده چه فایده هایی دارد؟ (۲ مورد بنویسید)





خوشنویسی



پسرم کلمات زیر را به تحریر بنویس. *


فاطمه:

سفر:

اطراف:

مفعول:

کیف:



سوالاتی از بروشور اشاره مخصوص اولیاء

اولیای گرامی جهت پاسخگویی به سؤالات زیر، به بروشور اشاره شماره ۱۳۴ مراجعه نمایید.

پاسخ به این سؤالات برای دانش آموز عزیز کارت امتیاز دارد!

۱- ابعاد هوش اخلاقی را نام ببرید.

۲- فضیلت هوش اخلاقی چه کمکی می تواند به فرزندانمان بکند؟

۳- به معنی توانایی درک نگرانی های دیگران است.

۴- سنگ بنای اصلی رشد اخلاقی کدام است؟

الف) وجدان ب) همدلی ج) خویشتنداری د) همه موارد

۵- صحبت کردن مداوم با فرزندان درباره ارزش ها و باورها نامیده می شود.

۶- کودکان بیشترین تاثیر را از چه کسانی می پذیرند؟



توصیه بهداشتی: در بین غذا آب ننوشید



کسی که می خواهد معده اش او را آزار ندهد و دچار اختلالات گوارشی نشود، در بین غذا آب ننوشد که در چنین صورتی دچار افزایش رطوبت بدن و ضعف معده می گردد. زیرا معده برای هضم نیازمند حرارت است. مصرف آب چنین شرایطی علاوه بر ایجاد اختلال در هضم معده باعث افزایش مایعات سلولی و رطوبت بدن می گردد. و هنگامی که هضم اول در معده دچار اختلال شد، غذای هضم نشده از طریق عروق (ماساریق) جذب نمی شود. زیرا اگر پشت سر هم روی غذا آب ریخته شود، آن غذا در معده، ناپخته و بد گوارش می گردد. این اقدام غیر بهداشتی غالباً موجب بزرگی شکم و انباشت چربی در ناحیه شکم خواهد شد و افرادی که در میان غذا، آب یا هر نوشیدنی میل کنند، به اختلالات گوارش دچار می شوند.




معما و سرگرمی

پسر گلم تفاوت هایی که در تصویر شماره ۱ است در تصویر شماره ۲ پیدا کن و دور آن

را خط بکش.

تصویر شماره (۱)



تصویر شماره (۲)

