

۱- با ارقام ۷ و ۳ و ۵ و ۸ و ۱ و ۹ بزرگترین و کوچکترین عدد شش رقمی با ارقام غیر تکراری را بنویسید و اختلاف

آن دو را حساب کنید.

۲- دانش آموزی می خواهد نوارهای کاغذی که طول هر کدام ۵ سانتی متر است را با منگنه به هم متصل کند. او هر دو

تکه را با یک منگنه به هم وصل می کند. برای ساختن یک نوار ۴۵ سانتی متری به چند منگنه نیاز دارد؟

۳- در جای خالی چه عددهایی می توانیم بگذاریم؟ (۴ عدد مختلف بنویسید).

$$200000 > 19900 + \square$$

۴- پول هانیه چهار برابر پول نرگس است. اگر نرگس ۱۵۰۰ تومان داشته باشد. مجموع پول آنها چقدر خواهد شد؟

۵- با یک سیم مفتولی به طول ۲۴ سانتی متر یک بار یک مربع و بار دیگر یک مثلث متساوی الاضلاع ساخته ایم. طول

ضلع کدام بیشتر است؟ چرا؟

۶- عددها را مقایسه کنید.

$$\begin{array}{ccc} 897 & \bigcirc & 894 \\ 120310 & \bigcirc & 99889 \end{array}$$

$$\begin{array}{ccc} 9753 & \bigcirc & 9742 \\ 95742 & \bigcirc & 158310 \end{array}$$

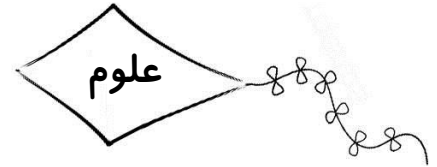
۷- حاصل جمع و تفریق را به دست آورید.

$$\begin{array}{r} 852002 \\ + 42701 \\ \hline \end{array}$$

$$\begin{array}{r} 57000 \\ - 4972 \\ \hline \end{array}$$

$$\begin{array}{r} 5374 \\ + 2789 \\ \hline \end{array}$$

$$\begin{array}{r} 87435 \\ - 8934 \\ \hline \end{array}$$



۱- آب گل آلود مخلوط در است.

- الف) مایع در جامد ب) جامد در جامد
 ج) مایع در مایع د) جامد در مایع

۲- کدام یک از مخلوط‌های زیر محلول است؟

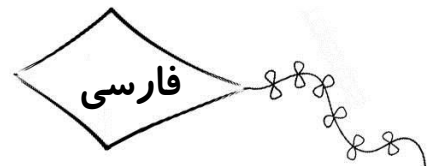
- الف) خاک در آب ب) سرکه در آب ج) آجیل د) براده آهن در نمک

۳- خاصیت مواد پس از مخلوط شدن چه تغییری می‌کند؟

- الف) خاصیت ماده بیشتر می‌شود. ب) خاصیت ماده کمتر می‌شود.
 ج) تغییر نمی‌کند. د) خاصیت ماده گاهی کمتر و گاهی بیشتر می‌شود.

۴- کدام مخلوط را به آسانی نمی‌توان از یکدیگر جدا کرد؟

- الف) شکر و نمک ب) آب و نمک ج) آب و شکر د) سکه و نمک



۱- هم‌خانواده‌ی کلمه‌های زیر را بنویسید.

- سطح: مهاجر: لذیذ:
 انتخاب: علوم: عملیات:

۲- مخالف کلمه‌های زیر را بنویسید.

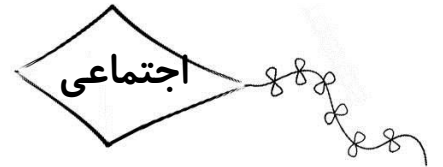
- پایان: دشوار: گرم:
 زشت: طولانی: تلخ:

۳- برای هر کدام از کلمه‌های زیر یک جمع بنویسید.

- منظره: تصویر: نقاش:

۴- شاعر شعر «خدا» و «خبرداغ» را بنویسید.






۱- پیامبر گرامی (ص) درباره‌ی حقوق و رفتار با همسایگان چه فرموده‌اند؟

.....
.....

۲- مسجد محل برگزاری چه مراسمی است؟ مردم در مسجد و پشت سر امام جماعت چگونه نماز می‌خوانند؟

.....
.....



۱- چه کسی از نیازهای ما آگاه است؟

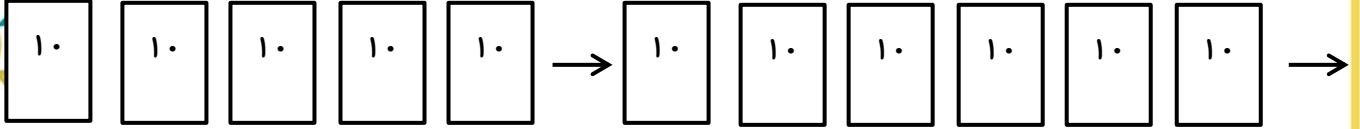
.....
.....

۲- گیاه کوچک وقتی پایش در دل زمین و سرش رو به خورشید بود با خود چه گفت؟

.....
.....



۱- با توجه به الگوی زیر تعداد دسته‌ها در چندمین مرحله به ۱۰ دسته می‌رسد.



۲- الناز هر شب ۳ بادام و ۳ فندق و ۳ پسته می‌خورد، طی یک ماه او چند پسته خورده است؟

سودوکو

| | | | | | | | | |
|---|---|---|---|---|---|---|---|---|
| ۱ | ۸ | | ۲ | ۵ | | ۴ | ۳ | ۷ |
| ۶ | | ۴ | | ۹ | ۷ | ۵ | | ۱ |
| ۳ | ۷ | | ۴ | | | ۶ | ۹ | ۲ |
| ۴ | ۱ | ۶ | | ۷ | ۸ | | ۲ | ۹ |
| | ۵ | | ۹ | | ۲ | ۱ | ۶ | ۴ |
| ۹ | ۳ | ۲ | ۶ | | ۴ | | ۷ | ۵ |
| ۲ | ۶ | ۱ | | ۴ | ۹ | | ۵ | ۳ |
| | ۴ | | ۷ | ۲ | ۳ | ۹ | | ۶ |
| ۷ | ۹ | ۳ | ۱ | | ۵ | ۲ | | ۸ |



به مناسبت روز جهانی کودک با هم یک کاردستی بسازیم



وسایل لازم برای کاردستی آدمک کاغذی:

* کاغذ رنگی یا سفید یا مقوای نازک

* قیچی

* مداد

* مداد رنگی (در صورت تمایل به رنگامیزی)

* لوازم تزئینی مثل چشم عروسکی (در صورت تمایل)

آموزش ساخت کاردستی " آدمک " با کاغذ :

ابتدا کاغذ را به صورت آکاردئونی - مثل کاردستی بادبزن تا می کنید.

سپس نصف نقش مورد نظر را با توجه به خط تقارن تصویر - روی کاغذ تا شده می کشید.

در مرحله بعد دور نقش مورد نظر را قیچی کرده و تای کاغذ را باز می کنید.

کاردستی کاغذی آدمک های شما آماده است.

