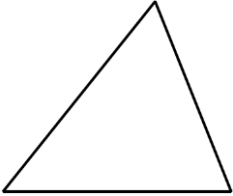
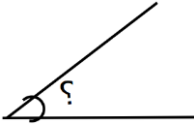
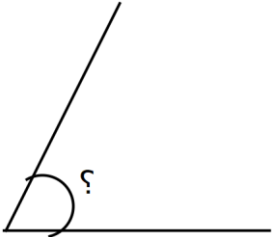
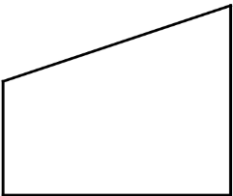
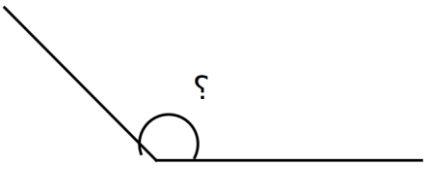


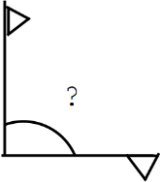
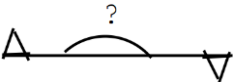
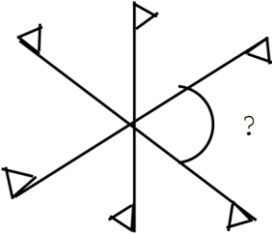
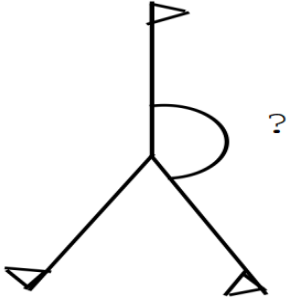
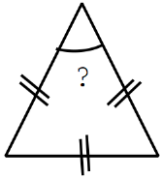
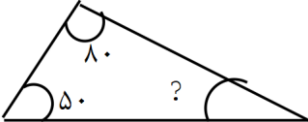
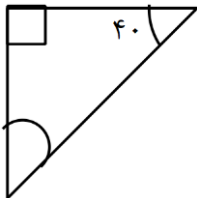
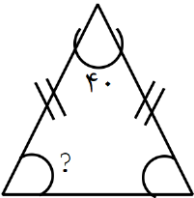
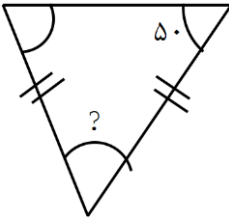


شنبه	جمعه	پنجشنبه
<p>۱- زاویه های داخلی شکل مقابل را اندازه بگیرید.</p>  <p>زاویه های داخلی شکل بالا را جمع بزنید و حاصل را بنویسید.</p>	<p>۱- پسرم زاویه های خواسته شده را با کمک نقاله رسم کنید.</p> <p>زاویه ۴۰</p> <p>زاویه ۱۱۰</p>	<p>۱- پسرم زاویه های زیر را با دقت به کمک نقاله اندازه بگیرید.</p>  
<p>۲- زاویه های داخلی شکل زیر را با کمک نقاله اندازه بگیرید.</p>  <p>زاویه های داخلی شکل بالا را جمع کنید و حاصل آن را بنویسید.</p>	<p>زاویه ۱۵۵</p> <p>زاویه ۳۵</p>	 

سه شنبه	دوشنبه	یکشنبه
<p>۱- با توجه به شکل ها مشخص کنید که در هر حالت پرچم چند درجه چرخیده است؟</p>     	<p>۱- بدون استفاده از نقاله زاویه خواسته شده را بیابید.</p>     	<p>۱- بدون استفاده از نقاله زاویه خواسته شده را پیدا کنید.</p> 