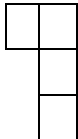





سوالات

ردیف

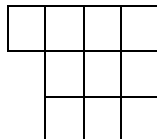
با توجه به الگوی زیر، شکل نهم چند مربع دارد؟



۱



۲



۳

؟

۹

۱

جاهای خالی ماشین های زیر را کامل کنید.

طول ضلع مربع	۲	۵		
محیط مربع		۲۸	۱۶	۴۰

۸۳۵۰۲۷۱۹۴

با توجه به عدد روبه رو به سوالات زیر پاسخ دهید.

الف) جدول ارزش مکانی بکشید.

ب) به حروف بنویسید.

پ) عدد ۳ در چه مرتبه ای قرار دارد؟

ت) مجموع رقم های مرتبه میلیون چند است؟

ث) عددی که در کمترین مرتبه قرار دارد چند است؟

۲

حاصل عبارت های زیر را بدست آورید.

$$\left(3 \times \frac{4}{10}\right) - \left(3 \times \frac{2}{5}\right) =$$

$$\left(\frac{14}{20} + \frac{1}{4}\right) - \left(\frac{11}{10} + \frac{2}{5}\right) =$$

$$\frac{4}{6} - \frac{34}{48} =$$

$$\frac{8}{15} + \frac{4}{5} =$$

۳

کسر های زیر را مقایسه کنید.

$$0 \square \frac{2}{4}$$

$$\frac{17}{28} \square \frac{17}{20}$$

$$\frac{3}{9} \square \frac{9}{27}$$

$$\frac{673}{1000} \square \frac{4}{10}$$

کسرهای زیر را ساده کنید.

$$\frac{8}{28} =$$

$$\frac{14}{63} =$$

$$\frac{30}{1000} =$$

کدام عدد هم بر ۲ و هم بر ۳ بخش پذیر است؟

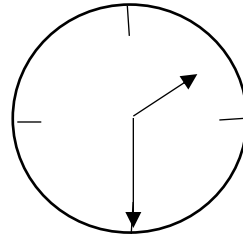
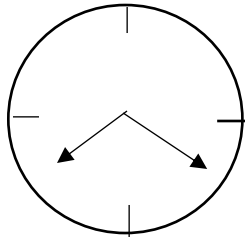
۸۰۴۲ (د)

۵۰۰۸ (ج)

۱۱۷۰۰ (ب)

۴۰۰۵ (الف)

با توجه به شکل ها، کسر یا عدد مخلوط بنویسید.



کلاس پنجم مدرسه ما $\frac{1}{5}$ از آن ها اردو رفته اند. کلاس چهارم ۲۰ نفرند که $\frac{1}{4}$ از آن ها اردو رفته اند. از کدام کلاس تعداد بیشتری اردو رفته اند؟

۴

در یک مدرسه ۴ صف ۲۵ نفره تشکیل شده است. خمس این دانش آموزان چند نفر است؟

باغداری $\frac{1}{5}$ از باغش را درخت گیلاس و $\frac{3}{10}$ آن را آلبالو کاشته است. اگر بقیه باغ را درخت سیب کاشته باشد، چه کسری از باغ را درخت سیب کاشته است؟

آموزگاری تعدادی مداد را بین ۲۵ نفر از دانش آموزان تقسیم کرده است. اگر به هر نفر ۱۰ مداد برسد و ۱۴ مداد هم باقی بماند، تعداد اولیه مدادها چند تا بوده است؟

حاصل ضرب ها و تقسیم های زیر را به دست آور و درستی رابطه ی آنها را بنویس.

$$8497 \mid 43$$

$$7239 \mid 9$$

$$4359 \mid 27$$

$$\begin{array}{r} 248 \\ \times 735 \\ \hline \end{array}$$

$$\begin{array}{r} 909 \\ \times 101 \\ \hline \end{array}$$

در این
قسمت
چیزی
ننویسید.

در این
قسمت
چیزی
ننویسید.

نیاز به تلاش	قابل قبول	خوب	خیلی خوب	انتظارات آموزشی
				با ارزش مکانی الگو نویسی و عدد نویسی آشناست.
				کسرها را با هم مقاسیه میکند در عبارات کسری مسلط است.
				در ضرب و تقسیم های چند رقمی مسلط است.
				بخش پذیری و ساده کردن کسرها به خوبی فراگرفته.
				در مسائل مربوط به ضرب و تقسیم تسلط کافی دارد.
				کسر مربوط به ساعت را به خوبی مینویسد.

باز خورد معلم:

با آرزوی موفقیت برای شما