


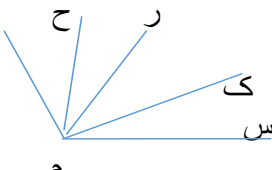


نام درس: ریاضی پایه چهارم مدت آزمون: ۸۰ دقیقه تاریخ آزمون	بسمه تعالی اداره کل آموزش و پرورش استان اصفهان اداره آموزش و پرورش منطقه زواره دبستان مبارزان اسلام	نام و نام خانوادگی: نام پدر: نام آموزگار: فاطمه عابدینی سال تحصیلی:
<div style="display: flex; justify-content: space-around;"> <div style="text-align: center;">  <p>ص</p> </div> <div style="text-align: center;">  <p>ص</p> </div> <div style="text-align: center;">  <p>ص</p> </div> </div>	<p>درست یا نادرست بودن جملات زیر را با ( ص و غ ) مشخص کنید .</p> <p>(الف) عدد ۵۵ بر ۳ بخش پذیر است؟ (ب) مساحت مربع برابر است با یک ضلع <math>4 \times</math> (ج) یک تن ۱۰۰۰ کیلو گرم است.</p>	۱
	<p>جمله های زیر را با کلمه های مناسب کامل کنید .</p> <p>(الف) نقطه ی برخورد دو نیم خط در زاویه ..... نام دارد. (ب) در هر مستطیل قطر ها باهم ..... هستند. (ج) زاویه ی تند از زاویه ..... کوچک تر است. (د) وسیله ی اندازه گیری زاویه ..... نام دارد.</p>	۲
	<p>باتوجه به عدد مقابل به سوال های زیر پاسخ دهید.</p> <p>۳۴۰۵۲۱۷۸۶</p> <p>(الف) این عدد را به حروف بنویسید. (ب) عدد ۸ در چه مرتبه ای قرار دارد؟ (ج) ارزش مکانی کدام عدد کمتر است؟ (د) رقم صدگان آن چند است؟</p>	۳
$\frac{5}{7} \bigcirc \frac{15}{21}$	$\frac{35}{42} \bigcirc \frac{5}{6}$	۴
$\frac{19}{100} + \frac{3}{50} =$	$\frac{2}{5} - \frac{1}{5} =$	۵
<p>۱۱ مزرعه ای را گندم و <math>\frac{7}{20}</math> انرا جو کاشته اند در چه کسری از این مزرعه گندم و جو کاشته شده است؟ چه کسری مانده است ؟</p>		۶
$20.4 \times$ ۵۷	$2427 \times$ ۳۰۰	۷
<p>یک مینی بوس در ۹ ساعت ۵۸۵ کیلو متر را طی کرده است. این مینی بوس به طور متوسط در هر ساعت چند کیلو متر را طی کرده است؟</p>		۸
$7345 \div 35$	$8980 \div 81$	۹
		۱۰

۱۱ برای ساعت روبه رو یک عدد مخلوط بنویسید.



۱۲ حاصل جمع و تفریق های زیر را به دست آورید.

$$7/2 - 3/5 =$$


$$9/6 - 2/5 =$$

$$6/2 + 7/3 =$$

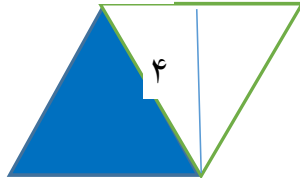
$$4/7 + 1/8 =$$

۱۳ پاره خطی به طول ۷ سانتی متر بکشید سپس عمود منصف آن را رسم کنید.

۵

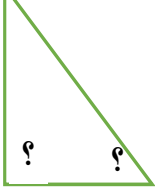


۹



۱۴ در شکل های زیر مساحت قسمت رنگ شده را به دست آورید.

۳۵



۱۵ اندازه زاویه های خواسته شده را بنویسید .

خود سنجی

۱) آیا از آزمون خود راضی هستید؟ چرا؟

۲) به نظر معلم و خود در این درس چه چیز هایی را بیشتر یاد گرفتیم؟

۳) به نظر معلم و خود برای یاد گیری چه چیز هایی باید بیشتر تلاش کنیم؟

۴) برای اینکه بیشتر یاد بگیریم چه کار هایی باید انجام دهیم؟

۵) از این آزمون و نوشته های خود چه چیز های جدیدی یاد گرفتیم؟

تسلط خیلی کم

تسلط کم

تسلط متوسط

تسلط خوب

تسلط کامل

سطوح عملکرد  
اعداد الگوها  
کسر  
ضرب و تقسیم  
اندازه گیری  
عدد مخلوط و اعشاری  
شکل های هندسی

## دوستان لطفا لطفا این متن و بخونید ممنون

✓ شاید دقت کرده باشین که اسم فایلها از یه جا به بعد تغییر کرد و اول همه ی فایل ها این آی دی قرار داده شد :

@MoallemYarIR4

✓ این آی دی کانال معلم یار پایه چهارم هستش و شما برای اینکه مطمئن شین

عضو کانال اصلی معلم یار هستین


✓ کافیه این آی دی و تو قسمت جست و جوی تلگرام یا تو چت خودتون وارد کنید :

@MoaLLemYarir4

✓ بنده روزانه کلی وقت میزارم برای پیدا کردن و آماده کردن مطالب ولی متاسفانه یه سری از دوستان خیلی راحت و بدون هیچ زحمتی و تنها با یه موبوگرام مطالب خانواده ی معلم یار و میفرستن تو کانال خودشون و به نام کانال خودشون ثبت میکنن!

✓ و دلیل کم بودن مطالب خانواده ی معلم یار نسبت به بقیه کانالها همین موضوع هستش!

✓ فکر کنید خانواده ی معلم یار روزی 5 مطلب میفرسته کانال هایی که مطالب کپی میکنن بدون هیچ زحمتی روزانه فقط از کانال معلم یار میتونن 5 مطلب کپی کنند حالا کپی از کانالهای دیگه جای خود !!

ممنون میشم کنار عضویت توکانالهای دیگه برای حمایت از بنده و خانواده‌ی معلم یار حتما عضو کانال معلم یار بشین 

✓ سال خوب و خوشی و برکتی آرزو میکنم 😊

↗️ آدرس اصلی کانال @MoallemYarIR4

معلم یار چهارم

کپی شده از