

۱- با سه رقم ۴ و ۵ و ۷ هر چه می توانی عدد ۳ رقمی بنویس.

.....

- عددهای زوج را پیدا کن و بنویس.

.....

- عدد های فرد را پیدا کن و بنویس.

.....

- حالا عدد های زوج را از کوچک به بزرگ مرتب کن و بنویس.

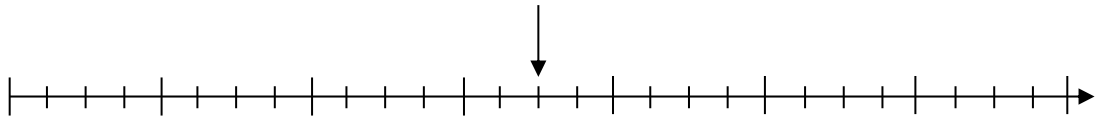
.....

- همین کار را برای عدد های فرد انجام بده.


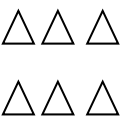

.....

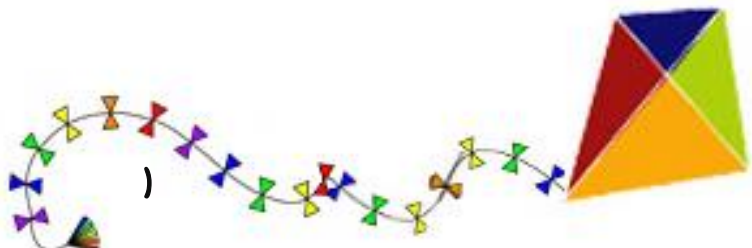
۲- در محور زیر هر واحد به ..... قسمت مساوی تقسیم شده است.

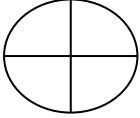
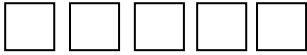
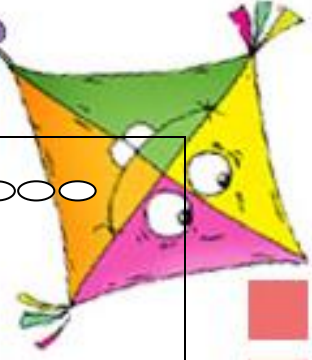
نقطه ی مشخص شده ..... واحد و ..... قسمت از ..... قسمت مساوی را نشان می دهد.



۳- با توجه به هر عبارت ، از شکل ها رنگ بزنید.

 <p>۹ قسمت از ۱۲ قسمت</p>	 <p>۲ قسمت از ۶ قسمت</p>	 <p>۱۲ قسمت از ۱۸ قسمت مساوی</p>
--	---	---




		
۲ قسمت از ۴ قسمت	۵ قسمت از ۵ قسمت	۴ قسمت از ۷ قسمت

۴- اگر مجموع پول علی و فرشته ۱۳۵ ریال و پول فرشته ۸۲ ریال باشد، مقدار پول علی چند ریال است؟

۵- جمع و تفریق های زیر را انجام دهید.

۱۲۹	۲۶۹	۹۰۰	۸۰۳
+ ۴۹۶	+ ۵۸۳	- ۳۷۶	- ۶۵۶
_____	_____	_____	_____

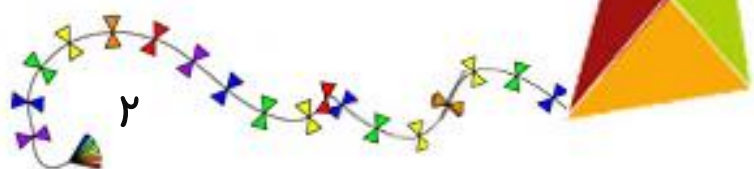


۱- به چیزهایی که در اطرافمان وجود دارد، ..... می گویند.

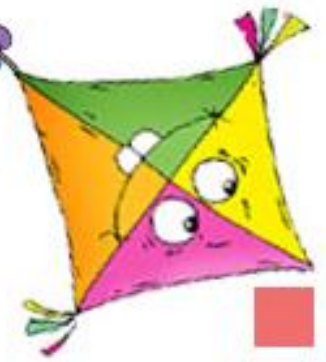
- الف) جهان     
  ب) ماده     
  ج) طبیعت

۲- شکل کدام یک را می توانیم بکشیم؟

- الف) سرکه     
  ب) سیب     
  ج) چای



پایه دوم



۳- کدام جمله مرتب شده‌ی کلمات زیر است؟

« جامد، چیزی، به، داشته، هر، شکل، که، باشد، می‌گویند، معین»

الف) هر چیزی که جامد باشد شکل معین داشته.

ب) به چیزهای اطراف ما جامد معین می‌گویند.

ج) به هر چیزی که شکل معین داشته باشد، جامد می‌گویند.

۴- همه‌ی مواد جا می‌گیرند ولی.....

الف) بعضی مواد جای کمتری می‌گیرد.

ب) همه‌ی مواد جای زیادی می‌گیرند.

ج) بعضی مواد جای کمتر و بعضی مواد جای بیش‌تری می‌گیرند.

۵- چه شباهتی بین یک میز و یک جبه قند است؟

الف) هر دو شکل معینی دارند.

ب) جبه‌ی قند کوچک ولی میز بزرگ است.

ج) هیچ‌کدام شکل معینی ندارند.



۶- مریم می‌خواهد کلمه‌ی «جامد» را برای دوستان خود تعریف کند. او می‌گوید:

الف) چیزهایی که جا نمی‌گیرند.

ب) چیزهایی که کوچک هستند.

ج) چیزهایی که شکل معین و مشخص دارند.

فارسی

۱- دختر خوبم مخالف کلمه‌های زیر را بنویس.

ناراحتی  $\neq$  .....

سرد  $\neq$  .....

راست  $\neq$  .....

بالا  $\neq$  .....

تشنه  $\neq$  .....

تند  $\neq$  .....

۲- کلمه‌های هم‌معنی را مثل هم رنگ کن.

ناگهان

زیبا

یک دفعه

خیلی

وسط

میان

زیاد

قشنگ

سر



پایه دوم





۳- جاهای خالی را با کلمه‌ی مناسب کامل کن.

(الف) به کسی که آشنا نباشد ..... می‌گویند.

(ب) به کاری که پسندیده نباشد ..... می‌گویند.

(پ) به کسی که آرام نباشد ..... می‌گویند.

(ت) ..... ناتوان می‌گویند.

(ث) ..... ناممکن می‌گویند.

۴- به هر کلمه یک کلمه اضافه کن و سپس با ترکیب به دست آمده، جمله‌ای زیبا بساز.

گیاهان ..... :

خورشید ..... :

۵- مانند نمونه جمله‌های زیر را بازنویسی کن.

باران آمد. ← باران آرام آرام آمد.

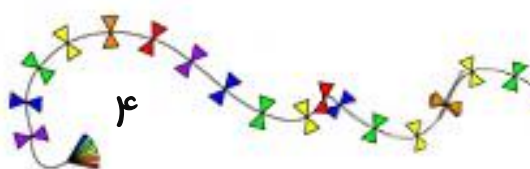
زهرا خندید. ← .....

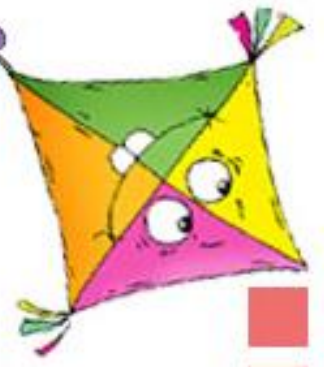
او کتابش را می‌خواند. ← .....

گیاهان تشنه، سیراب شدند. ← .....

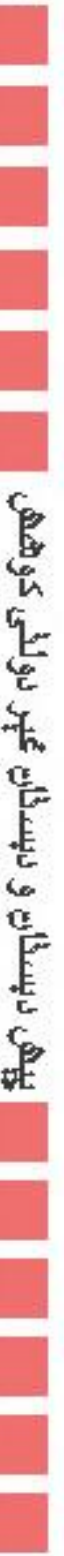
۶- فرزند با دقتم، با توجه به کلمه‌های داده شده جدول را کامل کن.

				ر		
		ا		ا		
			ط			
					ا	
ع					ز	
					ح	
						ط

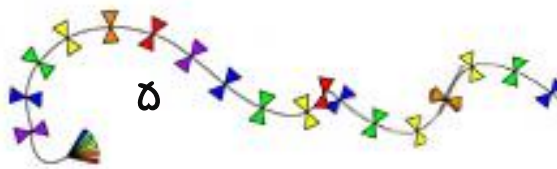




پیشہ درسیات و درسیات غیر درسی کو دیکھیں



تاریخ  
روز



۵

