



هفته نامه شماره ۲۸

در راه خدا
صید الخشب
 در راه خدا
الذکر الیک الفرج
 محمد رسول الله
 پیغام پر مهر سبحانی
یا صادق — **ازفان ادركنا**
 اللهم صل على محمد وآل محمد






نام و نام خانوادگی :

کلاس : دوم

سال تحصیلی : ۹۷-۹۶



۱- در متن قطره ، کلمه هایی را که نشانه ی (ط) دارند پیدا کن و بنویس.



۲- هر دو کلمه ی مخالف را مثل هم رنگ بزن.

گرما

زیبا

پایین

دور

بالا

نزدیک

بزرگ

آن طرف

این طرف

کوچک

زشت

سرما



۳- اگر تو به جای خورشید بودی چگونه با قطره صحبت می کردی که احساس ناراحتی نکند؟

۴- در جاهای خالی کلمه ی مناسب بگذار تا معنی جمله ها کامل شود.

.....+شنوا: کسی نمی تواند بشنود.

.....+هوش: کسی که هوش دارد.

..... ناراضی: یعنی

۵- جمله ها را کامل کن.

.....- دیروز علی درسش را

.....- اکنون من به بازار

.....- مادرم فردا از سفر

۶- جاهای خالی را کامل کن.

..... = تشنه +ان

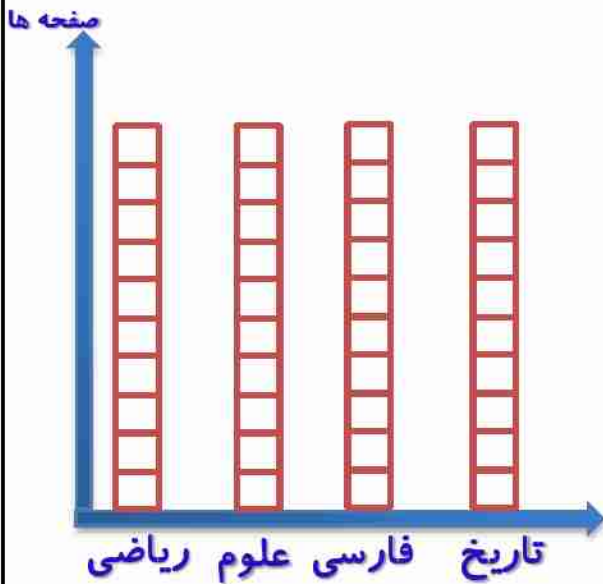
..... = درخت +ان

..... = دیده +ان





۱- در هفته ی گذشته حمیده ۴ صفحه از کتاب ریاضی ، ۷ صفحه از کتاب علوم ، ۴ صفحه از کتاب فارسی و ۵ صفحه از کتاب تاریخ خود را مطالعه کرده است. جدول و نمودار مربوط به مطالعه ی حمیده را در هفته ی گذشته کامل کن.



| عنوان درس | چوب خط | تعداد |
|-----------|--------|-------|
| ریاضی | | |
| علوم | | |
| فارسی | | |
| تاریخ | | |

حمیده در هفته ی گذشته چند صفحه مطالعه کرده است؟

کدام درس ها را به یک اندازه مطالعه کرده است؟

بیشترین مطالعه ی حمیده مربوط به کدام درس است؟

۲- جای خالی را کامل کن پسرم.





..... تا تایی می شود.....

..... تا تایی می شود.....

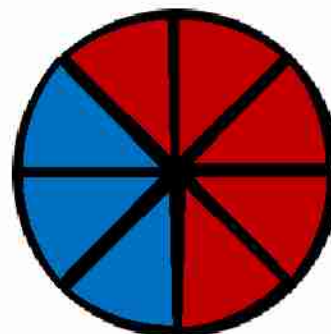
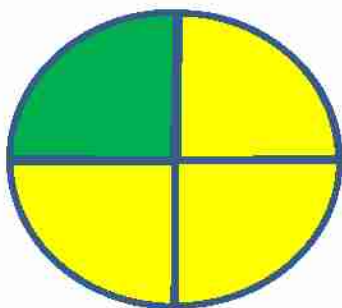


۳- اعداد داخل دایره به کدام یک از اعداد داخل مربع نزدیکتر است؟

رنگ کن.



۴- در هر هدف احتمال برخورد تیر به رنگ ها را بنویس.



----- احتمال بیشتر

----- احتمال بیشتر

----- احتمال کمتر

----- احتمال کمتر

۵- سارا ۳۴۹ ریال و سمانه ۵۲۱ ریال پول دارد. پول این دو نفر با هم

تقریباً چند ریال است؟





۱- کدام یک از مواد جای بیشتری می گیرد؟

- الف) یک حبه قند ب) یک دانه لوبیا
- ج) یک دانه عدس د) یک دانه شکر

۲- کدام یک از مواد، از گیاه به دست نمی آیند؟

- الف) میوه ها ب) قند و شکر ج) خاک د) حبوبات

۳- کدام یک از مواد زیر مایع نیست؟

- الف) آب لیمو ب) بنزین ج) دوغ د) یخ

۴- برای برگزاری یک جشن در کلاس کدام گزینه مهم تر است؟

- الف) همکاری ب) مهربانی ج) دوستی د) چابکی

۵- در کدام یک از موارد زیر گرما باعث تغییر حالت می شود؟


- الف) پسته ب) بادام ج) شکلات د) تخمه کدو





۱- همیشه غذا را با نام شروع می کنیم و بعد از غذا.....

۲- یک جمله درباره ی احساس خود به امام زمان (عج) بنویس.



۳- روز تولد امام زمان (عج) روز است و ما آن را جشن می گیریم و منتظر ظهورش هستیم.

۴- نام پادشاه ظالم زمان حضرت ابراهیم (ع) ، بود که تصمیم گرفت حضرت ابراهیم (ع) را در بسوزاند اما به فرمان خدا آتش شد و تبدیل به باغی سرسبز شد.

۵- کدام به معنای « انار » است؟

- الف) تین ب) رطب ج) ارمان د) زیتون



خوشبختی

ما را از حق تعالی
برساند و ما را
عالمی در عالم
عالمی در عالم

* پسرم کلمات زیر را به تحریر بنویس.

برایم:

فراوان:

قدیمی:

ایمان:

وجود:



از معجزه سبزی ها برای درمان چاقی بیشتر بدانید



نعناع یکی از سبزی هایی است که مصرف آن در میان وعده های غذایی و پیش غذاها می تواند به کاهش اشتها و پیشگیری از تجمع چربی ها کمک کند. چه بهتر که از این سبزی به صورت تازه استفاده کنید.

کرفس روزی ۲ لیوان آب کرفس و کیوی بنوشید و فراموش نکنید که هرگز گیاه



کرفس را جایگزین آب آن نکنید، زیرا کرفس بعد از آبیگری دچار تغییراتی می شود که راحت تر می تواند به شکستن سلول های چربی در بدن کمک کند.

شوید شوید خشک شده را به ماست کم چرب اضافه کنید و از آن در میان وعده ها یا به عنوان دسر در وعده های غذایی میل کنید. شوید خشک یکی از بهترین چربی سوزهاست.



دارچین دارچین هم از جمله ادویه هایی است که به دلیل طبع گرمی که دارد می تواند تاثیر مستقیم بر افزایش سرعت سوخت و ساز بدن بگذارد.



هل اضافه کردن یک تا ۲ دانه هل به چای روزانه می تواند به کاهش تجمع چربی ها و افزایش سرعت شکسته شدن سلول های آنها کمک کند.





سوال هایی از مجله رشد نو آموز شماره ۸

*پریم برای پاسخگویی به سوالات زیر به مجله رشد نو آموز شماره ۸ مراجعه کنید.

۱- چرا روز شهادت استاد مطهری را روز معلم نامیدند؟

۲- پسر م صفحه ۸ و ۹ مجله ات را بخوان سپس بگو وقتی در بازی برنده می شویم، در برابر نفر بازنده باید چه کار کنیم؟

بعضی ها وقتی در بازی برنده می شوند.....

۳- حضرت محمد (ص) در مورد پاداش درختکاری چه فرمودند؟

۴- پسر م صفحه ۲۲ و ۲۳ مجله ات را بخوان و بگو شما چه راهی می توانی پیدا کنی تا از آمدن زلزله باخبر شوی؟

۵- خط اشک در یوزپلنگ ها مثل برای آدم هاست و با به آن ها کمک می کند. تا بهتر ببینند.

۶- داستان لک لک های آبی را بخوان و بگو چرا در گذشته به روستاها آبادی می گفتند؟



معما و سرگرمی

پسر گلم طرح زیر را به دلخواه رنگ بزن و به سوالات زیر با کمک بزرگتره‌هایت پاسخ بده.

القاب آن حضرت

نام پدر و مادر:



نام مسجد آن حضرت:

محل تولد:





امتیاز هفته نامه

پیام مدرسه :

معلم

معاون

مشاور

خوشنویسی



بایاد معلم شهید، استاد مرتضی مطهری

روز معلم گرامی باد.

نظر ولی محترم:



دبستان و آمادگی غیر دولتی صدر

آدرس: ضلع شمال شرقی میدان ولعصر، کوچه شهید حسن ملانی، بلاک ۸

تلفن: ۸۸۸۹۹۷۸۰-۸۸۸۹۹۱۸۷ - فکس: ۸۸۸۰۱۱۴۱

www.sadrSchool.net