



پیک آدینه

شماره: هفته دوم اردیبهشت

پایه: دوم

نام و نام خانوادگی:

۲۲ اردیبهشت روز معلم گرامی باد



دستان ویدیش دستان غیردولتی دخترانه صدرا

۱) کدام کلمه ی زیر را می توان ۲ بار پشت سر هم تکرار کرد؟

«شادی می گوید: دوستم، آرام دوست دارد یواش غذا بخورد.»

الف) آرام ☺ ب) یواش ☺ ج) غذا ☺ د) دوست ☺

۲) کدام کلمه با بقیه هم معنی نیست؟

الف) محافظت ☺ ب) حفاظت ☺ ج) مواظبت ☺ د) نظامت ☺

۳) کدام کلمه شکل «ع ع ع» نمی گیرد؟

الف) آ....از ☺ ب)ید ☺ ج) شم.... ☺ د) ا....ضا ☺

۴) کدام کلمه با بقیه مشترک نیست؟

الف) خواسته ☺ ب) خوانده ☺ ج) بخوان ☺ د) نخواندیم ☺

۵) به کدام کلمه «تر» یا «ترین» می توان اضافه کرد؟

«زینب ده ها کبوتر را گوشه ی حرم دور از جمعیت دید.»

الف) گوشه ☺ ب) حرم ☺ ج) جمعیت ☺ د) دور ☺

۶) در جمله ی زیر کدام کلمه اوّل و آخر جمله قرار می گیرد؟

خدا - محبت و مهربانی - را - من - به دیگران - که - می گوید - مادرم - به -

کسانی - دوست دارد - را - کنند

الف) خدا - کنند ☺ ب) من - می گوید ☺

ج) مادرم - دوست دارد ☺ د) کسانی - می گوید ☺

۷) علامت پایان کدام گزینه با بقیه متفاوت است؟

الف) چه گل های شادابی ☺ ب) آفرین بر دانش آموزان سخت کوش ☺

ج) کی به مسافرت می روی ☺ د) چه باغ های سرسبزی ☺

۸) کدام کلمه با «ها» و «ان» جمع بسته می شود؟

الف) میوه ☺ ب) گل ☺

ج) توپ ☺ د) کودک ☺

۱) کوچک ترین عدد دورقمی با رقم های تکراری بالاتر از ۷۰ هستم.

- الف) ۹۹ ☺ ب) ۶۶ ☺ ج) ۷۷ ☺ د) ۸۸ ☺

۲) در جاهای خالی چه اعدادی می تواند قرار بگیرد؟

$$۱۰ + ۱۰ + ۲۰ + \square + ۵ + ۳ + ۵ + \square + ۱ = ۷۰$$

- الف) ۱۰ و ۶ ☺ ب) ۹ و ۶ ☺ ج) ۷ و ۹ ☺ د) گزینه «الف و ج» ☺

۳) با وصل کردن ۴ عدد در صفحه ی ساعت می توان داخل آن یک مربع رسم کرد. فاصله ی این اعداد چند تا است؟

- الف) ۲ تا ۲ ☺ ب) ۳ تا ۳ ☺ ج) ۴ تا ۴ ☺ د) ۵ تا ۵ ☺

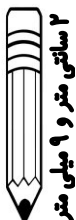
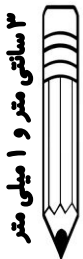
۴) بلندی طول ۳ مداد رنگی ارنیکا و دلسا به ترتیب عبارت است از:

مجموع طول ۳ مداد ارنیکا و دلسا است.

- الف) ۱۵ میلی متر ☺ ب) ۱۵ سانتی متر ☺

- ج) ۱۱ سانتی متر و ۵ میلی متر ☺

- د) ۱۲ سانتی متر و ۵ میلی متر ☺





۵) جای خالی در الگوی عددی مقابل چه عددی است؟ ۴۹ - ۳۶ - ۲۵ -

الف) ۱۴ ☺ ب) ۱۵ ☺ ج) ۱۶ ☺ د) ۱۷ ☺

۶) مادر پرینان روز شنبه ساعت ۸:۴۰ به گل هایش آب داد. او هر روز ۲۰ دقیقه بعد شب گذشته به گل هایش آب می دهد، در روز چهارشنبه چه ساعتی باید به گل هایش آب بدهد؟

الف) ۹ ☺ ب) ۹:۲۰ ☺ ج) ۹:۴۰ ☺ د) ۱۰ ☺

۷) آوا می خواهد برای تولد برادرش یک هدیه ی ۹۱۸ تومانی بخرد که ۳۸۹ تومان کم دارد. در حال حاضر آوا چند تومان دارد؟

الف) ۵۳۹ ☺ ب) ۵۲۹ ☺ ج) ۵۹۲ ☺ د) ۵۹۳ ☺

۸) مادر پریا برای دوختن آش ۲ بسته عدس و ۱ بسته نخود استفاده کرده است. اگر هر بسته عدس ۲۸۱ دانه و هر بسته نخود ۳۱۹ دانه باشد، پس: از حبوبات نخود، دانه حبوبات عدس است.

الف) ۸۸۱ - ۵۶۲ ☺ ب) ۵۶۲ - ۸۸۱ ☺

ج) ۵۶۲ - ۲۸۱ ☺ د) ۸۸۱ - ۲۸۱ ☺

۹) آرتمیس ۲ شاخه گل سفید و ۱ شاخه گل قرمز که قیمت هر شاخه ۳۲۰

تومان بود برای مادرش خرید. او برای خرید گل چه قدر پول لازم دارد؟

الف) ۳۲۰ تومان ☺ ب) ۶۶۰ تومان ☺

ج) ۹۶۰ تومان ☺ د) ۹۳۰ تومان ☺

۱۰) چند بسته ی ۳ تایی می شود ۱۲ تا؟

الف) ۲ ☺ ب) ۳ ☺ ج) ۴ ☺ د) ۵ ☺

۱۱) مجموع کوچک ترین عدد سه رقمی فرد با بزرگ ترین عدد دورقمی زوج

عدد است.

الف) فرد ☺ ب) زوج ☺ ج) هر دو ☺ د) هیچ کدام ☺

۱) اصلی ترین ماده ی غذایی مردم ایران است.

- (الف) نان ☺ (ب) گوشت ☺ (ج) میوه ☺ (د) لبنیات ☺

۲) کدام جمله صحیح است؟

(الف) مصرف بیش از حد شوینده ها اثر بدی بر محیط زندگی دارد. ☺

(ب) نکات ایمنی روی برچسب ها در هنگام استفاده از مواد شوینده مؤثر نیست. ☺

(ج) آب سرد و مواد شوینده در پاکیزگی بسیار مؤثر است. ☺

(د) مایع ظرفشویی و دستشویی تفاوتی در عمل شست و شو ندارند. ☺

۳) کدام یک از مواد زیر بر اثر گرما به مایع تبدیل می شود؟

- (الف) بستنی ☺ (ب) شربت ☺ (ج) میوه ☺ (د) پنیر ☺

۴) کدام جمله درست است؟

(الف) می توان به جای لبنیات فقط بستنی خورد. ☺

(ب) انواع لبنیات را پاکیزه و سالم باید مصرف کرد. ☺

(ج) خوردن شیر تا سن نوجوانی لازم است. ☺

(د) گزینه ی «الف و ب» ☺

۵) کدام جمله صحیح است؟

- الف) آب رودخانه بهداشتی و غیرقابل آشامیدن است. ☺
- ب) همه ی جانداران برای رشد به آب سالم نیاز ندارند. ☺
- ج) برای جانداران اطراف رودخانه با آب آلوده اتّفاقی نمی افتد. ☺
- د) برخی از کارهای انسان آب رودخانه را آلوده می کند. ☺

۶) کدام جمله صحیح نیست؟

- الف) چرخش زمین به دور خودش روز و فصل را به وجود می آورد. ☺
- ب) چرخش زمین به دور خورشید فصل ها را به وجود می آورد. ☺
- ج) تغییر دمای آب در اثر گرما یا سرما ناگهانی اتّفاق نمی افتد. ☺
- د) در تابستان و زمستان خورشید در آسمان دیده می شود. ☺

۷) باد کدام خاک را نمی تواند جابه جا کند؟

- الف) گلدانی که گیاه در آن کاشته شده است. ☺
- ب) گلدانی با خاک ماسه ای ☺
- ج) گلدانی با خاک مرطوب ☺
- د) گزینه ی «الف و ج» ☺

۸) کدام علامت برای ناینایان مؤثر نیست؟

الف) صدای گربه 😊 ب) دست زدن دوانگشتی 😊

ج) تاباندن نور چراغ قوه 😊 د) دمیدن در بطری خالی 😊

۹) کدام تعریف مربوط به چشمه ی نور است؟

الف) چیزهایی که از خود نور ندارند. 😊

ب) چیزهایی که برای دیدن آن ها نور لازم است. 😊

ج) چیزهایی که از خود نور بدهند. 😊

د) گزینه ی «الف و ب» 😊

۱۰) در کشور ما از کدام انرژی برای تولید برق استفاده می شود؟

الف) باد 😊 ب) نور خورشید 😊

ج) گرمای خورشید 😊 د) هر سه گزینه 😊

۱) تعداد رکعت کدام نماز با بقیه متفاوت است؟

- الف) عصر ☺ ب) ظهر ☺ ج) مغرب ☺ د) عشا ☺

۲) صدای اذان نشانه ی است.

- الف) خواندن نماز جماعت ☺ ب) خواندن نماز در مسجد ☺

- ج) دعوت ما به نماز ☺ د) دعوت به وضو گرفتن ☺

۳) ما مسلمانان هر روز در پایان نماز

- الف) الحمد لله می گوئیم. ☺ ب) بسم الله می گوئیم. ☺

- ج) به یکدیگر سلام می کنیم. ☺ د) به پیامبر خدا درود می فرستیم ☺

۴) سومین امام ما در روز به دنیا آمد و در روز شهید شد.

- الف) عاشورا - نیمه شعبان ☺ ب) نیمه شعبان - عاشورا ☺

- ج) سوم شعبان - عاشورا ☺ د) سوم شعبان - نیمه شعبان ☺

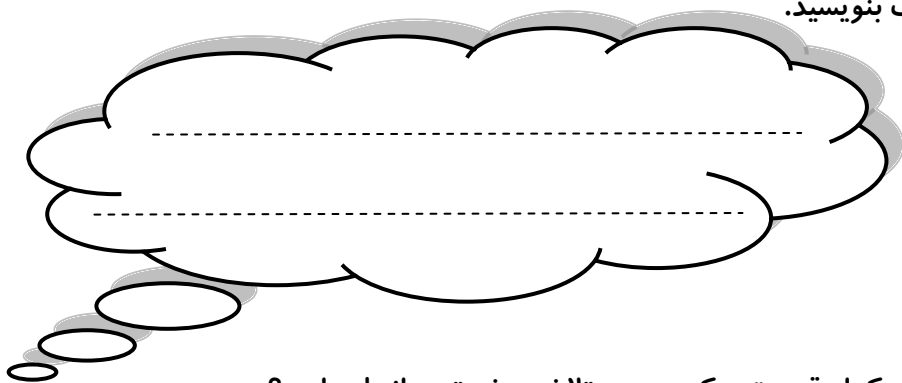
۵) یکی از فرزندان امام علی (ع) که در روز پانزدهم رمضان به دنیا آمد؟

- الف) امام حسن (ع) ☺ ب) امام حسین (ع) ☺

- ج) امام مهدی (عج) ☺ د) امام سجاد (ع) ☺

ولی محترم لطفاً نظر خود را در رابطه با تلاش دختر عزیزمان، برای تهیه و انجام


پیک بنویسید.



- در کدام قسمت پیک سعی و تلاش بیش تری انجام دادی؟



- مهربونم، چه ساعتی شروع به تهیه پیک کردی؟



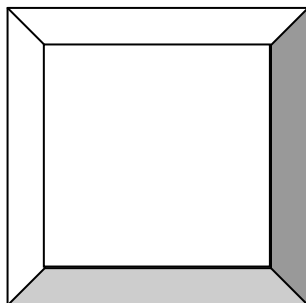
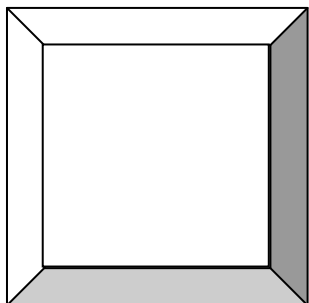


- گلم، چه ساعتی پیک را تمام کردی؟

نظرت درباره پیک:

A large, rectangular box with rounded corners and a decorative border. It contains a dashed horizontal line across its center, intended for a student to write their final thoughts or feedback.

افراد برتر هفته ...



آدرس: بلوار فردوس غرب - بهار شمالی - منوچهری غربی - دبستان دفترانه غیردولتی صدرا

تلفن: ۴۴۱۶۰۳۱۸ - ۴۴۱۵۴۰۷۰