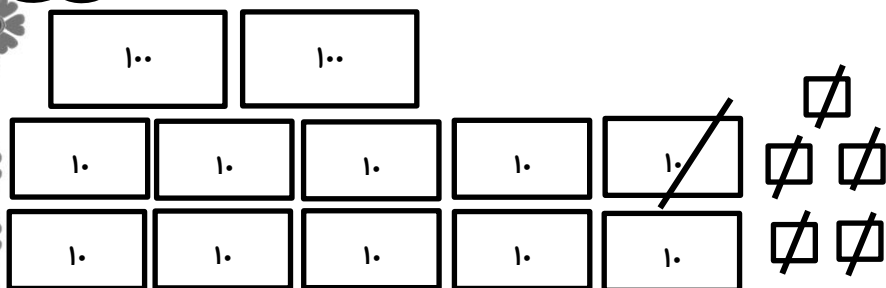




۱. با توجه به شکل مورد نظر جمع و تفریق بنویسید.



۲. در جای خالی عدد مناسب بنویسید.

۱۳ میلی متر همان سانتی متر میلی متر است.

۱۴۵ میلی متر همان میلی متر سانتی متر است.

..... برابر است با ۵ یکی ۱۲ ده تایی ۶ صدتایی.

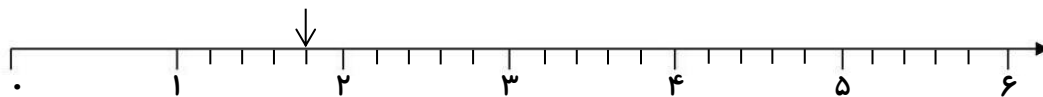
۴۵۷ برابر است با یکی ده تایی ۳ صدتایی

عدد ۴۵ را می توان به صورت ده تایی قسمت از ۱۰ بیان کرد.

۳. با توجه به محورهای کشیده شده و نقطه مشخص جاهای خالی را کامل کنید.




نقطه ی مشخص شده واحد و قسمت از قسمت مساوی را نشان می دهد.



نقطه ی مشخص شده واحد و قسمت از قسمت مساوی را نشان می دهد.

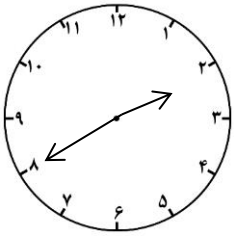
۴. با توجه به شکل کامل کنید.



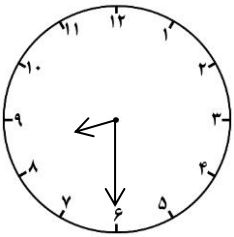
..... تا تایی می شود.

..... تا تایی می شود.

۵. ساعت را بنویسید و با توجه به تغییرات ساعت دوم را نیز بنویسید.



یک ساعت ربع دیگر



سه ساعت و نیم دیگر

۶. در روز نیمه شعبان دانش آموزان مدرسه مدینه النبی (ص) ۲۴۱ کتاب و مدرسه ریحانه النبی (س) ۱۹۶ کتاب به دانش آموزان زلزله زده کرمانشاه هدیه داده اند. الف) این دو مدرسه روی هم چند کتاب هدیه داده اند؟ ب) کدام مدرسه کتاب بیشتری هدیه داده اند و چقدر؟

فارسی

۷. عبارت های زیر را طوری که شبیه متن درسی نباشد ادامه دهید و کامل کنید.

خورشید لبخندی بر

در جشن نیمه شعبان مردم

۸. به کلمات زیر « ناه، بی، باه، ان، گر، کار» اضافه کن و با آن ها جمله بساز.

راحت :

گذشته:

هدف:

شامی :

علوم

۹. لانه برای جانوران چه فایده هایی دارد؟

۱۰. می خواهیم شکلات را از حالت جامد به مایع تبدیل کنیم باید چکار کنیم؟