

کلاس: دوم

بسمه تعالی

نام خانوادگی:

تلاش آدینه:

دبستان غیردولتی بحرالعلوم

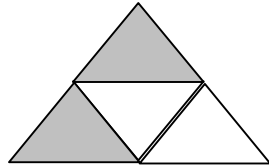

نام:

۱- مرتضی ۱۲ دایره کشیده است ۳ تا را قرمز، ۵ تا را آبی کرده است. چند تا از دایره ها رنگ نشده است؟

۲- با سه رقم (۴،۳،۶) بزرگ ترین عدد سه رقمی فرد را بنویس؟

۳- یک چرخ ۶ پره دارد؟ حساب کنید سه تا چرخ چند تا پره دارد؟

۴- در مورد هر شکل جملات را کامل کن؟



..... قسمت از قسمت رنگ شده قسمت از قسمت رنگ شده

۵- اگر سه بسته ی صدتایی را باز کنیم، چند دسته ی ده تایی خواهیم داشت؟

۳۰۰ تا ۳۰ تا ۳ تا

۶- قاسم ۶۳۵ ریال و حمید ۵۷۳ ریال پول دارند. حساب آن ها روی هم چند ریال دارند؟ اگر هر کدام از آن ها ۱۰۰ ریال از پولستان را خرج کنند. چند ریال برای هر کدام باقی می ماند؟

جامد چیست؟ دو مثال بزنید؟

دندان شیری و همیشگی هر کدام چند تاست؟

شیری : همیشگی :

مراحل رشد را به ترتیب نام ببرید؟


دو دانه یک قسمتی و دو دانه ی دو قسمتی نام ببرید؟

یک قسمتی : دو قسمتی :

برای حل جدول کلمه های معنی داری پیدا کن که با دو حرف « ت » و « و »

شروع شوند.

				ر	و	ت	ا
					و	ت	۳
					و	ت	۳
					و	ت	۴



موفق باشی پسر کلم