

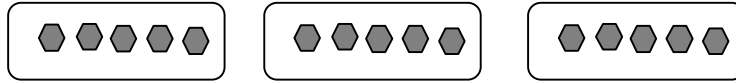


برای هر یک از شکل های زیر یک جمع و یک ضرب بنویسید .



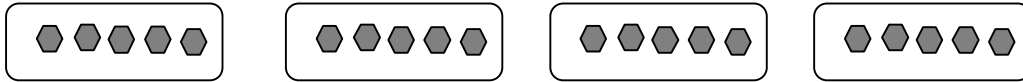
جمع : $5 + 5 = 10$

ضرب : $2 \times 5 = 10$



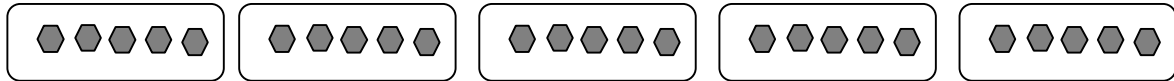
جمع :

ضرب :



جمع :

ضرب :



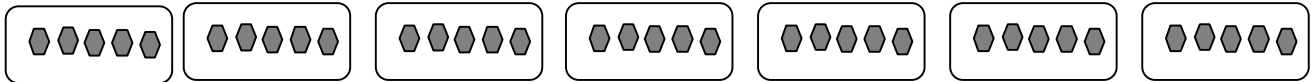
جمع :

ضرب :



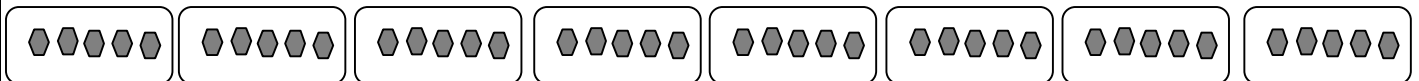
جمع :

ضرب :



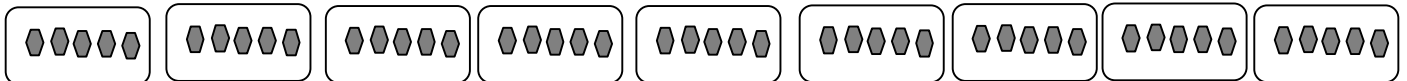
جمع :

ضرب :



جمع :

ضرب :



جمع :

ضرب :