

دبستان غیر دولتی بحر العلوم

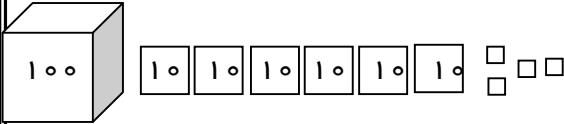
نام:

سلام دوست عزیز!

۱ - اگر به اندازه‌ی کافی استراحت کردی حالا کمی ریاضی تمرین کن تا خوب ورزیده شوی.

- تفریق ۱۶۴ را روی شکل نشان بده . و باقی مانده را بنویس .

$$\underline{\quad ۴۳ \quad}$$



۲ - در جاهای خالی کلمه‌ی مناسب بگذار . (کمتر است - بیشتر است - برابر است)

یک متر با صد سانتیمتر است .

۷۶ سانتیمتر از یک متر .

یک متر و ۳۰ سانتی متر از ۱۲۵ سانتی متر است .

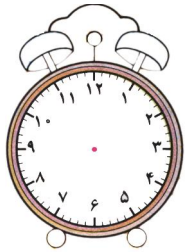
۳ - حاصل جمع دو عدد ۸۹۹ و ۱ چیست؟

الف) ۹۹۹

ب) ۹۰۰

ج) ۹۹۰

۴ - ساعت ۱۵ دقیقه مانده به ۶ را روی شکل نشان بده.



۵ - برای جمع زیر شکل بکش و جواب آن را بنویس.

$$\begin{array}{r} ۲۷۹ \\ + ۴۵۸ \\ \hline \end{array}$$

۶ - علامت مناسب $>$ $=$ $<$ بگذارید .



۱۲۶ سانتیمتر \bigcirc ۱ متر و ۱۶ سانتیمتر

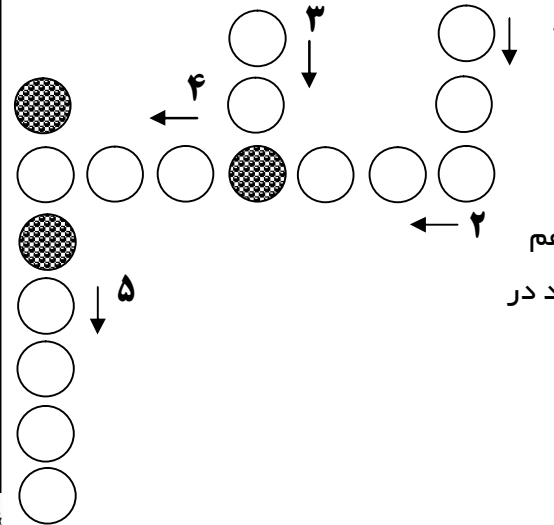
$۲۷ + ۱۰$ \bigcirc $۲۷ + ۱$

۷ - چه کارهای انجام می‌دهی تا امام زمان (عج) تو را بیش تر دوست داشته باشد؟

۲ مورد).....

۸ - در هنگام غذا خوردن چه کارهایی باید انجام دهی؟ (۳ مورد).....

جدول ریاضی



۱ - نام دیگر به علاوه است .

۲ - دانش

۳ - بزرگترین عدد یک رقمی

۴ - باقی مانده‌ی تفریق دو عدد مثل هم

۵ - اولین رقم از سمت راست هر عدد در

چه مکانی قرار دارد .