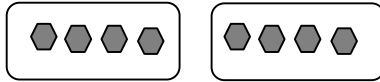
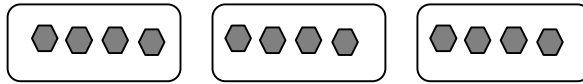


برای هر یک از شکل های زیر یک جمع و یک ضرب بنویسید .



جمع : $4 + 4 = 8$

ضرب : $2 \times 4 = 8$



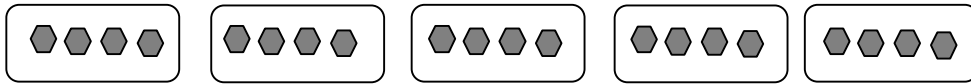
جمع :

ضرب :



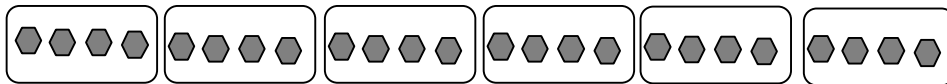
جمع :

ضرب :



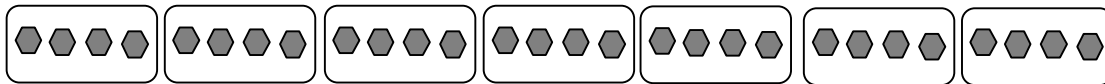
جمع :

ضرب :



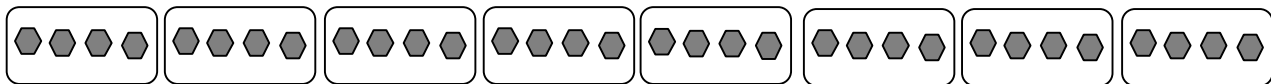
جمع :

ضرب :



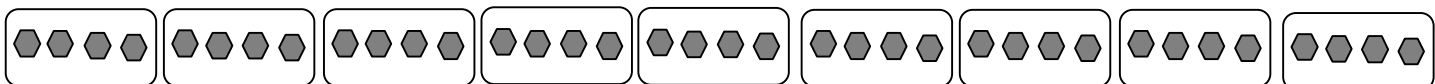
جمع :

ضرب :



جمع :


ضرب :



جمع :

ضرب :

۱ - ما مکعب ها را روی هم گذاشته ایم ، تا تو آن ها را بشماری . راستی در این شکل چند مکعب وجود دارد ؟



۲ - سرخپوست در رودخانه ی پر پیچ و خمی پارو می زند ، تا خود را به ساحل برساند . و تو باید راه ساحل را به او نشان دهی .

