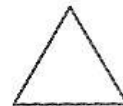
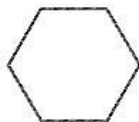





۱ در زیر هر شکل، نام آن شکل و تعداد ضلع‌ها و گوشه‌های آن را بنویس.



ضلع _____

ضلع _____

ضلع _____

گوشه _____

گوشه _____

گوشه _____

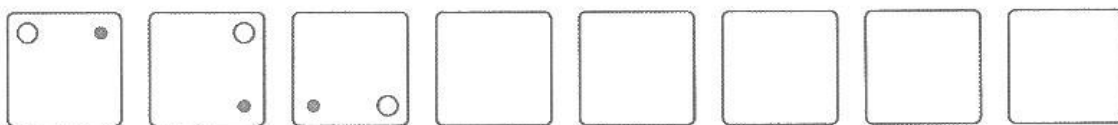
۲ برای این دو شکل یک شباهت و یک تفاوت بنویس.



شباهت _____

تفاوت _____

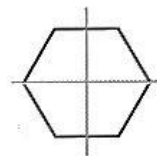
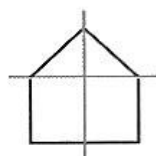
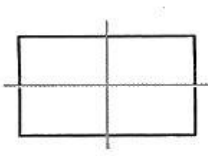
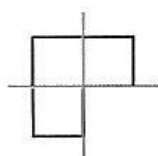
۳ الگوهای زیر را ادامه بده.



۴ - ۵ - ۷ - ۱۰ - - - - -

- - - - - ۲۴ - ۲۶ - ۲۸

۴ گردی شکلهایی را که به چهار قسمت کاملاً شبیه به هم تقسیم شده است، رنگ بزن.



۵ کامل کن.



.....



ساعت ۱۲ و ۵ دقیقه

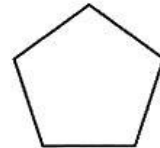
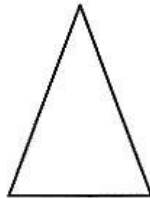

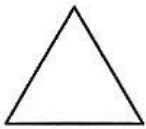


.....



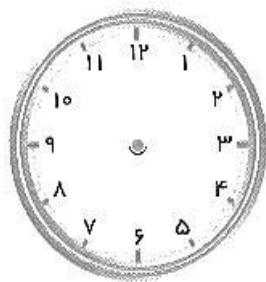
ساعت یک ربع از یازده گذشته

۶ در کدام یک از شکل‌ها همه‌ی ضلع‌ها با هم مساوی هستند؟ علامت x بزن.



۷) زنگ تفریح مریم ساعت ۹ است. اکنون ساعت ۸ و ۳۵ دقیقه است. چند دقیقه‌ی دیگر زنگ

تفریح مریم است؟



.....

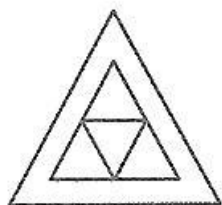
۸) الان ساعت یک ربع مانده به چهار را نشان می‌دهد. نیم ساعت بعد ساعت چه زمانی را نشان

خواهد داد؟



.....

۹) در شکل زیر چند مثلث می‌بینی؟ علامت × بزن.



۶ تا



۵ تا



۴ تا



۱۰) شکل زیر را با کمک خط‌کش به چهار قسمت مساوی تقسیم کن.

