



کلاس : دوم

هوالعلیم

نام فائودگی :

تلاش آدینه

دبستان غیردولتی بمرالعلوم

نام :

علامت >=< بگذار.

۹۲۸ ○ ۹۱۵

۱۴۵ + ۳ ○ ۱۴۸ + ۸

۶۰۸ ○ ۸۶

۲۰۳ ○ ۲۳۰

۱۴۰ - ۸ ○ ۱۴۰ + ۸

۳۴۵ + ۲۹ ○ ۴۰۰

۴ متر چند سانتی متر است؟

۵۹ سانتی متر بیش تر است یا ۲ متر و ۱۳ سانتی متر؟

در مستطیل ضلع های روبه رو با هم هستند.




ساعت ۴ و ۵۵ دقیقه یعنی دقیقه مانده به

در عدد ۹۵۳ سومین رقم از سمت راست است که به آن می گویند.

هر صد سانتی متر متر است.

بزرگترین عدد زوج سه رقمی و کوچکترین عدد زوج سه رقمی است.

نام هر شکل را بنویس.



فاطمه در کتابخانه ی خود ۴۵ کتاب دارد، زهرا در کتابخانه ی خود ۲۸ کتاب دارد

تعداد کتاب های زهرا چه قدر کمتر از کتاب های فاطمه است؟

آن ها روی هم چند کتاب دارند؟

در یک باغ ۵۰۰ نهال میوه کاشتند، و روز بعد هم ۱۰۰ نهال دیگر کاشته، در این

باغ چند نهال کاشته شده است؟

در دبستان بحر العلوم، کلاس سوم ۲۹ دانش آموز دارد کلاس چهارم ۲۸ دانش

آموز و کلاس پنجم ۳۰ دانش آموز دارد. این کلاس ها با هم چند دانش آموز

دارند؟

علی ۹۵۰ تومان پول داشت یک دفتر به قیمت ۴۵۰ تومان و یک کتاب داستان

به قیمت ۲۵۰ تومان خرید. او چند تومان از پولش را خرج کرده است؟

علی ۲۷ ساله است و پدرش ۲۵ سال از او بزرگتر است، پدر علی چند سال

دارد؟

برای درست کردن بتون ۴۵ کیلوگرم ماسه ۱۶۰ کیلوگرم شن و ۹۰ کیلوگرم سیمان

را مخلوط کردند. وزن این مخلوط چند کیلوگرم است؟

جاده ی کاشان - قم ۱۴۵ کیلو متر است. ۸۵ کیلومتر از این جاده آسفالت شده است

چند کیلومتر از این جاده درست نشده است؟

زهرة برای دوختن ماتتو ۳ متر و برای دامن ۱۴۰ ساتی متر پارچه لازم دارد. زهره

چند متر و چند ساتی متر پارچه باید تهیه کند؟

طول یک اتاق ۲۸۰ ساتی متر است برای اتاق یک فرش خریده اند طول فرش ۳ متر

است. طول فرش چه قدر بیش تر از طول اتاق است؟

وزن امیر ۴۲ کیلوگرم است. وزن محمد ۸ کیلوگرم کمتر از امیر است. وزن محمد چند

کیلوگرم است؟

دهگان عددی ۵ و صدگان بزرگترین عدد یک رقمی و یکانش ۰ این عدد را بنویسید؟

جمع و تفریق های زیر را انجام دهید؟

$$\begin{array}{r} ۳۴۵ \\ + ۲۶ \\ \hline + ۱۷۲ \end{array}$$

$$\begin{array}{r} ۹۵۰ \\ + ۳۴ \\ \hline + ۳۷ \end{array}$$

$$\begin{array}{r} ۴۶ \\ + ۳۸ \\ \hline + ۹۹ \end{array}$$

$$\begin{array}{r} ۷۸ \\ + ۹ \\ \hline + ۲۶ \end{array}$$

$$\begin{array}{r} ۴۰۵ \\ - ۹۳ \\ \hline \end{array}$$

$$\begin{array}{r} ۲۴۶ \\ - ۱۷۹ \\ \hline \end{array}$$

$$\begin{array}{r} ۵۰۰ \\ - ۸۳ \\ \hline \end{array}$$

$$\begin{array}{r} ۱۲۷ \\ - ۱۹ \\ \hline \end{array}$$

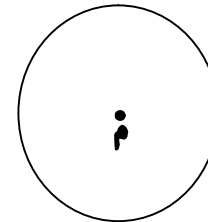
در جای خالی علامت جمع یا تفریق بگذار.

$$۳۰۰ \bigcirc ۳۰۰ = ۶$$

$$۴۰۰ \bigcirc ۱۰۰ = ۳۰۰$$


$$۷۰۰ \bigcirc ۳۰۰ = ۴۰۰$$

$$۲۰۰ \bigcirc ۱۰۰ = ۳۰۰$$



برای دایره روبه رو سه شعاع بکشید.

با رقم و حروف بنویس.



شش صد و سی و یک



نهصد و چهل و هفت

۸۹۰



۳۴۵

