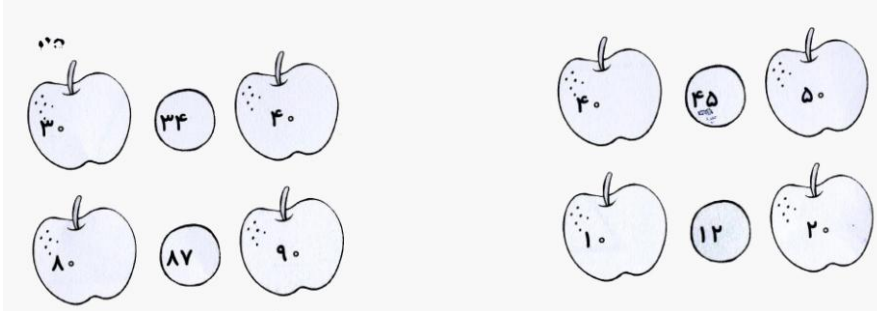





تاریخ:

۱- حمید می خواهد عددهای زیر را به صورت تقریبی بیان کند . اما نمی داند هر عدد به کدام ده تایی نزدیک تر است . با رنگ زدن به او

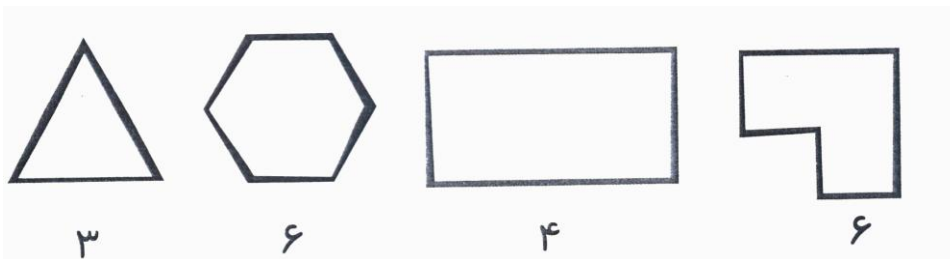
کمک کن .



۲- چند قسمت از شکل رنگ نشده است ؟



۳- با توجه به عدد هر شکل ، آن ها را به قسمت های مساوی تقسیم کن .



۴- اگر عقربه ی بزرگ ساعت ۱۵ دقیقه حرکت کند چه کسری از ساعت را طی کرده است ؟

آن را رنگ کن .




۵- محمد ، مهدی و رضا تصمیم گرفتند که ماشین های مختلف را در مسیر خانه تا مدرسه بشمارند و برای آن نمودار بکشند . تعداد کدام

ماشین بیش تر است ؟

ماشین	پراید	پژو	پیکان	سمند
تعداد	۸	۱۶	۶	۱۰

نمودار را کامل کن .



۶- حسن سن ۵ نفر از اعضای خانواده اش را یادداشت کرده و می خواهد آن ها را به صورت تقریبی بیان کند. به او کمک کن و

اعضای خانواده	مادربزرگ	مادر	پدر	برادر	خواهر
سن واقعی	۶۷	۴۵	۴۹	۱۴	۷
سن تقریبی					

جاهای خالی را کامل کن .

چه کسی بیش ترین ست را دارد .

برادر و خواهر روی هم چند سال دارند ؟

۷- جاهای خالی عدد مناسب بنویس .

