

به نام خداوند مهربان

نام دانش آموز: دبستان پسرانه ی شهیدان مودنی دی ماه

نام آموزگار: زارع جعفری آزمون مداد کاغذی ریاضی

سوال ۱_ جمع و تفریق زیر را با کمک شکل انجام بده.


+۳۴

۲۳

_ ۴۷

۲۴

سوال ۲_ شکل زیر چه عددی را نشان می دهد؟ در جدول قرار بده و سپس به رقم و حروف بنویس.



صدگان	دهگان	یکان
.....

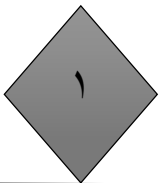
به حروف :

به رقم :

$$۳+۲۰+۵+۲+۱۰+۵۰ = \dots\dots\dots$$

سوال ۳_ جمع زیر را انجام بده.

سوال ۴_ این دو شکل چه شباهت و چه تفاوتی باهم دیگر دارند؟





شباهت :

تفاوت :

۲ ، ۳ ، ۵ ، ۸ ، ، ،

سوال ۵_ الگوی روبرو را ادامه بده.

سوال ۶_ کدام شکل روبرو خط تقارن ندارد؟





سوال ۷_ ساعت چند است ؟

یک ربع بعد چه ساعتی می شود ؟

۱:۳۰ دقیقه قبل ، چه ساعتی بوده است ؟

سوال ۸_ با سه کارت ۵ ، ۲ ، ۷ تمام عددهای سه رقمی که می توان ساخت را بنویس.

.....

سوال ۹_ در باغ پدر علیرضا ۲۴ درخت سیب و ۳۵ درخت انار وجود دارد . پدر علیرضا در باغش چند درخت سیب و انار دارد؟

بازخورد عملکرد دانش آموز

انتظارات معلّم	خ	خ	ق	ق	ن
توانایی انجام جمع و تفریق عددهای دو رقمی را به صورت فرایندی دارد و روی شکل نشان می دهد.					
تفاوت و شباهت اشکال هندسی را به خوبی می داند .					
الگوی عددی را می تواند ادامه بدهد.					
خط تقارن را می شناسد و به خوبی رسم کند.					
می تواند ساعت را به خوبی بخواند و مفهوم ربع و زمان قبل را می داند.					
با سه کارت می تواند اعداد سه رقمی بسازد.					
در حل مسأله با دقت عمل می کند.					

بازخورد معلّم :

خودسنجی:

از حل سوال های لذّت برد.

باید تلاش خود را در.....بیشتر کنم.