

نام و نام خانوادگی:	نام پدر:	نام کلاس: دوم	مدیریت آموزش و پرورش منطقه زواره	نام درس: ریاضیات	مدت امتحان: ۵۰ دقیقه
نام آموزگار: خانم عبدالرزاق	نام و نام خانوادگی مصحح:	تعداد صفحه:	کارشناس نخب و ارزشیابی تحصیلی	پایه: دوم	تاریخ امتحان:
شماره دانش آموزی:	نام و نام خانوادگی مصحح:	تعداد صفحه:	آموزشگاه: شهید مهدی حاج کتابی	صفحه: ۱	امضا

سوالات

۱ جمله درست را با علامت و جمله نادرست را با علامت مشخص کن

عدد ۱۵۲ یک عدد سه رقمی است.

بزرگ ترین عدد یک رقمی ۱۰ است.

در عدد ۴۵۷ رقم ۷ بیش ترین ارزش را دارد.

در چند ضلعی تعداد ضلع ها و گوشه ها با هم برابر است.

۲ شکل روبرو مربوط به کدام عدد است ؟

الف ۲۱۴ ب ۱۲۴ ج ۲۱۴ د ۲۲۴

۳ زنگ مدرسه ی آرمان ساعت ۷:۳۰ به صدا درمی آید و بعد از یک ربع مراسم صبحگاهی دانش آموزان با صف به کلاس می روند؛ آرمان و دوستانش چه ساعتی وارد کلاس می شوند ؟

الف (هفت و نیم ب) یک ربع مانده به ۸ ج) هفت و ربع د) ۸

۴ کامل کنید .

۸۴۰ یعنی دسته صدتایی و دسته ده تایی و یکی

۵ دسته صدتایی و ۴ دسته ده تایی و ۶ یکی می شود

۷ دسته ده تایی یعنی یکی

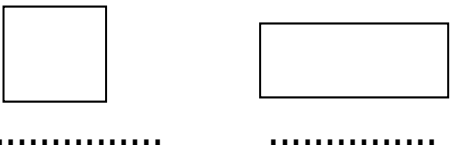

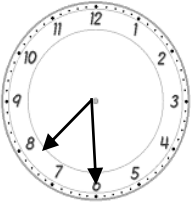
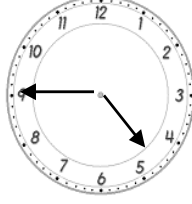
۵ این عددها را به رقم و حروف بنویس.

رقم	۴۰۲	۵۲۰
حروف	دویست و سی و چهار	سیصد و پنچ

۶ رقم های ۷ و ۲۰ و ۲۰۰ عدد سه رقمی بساز .

بزرگترین عدد

کوچک ترین عدد

<p>۲۲-۲۴.....و.....و.....</p> <p>۴۵-۴۲.....و.....و.....</p>	<p>۷ الگوهای عددی را ادامه بده . .</p>
$\begin{array}{r} 12 \\ +30 \\ \hline \end{array}$	<p>۸ حاصل جمع و تفریق را با به صورت فرایندی حساب کن .</p> $\begin{array}{r} 46 \\ +22 \\ \hline \end{array}$ $\begin{array}{r} 65 \\ -19 \\ \hline \end{array}$
$\begin{array}{r} 34 \\ +26 \\ \hline \end{array}$	<p>۹ حاصل را به صورت تقریبی بنویس .</p> $\begin{array}{r} 68 \\ -25 \\ \hline \end{array}$
	<p>۱۰ نام هر شکل را بنویس و آن دو را با هم مقایسه کن .</p> <p>شباهت:</p> <p>تفاوت:</p>
	<p>۱۱ با توجه به خط تقارن؛ نیمه ی دیگر شکل را بکش .</p>
 <div data-bbox="319 1556 558 1624" style="border: 1px solid black; padding: 5px; margin: 5px;">.....</div> <div data-bbox="319 1668 558 1736" style="border: 1px solid black; padding: 5px; margin: 5px;">.....</div>	<p>۱۲ این زمان ها را به دو صورت بنویس.</p>  <div data-bbox="861 1590 1109 1657" style="border: 1px solid black; padding: 5px; margin: 5px;">.....</div> <div data-bbox="861 1691 1109 1758" style="border: 1px solid black; padding: 5px; margin: 5px;">.....</div>
<p>۱۳ کتاب داستان حمید ۷۵ صفحه دارد؛ او دیروز ۹ صفحه و امروز ۶ صفحه از کتابش را خوانده است .</p> <p>الف) حمید چند صفحه از کتابش را خوانده است ؟</p> <p>ب) حمید چند صفحه از کتاب را هنوز نخوانده است ؟</p>	

انتظارات				جدول توصیف عملکرد :
ن	ق	خ	خ خ	
				درک درستی از عدد و رقم دارد و به سوالات مربوطه به درستی پاسخ داده است.
				عدد را به رقم و حروف می نویسد.
				می تواند عدد سه رقمی بسازد.
				جاهای خالی را به درستی کامل کرده است .
				الگوهای عددی را به درستی ادامه داده است .
				جمع و تفریق فرایندی را به درستی انجام می دهد .
				به درستی تقریب می زند و پاسخ جمع و تفریق را به دست می آورد .
				اشکال هندسی را می شناسد و تفاوت و شباهت آن ها را بیان می کند .
				به سوالات مربوط به ساعت به درستی پاسخ داده است .
				با توجه به خط تقارن نیمه ی دیگر شکل را کامل کرده است .
				مسئله را به درستی حل کرده است .

خود سنجی:

ایا از پاسخ دادن به سوالات راضی هستم؟

انچه می دانستم :

اما انچه نمی دانستم: