
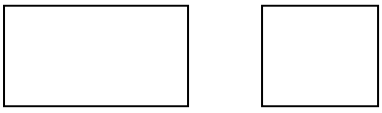



تاریخ: مدت آزمون : ۵۰ دقیقه	بسمه تعالی اداره آموزش و پرورش منطقه زواره دبستان هجرت	نام و نام خانوادگی: نام پدر: سوالات در سه صفحه
تصحیح	سوالات	ردیف
	با عدد ۲ - ۴ - ۵ چند عدد سه رقمی می توان نوشت؟	-۱
	<p>الگوی عددی را ادامه بده.</p> <p>۳ - ۶ - ۹ -      -      -      -      -</p> <p>۱۲۵ - ۱۳۰ -      -      -      -      -</p>	-۲
	اگر علی ۱۰ تا سکه ۱۰ ریالی به بانک بدهد ، بانک باید چند سکه به او بدهد؟	-۳
	<p>مسئله ی زیر را روی محور انجام بد هید.</p> <p>۱۴ پرنده روی درخت بودند. ۶ تا پرنده ها پریدند. حالا چند پرنده روی درخت مانده است ؟</p> 	-۴
	<p>در کنار شکل تعداد ضلع و گوشه ها را بنویسید.</p> <p>چند ضلع ----- چند گوشه ----- نام شکل -----</p> <p>تفاوت -----</p> <p>شباهت -----</p> 	-۵

۶- علی ساعت ۱۰:۴ مشغول درس خواندن شد. بعد از نیم ساعت درسش تمام شد. روی ساعت آن را

نشان بده و بگو علی چند ساعت درسش تمام شده است؟



۷- قبل و بعد عددهای زیر را بنویس.

----- دویست ----- ، ----- ۱۲۷ ----- ، ----- ۵۹ -----

----- نود و هشت ----- ، ----- ۲۴۶ ----- ، ----- ۱۰۹ -----

۸- زهرا می خواهد با پول قلک هایش مداد بخرد. به او کمک کنید تا ۴۳۵ ریال را دسته بندی کند.



-۹

جمع و تفریق های زیر را انجام دهید.

$۹۰ - ۴۰ =$

$۷۹$

$۷۶$


$۵ + ۵ + ۴۰ + ۳۰ =$

$$\begin{array}{r} ۷۹ \\ + ۲۰ \\ \hline \end{array}$$

$$\begin{array}{r} ۷۶ \\ - ۲۲ \\ \hline \end{array}$$

۱۰

با کمک شابلون دایره و مثلث و شش ضلعی رسم کنید و تقارن آن را بکشید.



عدد ۷۴۶ چند رقمی است ؟

به حروف بنویسید -----

ارزش کدام عدد کمتر است ؟ -----

۱۱

برای عدد داده شده شکل بکش.

در جدول ارزش مکانی قرار بده .

کم	متوسط	تسلط خوب	تسلط کامل	توصیف عملکرد
				<p>مفهوم عدد و رقم را درک کرده است.</p> <p>الگوی عدد را نوشته است.</p> <p>مسئله را با راه حل خواسته شده انجام داده است.</p> <p>تعداد ضلع و گوشه و تقارن را در شکل های هندسی تشخیص داده است و شباهت و تفاوت را نوشته است.</p> <p>جمع و تفریق را انجام داده است.</p> <p>ساعت و مفهوم زمان را درک کرده است.</p> <p>قبل و بعد عددها را می داند.</p>

باز خورد آموزگار:

من یاد نگرفتم:

خود سنجی: من یاد گرفتم:

پس :