



پایه دوم

نام و نام خانوادگی:

۱ مانند نمونه عمل کنید.



۲ ده تایی

۲۰

بیست

ده تایی	یکی

_____ یکی و _____ ده تایی



ده تایی	یکی

_____ یکی و _____ ده تایی

۲ جاهای خالی را با عدد مناسب پر کنید.

۳۶ برابر است با _____ یکی و _____ ده تایی

۵۲ برابر است با _____ ده تایی و _____ یکی

عدد _____ برابر است با ۸ ده تایی و ۰ یکی

عدد _____ برابر است با ۷ یکی و ۹ ده تایی

۳ در شکل چند ده تایی و چند یکی می بینید؟ در جای خالی بنویسید.





_____ به رقم:


_____ به حروف:

ده تایی	یکی


۴ ساعت چند است؟







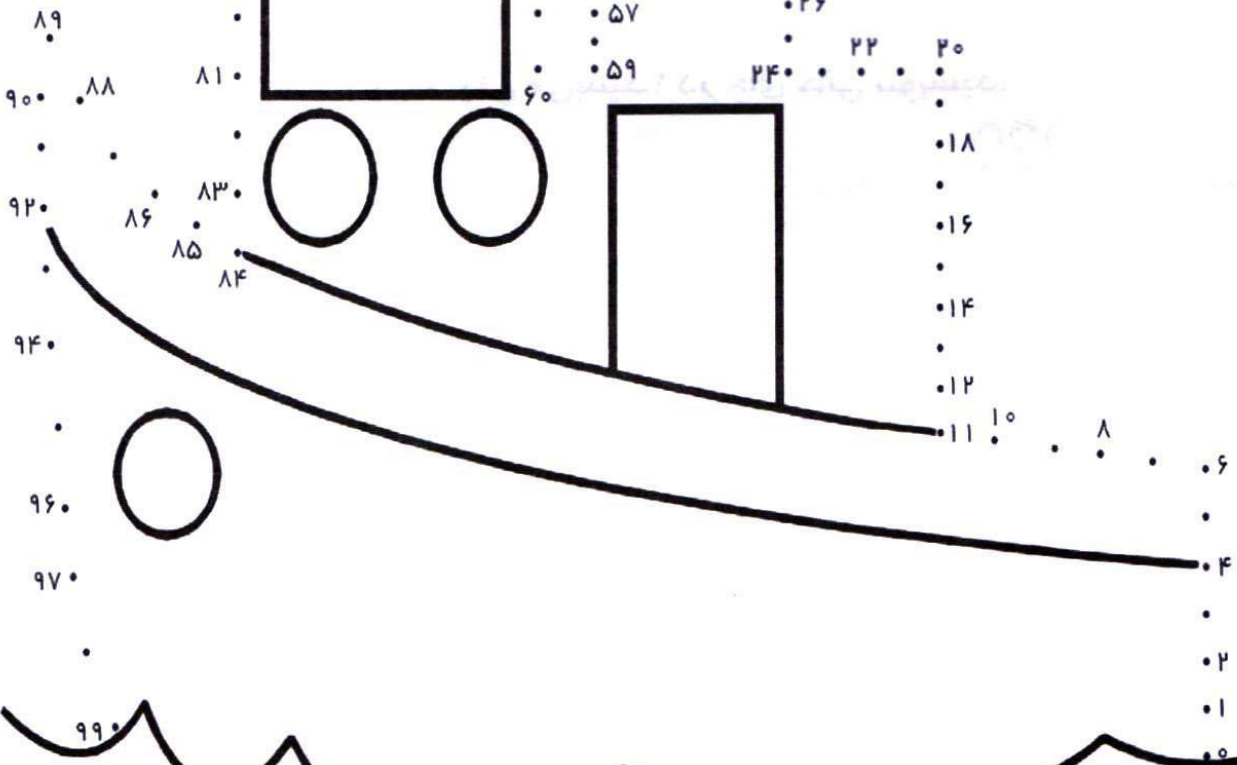
۵ ابتدا عددها را کامل و سپس نقطه‌ها را به ترتیب به هم وصل کنید.



۴۵ ۴۴ ۴۲ ۴۰ ۳۹
 ۴۶ ۳۸
 ۴۸ ۳۶

۷۴ ۷۲ ۷۰ ۶۸ ۶۷ ۶۹ ۳۴
 ۷۵ ۵۱ ۳۲
 ۶۶ ۳۰

۷۶ ۷۷ ۶۴ ۵۳
 ۷۸ ۶۵ ۵۳ ۳۰
 ۷۹ ۶۳ ۲۸
 ۶۲ ۲۶
 ۵۷ ۲۲ ۲۰
 ۵۹ ۲۴ ۲۰



۸۹ ۸۸
 ۹۰ ۸۱
 ۸۳
 ۹۲ ۸۶ ۸۵ ۸۴
 ۸۱
 ۹۴ ۸۰
 ۷۹
 ۹۶ ۷۷
 ۹۷ ۷۶
 ۷۵
 ۹۹ ۷۴

. ۱۸
 ۱۶
 ۱۴
 ۱۲
 ۱۱ ۱۰ ۸ ۶
 ۴
 ۲
 ۱
 ۰