



به نام خدا

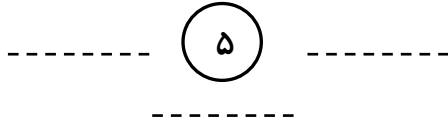
دبستان دخترانه غیر دولتی بهار مدرسی

نام و نام خانوادگی:

تاریخ:

ریاضی

۱- دخترم جدول نظام دار زیر را کامل کن.



۲- در جای خالی عدد مناسب بنویس.

$$\cdot + \square = 6$$

$$3 + \square = 10$$

$$\square + 2 = 5$$

$$\square + 4 = 8$$

۳- با عدد و حروف بنویس.

۳۲

۱۹

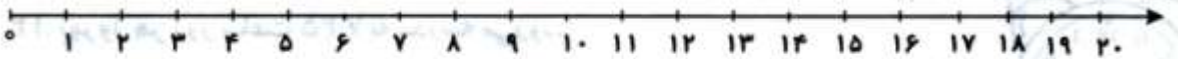
صد

شصت و هفت

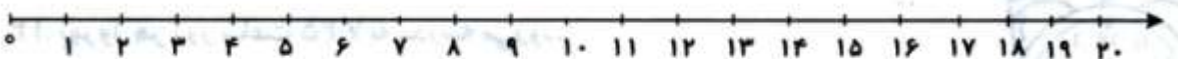
۱- جمع و تفریق روبه رو را روی محور نشان دهید.

$$15 - 7$$

=



$$14 + 2 - 5$$



۵- مینا ۱۵ کتاب دارد امروز ۶ کتاب دیگر خرید. حالا او چند کتاب دارد؟ (جلو نویسی و عبارت)



به نام خدا

دبستان دخترانه غیر دولتی بهار مدرسی

نام و نام خانوادگی:

تاریخ: ۹۶ / ۷ / ۲۸

ریاضی


۶- نوشتن عددها را ادامه بده.

..... - - - - - - - - - - ۱۰ - ۲۰

..... - - - - - - - - - - سی - سی و پنج - چهل

۷- شکل های زیر را بشمار و دسته کن سپس در جای خالی عدد مناسب قرار بده.

ده تایی	یکی



..... ده تایی و یکی.

۸- رقم یکان عددی ۰ و دهگان آن شش است. این عدد را بنویس.

..... با عدد با حروف

۹- یک عدد دو رقمی بنویس که دهگانش ۹ باشد و یکانش دو تا کمتر از دهگانش باشد.

..... با عدد با حروف

۱۰- با رقم های ۲ و ۹ چند عدد دو رقمی می توانی بنویسی؟ آنها را بنویس.

۱۱-۱۲ سیب در سبد بود، ۷ سیب دیگر در سبد گذاشتیم، ریحانه ۹ سیب از سبد برداشت. حالا در سبد چند

سیب وجود دارد؟ (جلونویسی و عبارت)



به نام خدا

دبستان دخترانه غیر دولتی بهار مدرسی

نام و نام خانوادگی:

تاریخ: ۲۸ / ۷ / ۹۶

ریاضی

۱۲- در جاهای خالی عدد مناسب بنویسید.

۲ دسته ی ده تایی به اضافه ۳ دسته ی ده تایی می شود دسته ی ده تایی .

۷ دسته ی ده تایی منهای ۵ دسته ی ده تایی می شود دسته ی ده تایی .

$$۲۰ + ۳۰ + ۲ =$$

$$۵ + ۴۰ + ۱۰ =$$

۱۳- حاصل جمع و تفریق را با هر روشی که می خواهید، پیدا کنید.

$$۵ + ۹ =$$

$$۱۶ - ۵ =$$

۱۴- الگوی شمارش رو به عقب را کامل کن.

..... ، ، ، ۲۸ ، ۳۲

..... ، ، ، ۴۲ ، ۴۵

۱۵- عددی دو رقمی هستم که رقم هایم مثل هم است و مجموع آن ها ۸ می شود. من چه عددی هستم؟