




۱. دخترم جدول زیر را کامل کن .

شکل	نام شکل	تعداد ضلع	تعداد گوشه

	مثث



۲. کدام یک از شکل های زیر ضلع های برابر دارد؟ آن را علامت بزن .



.....

.....

.....

.....

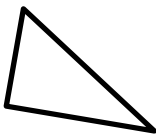
.....

شکل هایی که علامت زدی چند ضلع و چند گوشه دارند ؟

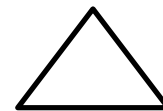
..... ضلع و گوشه

..... ضلع و گوشه

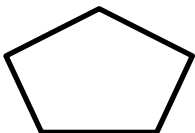
۳. شکل های زیر را به عبارت مناسب وصل کن .



۵ ضلع و ۵ گوشه دارد.



۳ ضلع نامساوی دارد.

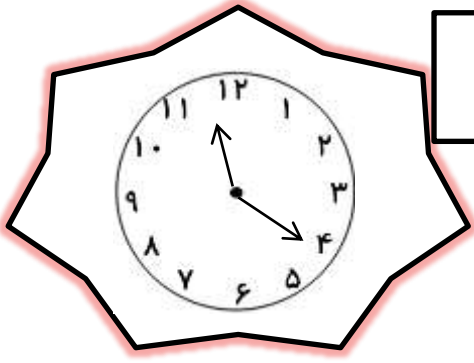


۴ ضلع مساوی دارد .

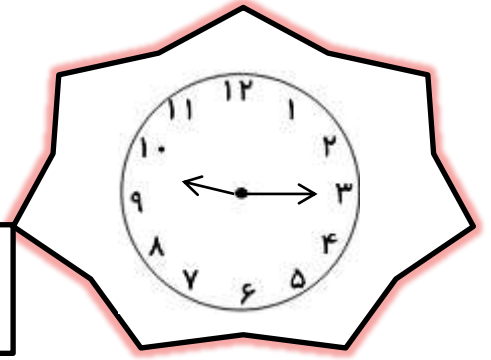


۳ ضلع برابر دارد.

۴. دخترم ساعت ها چه زمانی را نشان می دهد؟



ساعت و دقیقه
..... :

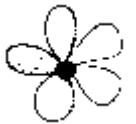


ساعت و دقیقه
..... :

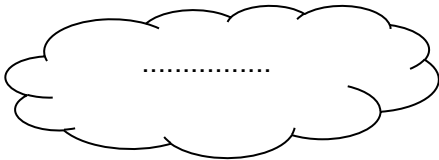
۵. الگوی عددی زیر را ادامه بده.

۱ - ۳ - ۵ - ۷ - و و
↘ ↘ ↘
+۲ +۲ +۲



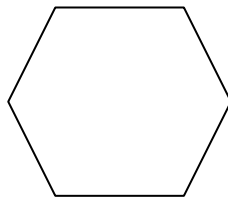


۲ - ۵ - ۹ - و و
↘ ↘
+۳ +۴



۶. در شمارش ۶ تا ۶ تا، چه عددی بعد از ۳۶ قرار می گیرد؟



۷. شکل های زیر را با کشیدن یک خط به دو قسمت مساوی تقسیم کن .



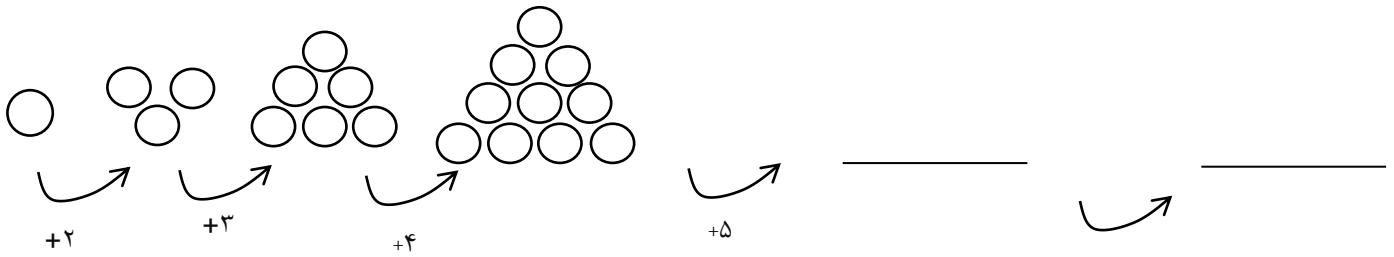
۸. شباهت و تفاوت شکل های زیر را بنویس.



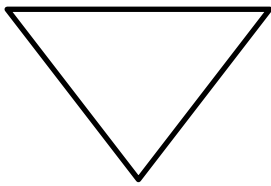
شباهت :

تفاوت :

۹. با رسم شکل الگوی زیر را ادامه بده و بنویس شکل ششم چند تا دایره خواهد داشت؟

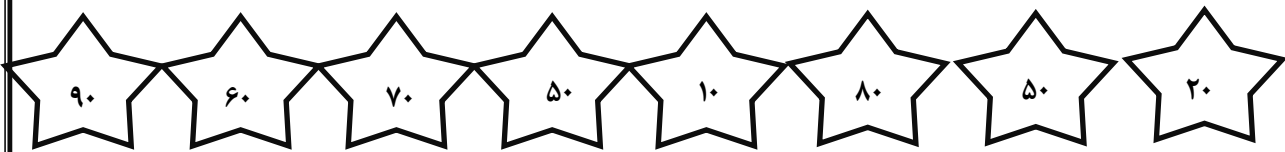
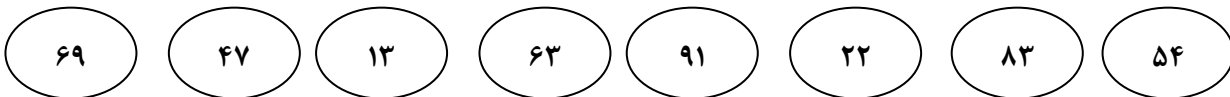


۱۰. وسط ضلع ها را پیدا کن و با خط کش به هم وصل کن.



۱۱. در مدرسه ی الغدير روز شنبه ۳۷ نفر و روز يكشنبه ۴۹ نفر در مسابقه ی شنا شرکت کردند . در این دو روز روی هم چند نفر در مسابقات شرکت کردند؟ (فرآیندی)

۱۲. تقریب عددهای زیر را به هم وصل کن .



۱۳* به جای علامت سوال چه عددی باید قرار بگیرد؟

سوال ستاره دار

$$\boxed{1} \xrightarrow{+1} \boxed{} \xrightarrow{+2} \boxed{} \xrightarrow{-3} \boxed{} \xrightarrow{+2} \boxed{} \xrightarrow{-1} \boxed{?}$$

هـ) ۵

د) ۴

ج) ۳

ب) ۲

الف) ۱

