



به نام خدا

دبستان دخترانه غیر دولتی بهار مدرسی

نام و نام خانوادگی :

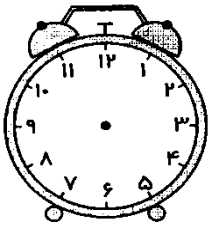
تاریخ :

پایه دوم


ریاضی

- ۱- جمله های صحیح را با علامت مناسب نشان بده.
- همیشه همه ی ضلع های مربع هم اندازه هستند.
- همیشه همه ی ضلع های مثلث هم اندازه هستند.
- همیشه ضلع های مستطیل هم اندازه هستند.


۲- ساعت های خواسته شده را روی شکل نشان بده.




۴:۱۵



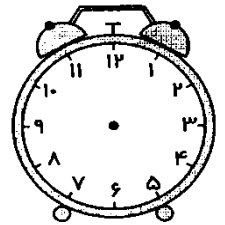
سه و نیم



۱۱:۴۵



چهار و ربع



۸:۳۰

۳- ستایش در دفتر خود ۴۲ شکل مثلث و مربع کشید. اگر ۱۲ تای آن ها مثلث باشد، چند تا مربع کشیده است؟

۴- عددهای ۳۷ و ۷۳ از چه رقم هایی درست شده است؟

دو رقم دیگر با این رقم ها بساز.

۵- هانا یک بسته آجیل دارد که در آن ۱۵ فندق، ۲۳ بادام، ۱۸ پسته و ۱۶ گردو دارد. هانا چند بادام و پسته و

فندق دارد؟



به نام خدا

دبستان دخترانه غیر دولتی بهار مدرسی

نام و نام خانوادگی:

تاریخ:

پایه دوم

ریاضی

۶- اگر امروز پانزدهم آبان باشد، یکشنبه هفته ی آینده چندم آبان ماه است؟

۷- تمام عددهای دو رقمی که مجموع رقم هایشان ۱۵ می شود را بنویسید.

۸- مینا دو سال از زهرا کوچک تر و ۴ سال از شیرین بزرگ تر است. اگر زهرا ۱۰ ساله باشد، شیرین چند ساله است؟

۹- چند عدد دو رقمی می توان نوشت که دهگان آن ها فرد و یکان آن ها کوچک تر از ۳ باشد؟ آن ها را بنویس

۱۰- من چه عددی هستم؟

(الف) من از کمترین عدد یک رقمی ۲ تا بیشتر هستم. ....

(ب) من رقم دهگان عدد ۷۵ هستم. ....

(ج) رقم یکان من ۵ و رقم دهگانم ۲ تا بیشتر از ۵ است. ....

(د) من رقم یکان عدد ۳۰ هستم. ....

(ه) من بیشترین عدد دو رقمی هستم. ....